





ВАРИАНТ 1

Назовите храм.
Что символизирует
количество куполов на
храме?



ВАРИАНТ 2



ВАРИАНТ 1

Перед вами – три этапа
существования древнерусского
храма.

Назовите храм.

ВАРИАНТ 2






Назовите элементы древнерусской архитектуры, представленные на иллюстрации.

ВАРИАНТ 1



Назовите собор.
Укажите, где он
находится.

ВАРИАНТ 2






ВАРИАНТ 1

Определите живописную технику.

ВАРИАНТ 2





ВАРИАНТ 1

Назовите собор и
укажите, где он
находится.

ВАРИАНТ 2





ВАРИАНТ 1

Назовите собор.
Укажите, где он находится.



ВАРИАНТ 2



ВАРИАНТ 1

Назовите храм.
Укажите, где он находится.

ВАРИАНТ 2





ВАРИАНТ 1

Назовите собор.
Укажите, где он
находится.

ВАРИАНТ 2





ВАРИАНТ 1

Назовите сооружение.
Укажите, где оно
находится.

ВАРИАНТ 2

