

Урок 4

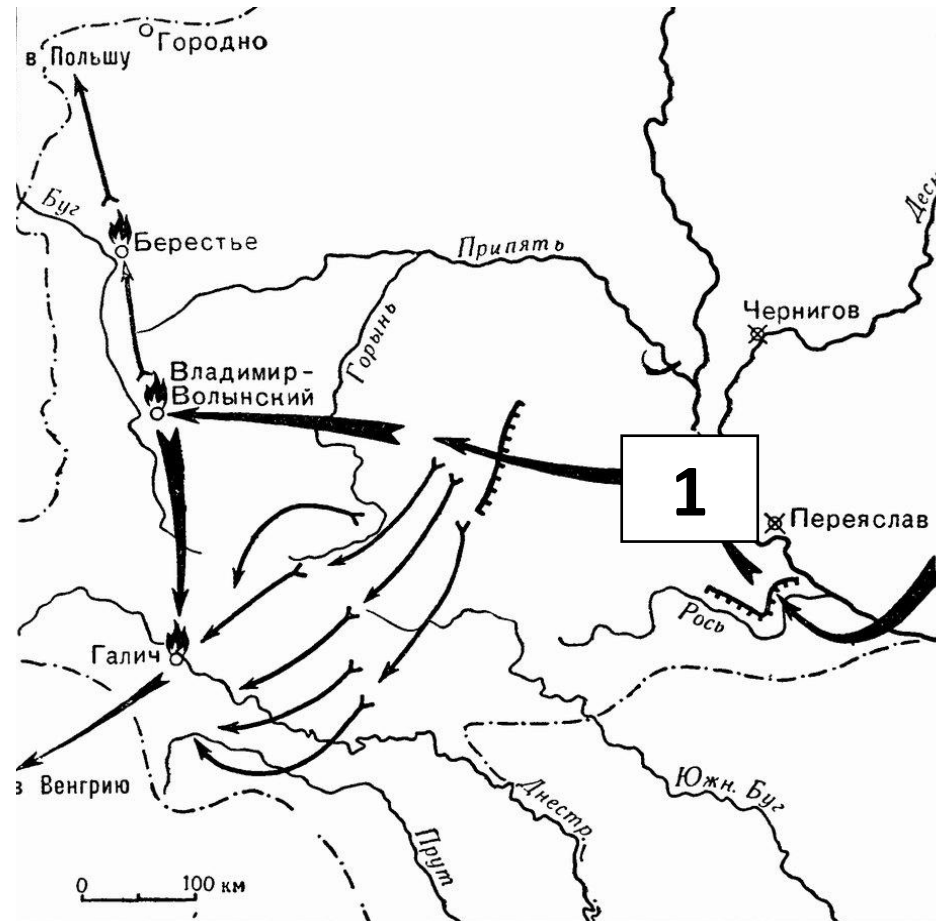
Русские земли в 14 веке



**Проверяем домашнее
задание**

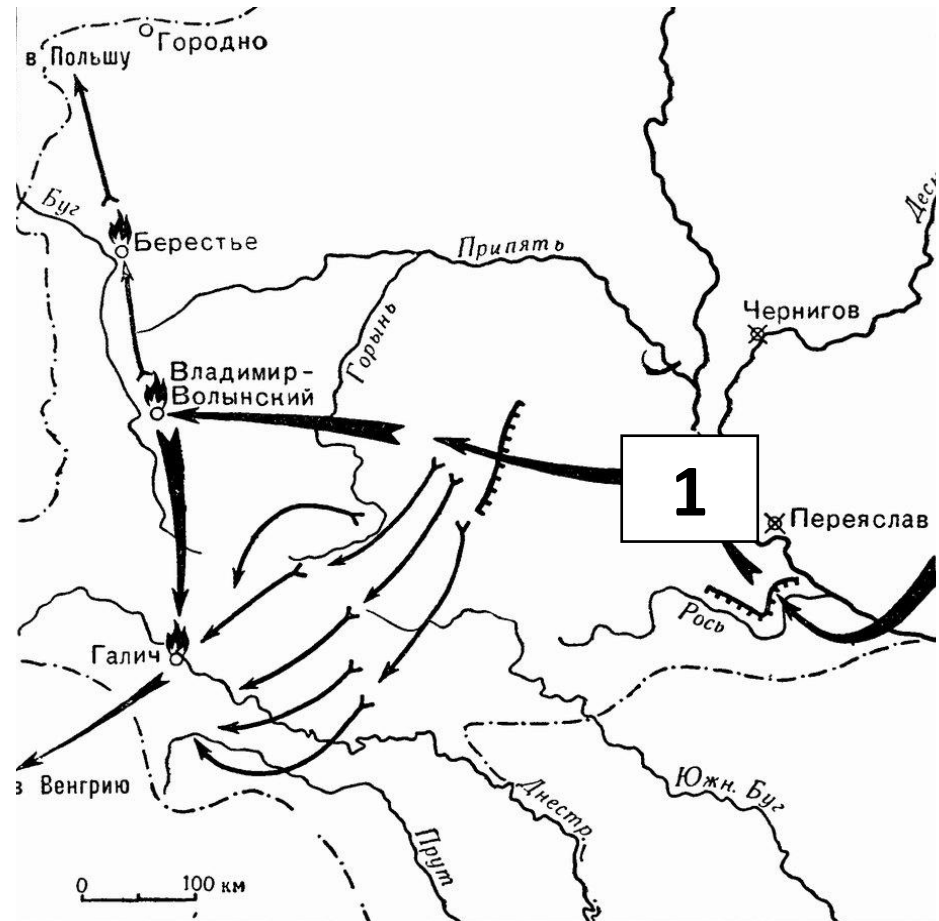
Тест

Укажите имя военачальника, поход которого обозначен стрелками на схеме.



Тест

Укажите название города, обозначенного на схеме цифрой «1».



Тест

Назовите имя и прозвище князя, владевшего городом, обозначенным на схеме цифрой 1 во время данных событий.

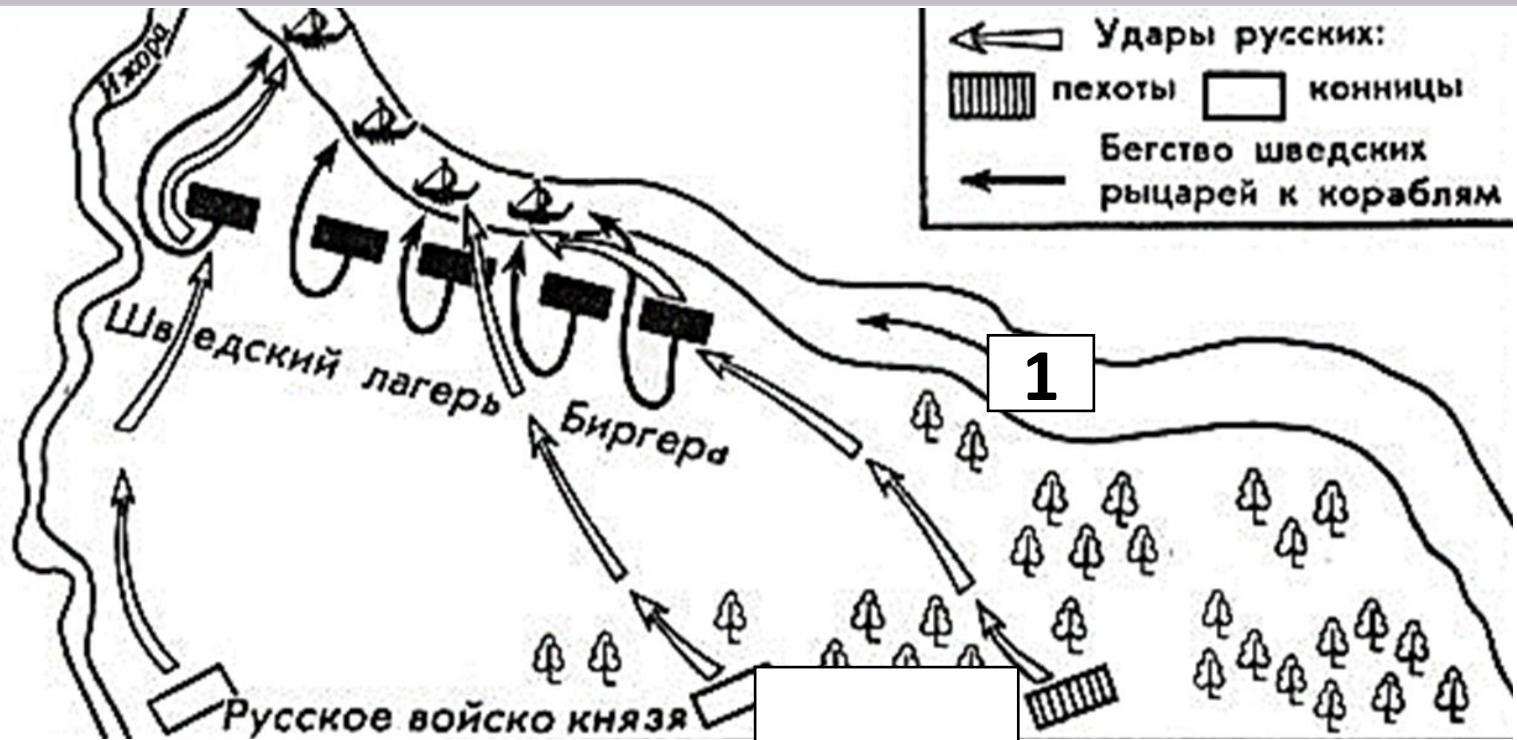


Тест

Какие суждения, относящиеся к событиям, обозначенным на схеме, являются верными?

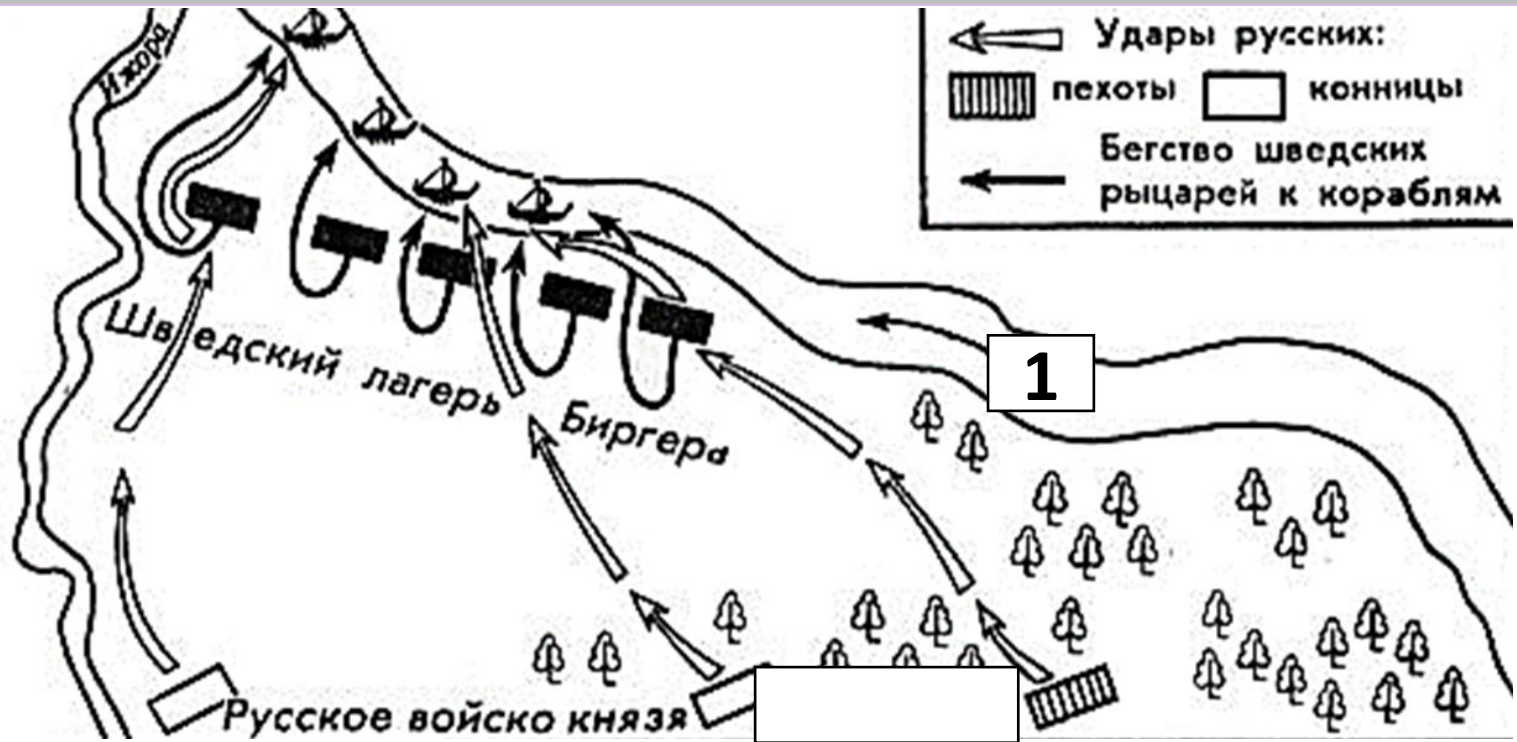
1. Первый поход данного завоевателя на русские земли закончился для него поражением.
2. Завоеватель, действия которого обозначены на схеме, прошел по территории Польши и Венгрии.
3. Активным участником событий, обозначенных на схеме, был Александр Невский.
4. Завоеватель, поход которого обозначен на схеме, разорил все русские княжества.
5. Поход, обозначенный на схеме, относится только к первой половине 13 века.
6. Битва на реке Сити не является частью событий, обозначенных на схеме.

Тест



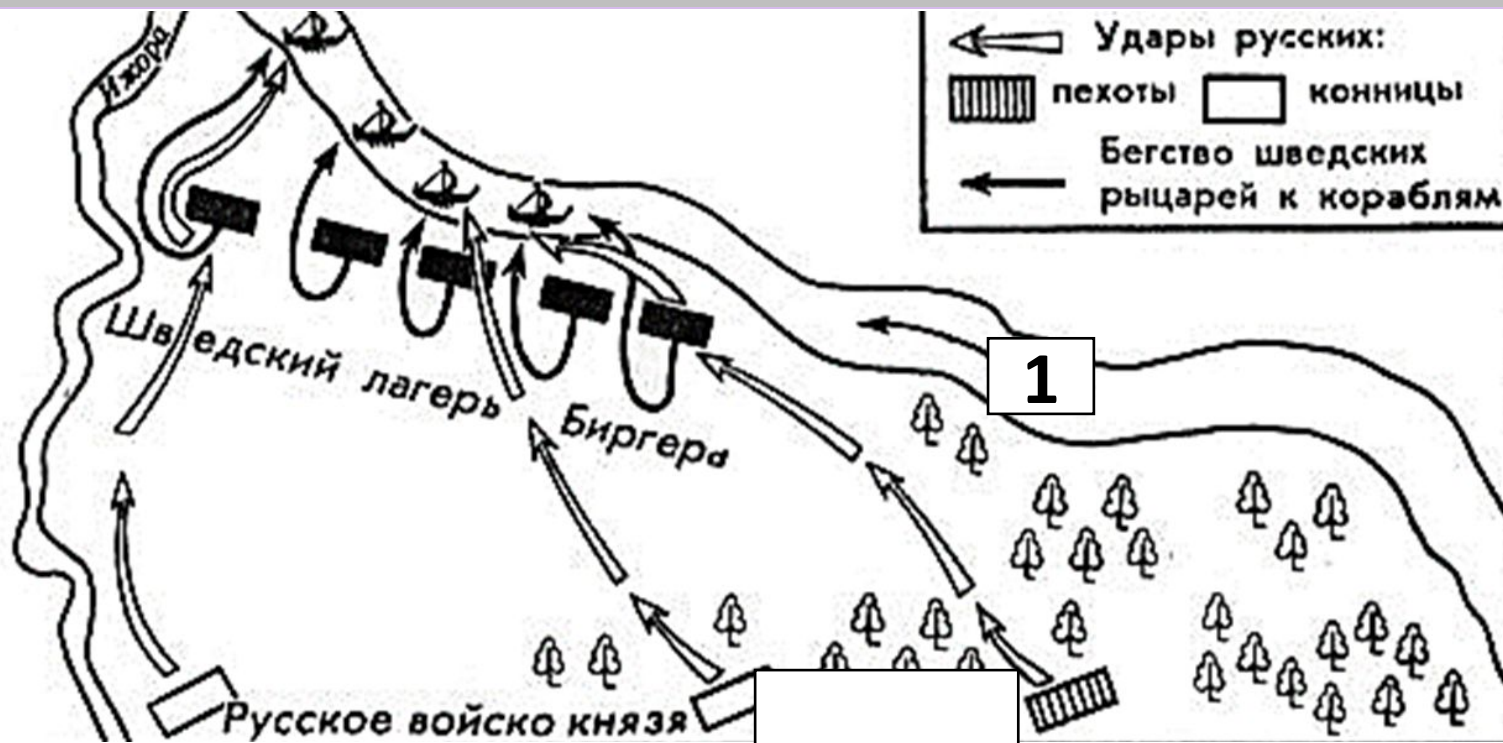
Назовите князя, командующего русским войском в сражении, изображенным на схеме.

Тест



Назовите название реки, обозначенной на схеме цифрой 1.

Тест



Укажите век, когда произошло сражение, обозначенное на схеме. Ответ напишите СЛОВОМ.

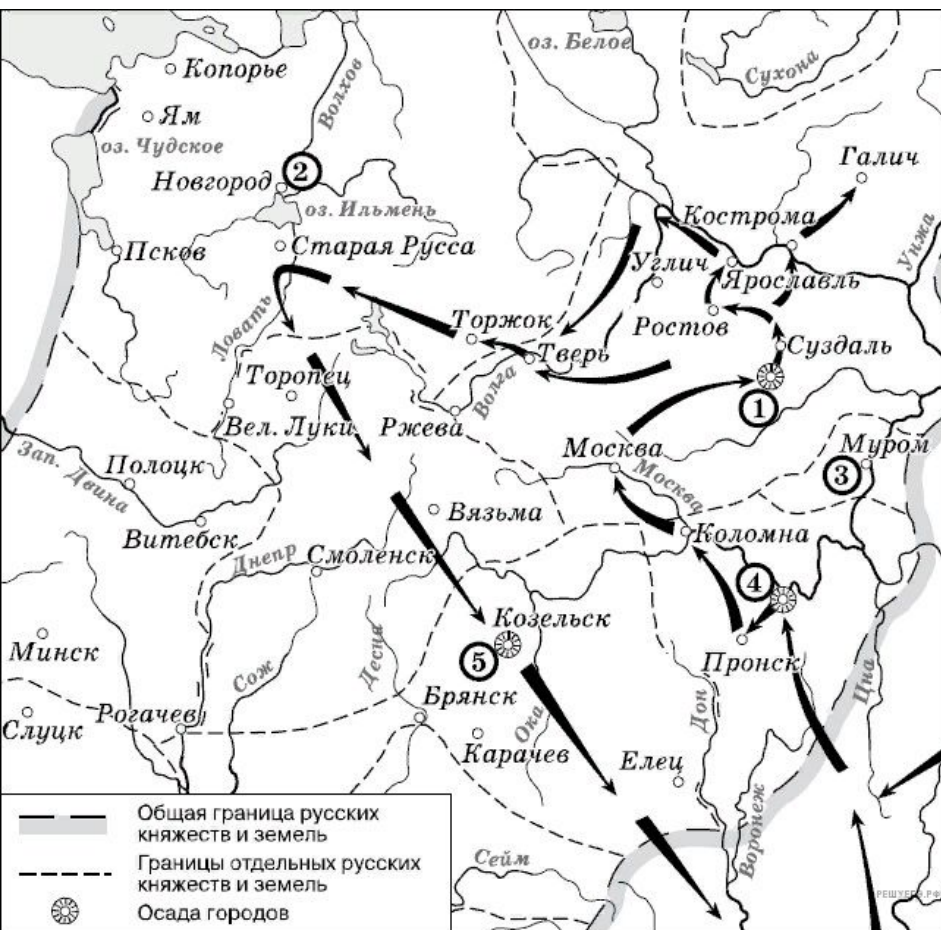
Тест

Какие суждения, относящиеся к данной схеме, являются верными?

1. Князь, который командовал русским войском в этом сражении, в то время княжил в Новгороде.
2. После победы в этом сражении князь, командовавший русским войском, получил прозвище, под которым и вошел в нашу историю.
3. Кроме победы над шведами, князь, командовавший русским войском, прославился многочисленными победами над монголо-татарами.
4. Сын князя, командовавшего русским войском, стал первым князем Московским.
5. В сражении, изображенном на схеме, приняли участие дружины из многих русских княжеств.
6. Поражение в этой битве не помешало шведам в том же году захватить Новгород и Псков.

Тест

**Дайте определение понятию «ярлык».
Приведите факт, конкретизирующий это
понятие, не повторяя определения.**



Напишите имя полководца, осуществившего поход, обозначенный на схеме стрелками.

Напишите название города, обозначенного на схеме цифрой «1».

Напишите цифру, которой обозначена столица земли, где в период данного похода существовала республиканская форма правления.

- 1) завоеватели вторглись в пределы Руси в зимний период**
- 2) ни один из городов, захваченных завоевателями, не выдержал осады более одной недели**
- 3) поход, обозначенный на схеме стрелками, длился около трёх лет**
- 4) одним из последствий событий, обозначенных на схеме, было начало раздробленности Древнерусского государства**
- 5) в результате событий, обозначенных на схеме, русские земли попали в зависимость**
- 6) полководец, поход которого обозначен на схеме, является основателем государства**



Напишите название племён, совершивших походы, обозначенные на карте.

Кто руководил походом, обозначенным чёрными стрелками?

Напишите цифру, обозначающую княжество, в котором была сильная княжеская власть.



1) Изображённые события относятся к XIII в.

2) Сражение с участием отрядов русских князей произошло на реке Калка.

3) Русскими войсками командовал князь Александр Невский.

4) Угроза нападения с юго-востока явилась предпосылкой объединения русских княжеств.

5) Для отражения нападения русские земли заключили союз с Литвой.


6) Сражение было проиграно русскими войсками, потому что русские князья действовали разрозненно.




Укажите имя князя, совершившего походы, указанные белыми стрелками
Напишите название города, обозначенного цифрой 1
Укажите название русских городов, захваченных врагами, в период, когда были совершены эти походы

- 1) Русский князь, походы которого обозначены на схеме, был современником хана Батыея.**
- 2) Русский князь, походы которого обозначены на схеме, впоследствии занял престол Великого княжества Владимирского.**
- 3) Русский князь, походы которого обозначены на схеме, был внуком князя Ярослава Мудрого.**
- 4) В том же веке, к которому относятся обозначенные на схеме события, произошло основание Москвы.**
- 5) Город, обозначенный на схеме цифрой «1», отличался сильной княжеской властью.**
- 6) Одно из сражений, обозначенных на схеме, вошло в историю под образным названием «Ледовое побоище».**

Предпосылки к объединению и освобождению русских земель



Рождение дворянства





MOSCAVV

Вотчина

Поместье

Боярин

Дворянин

Безусловное

Условное

Большое

Среднее




Юрьев день



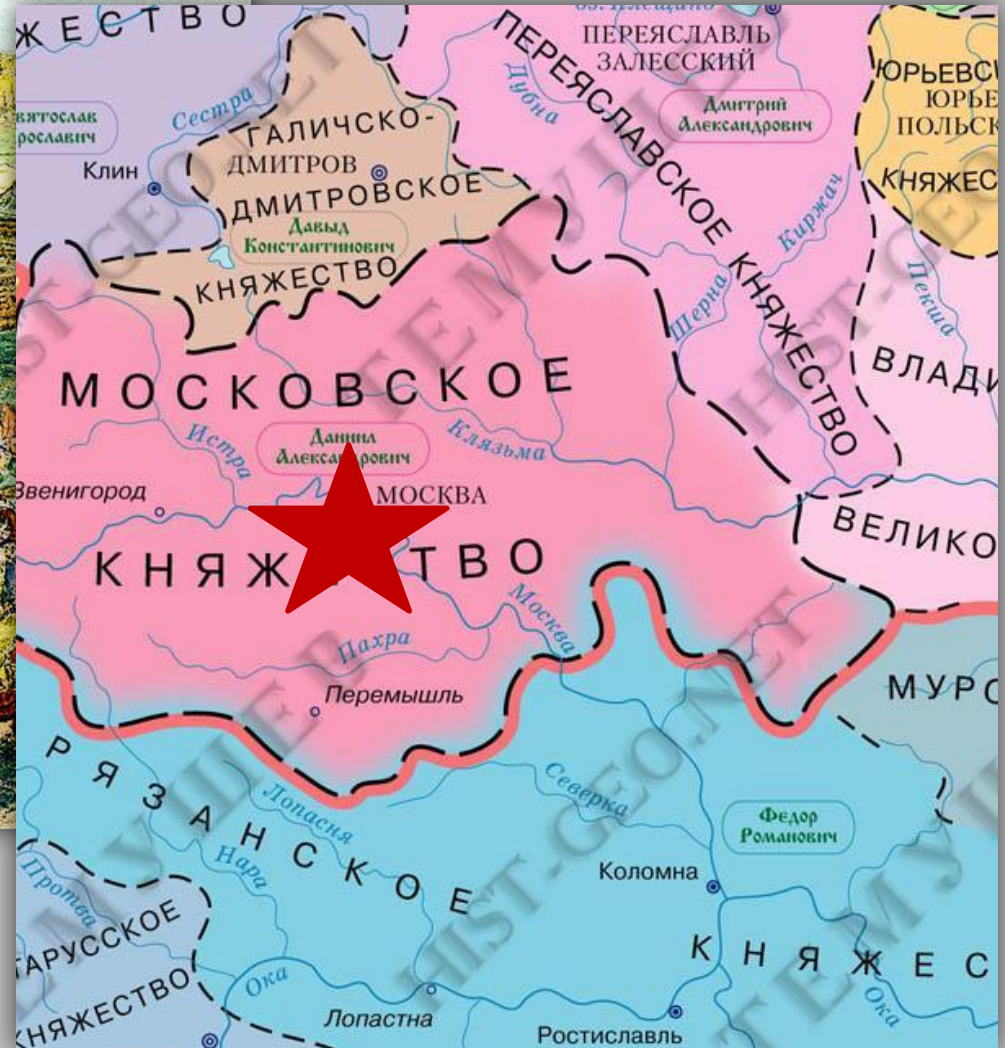
Торговля. Россия.




Духовный подъём



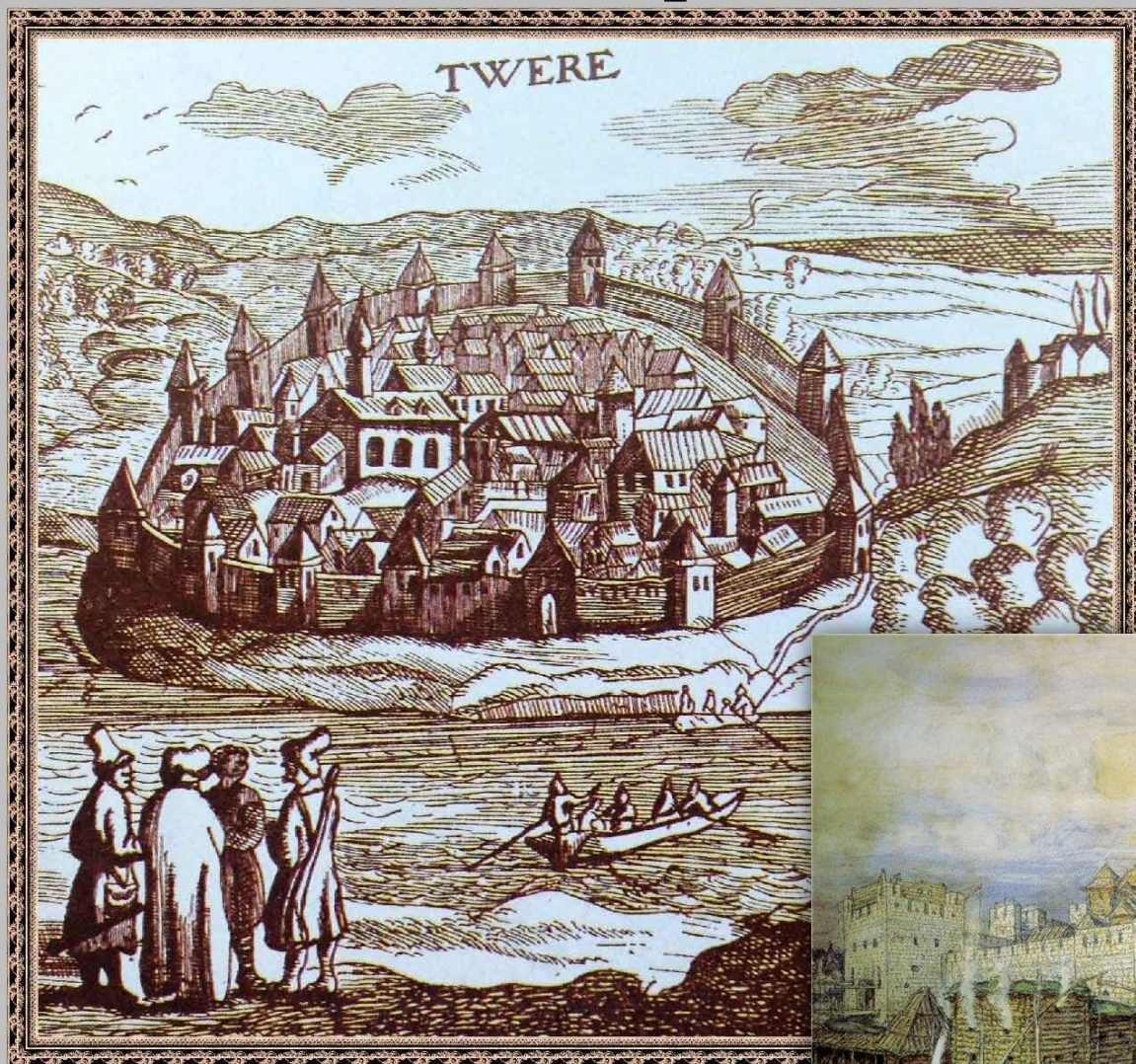
Москва – центр объединения



Иван I Даниилович Калита. 1325 - 1340



Тверь и Москва



Подвиг Михаила Тверского и предательство Юрия Даниловича – первого Великого Московского князя



Подавление антимонгольского восстания в Твери



Рост Московского княжества





Москва – религиозная столица Руси




Духовный подъём



Сергий Радонежский



Феофан Грек



Андрей Рублёв



Даниил Чёрный



Давайте повторим!

Практикум

Какое новое сословие начало
формироваться в русском обществе в 14
веке?

Как называлось дворянское
землевладение? Какой характер оно
носило?

Какие выдающиеся иконописцы жили на рубеже 14 и 15 веков.

Деятельность какого равноапостольного святого пришлась на 14 век?

Какой город был главным противником
Москвы в борьбе за Великое княжение?

Кто был первым Великим
Московским князем?

Кто был первым Московским князем?

Калита – мешок с деньгами. Каков
был источник этого богатства?

При каком князе был построен и
уничтожен Московский белокаменный
Кремль?

Куликовская битва (1380)



Великая замятня. Мамай.



Князь Дмитрий Иванович. Москва Белокаменная.



Битва на реке Воже (1378)



Поход Мамаю на Москву



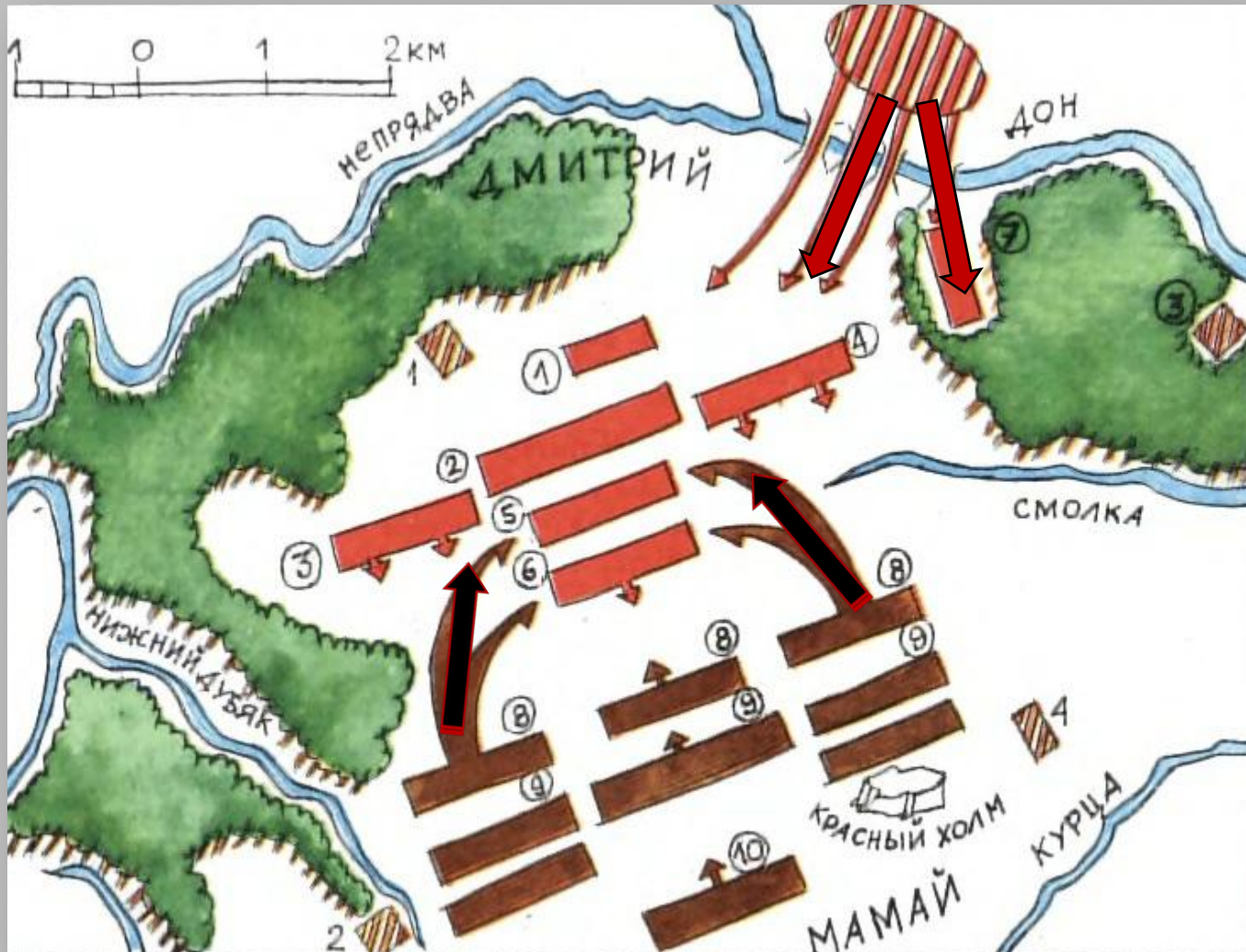
Утро на Куликовом поле



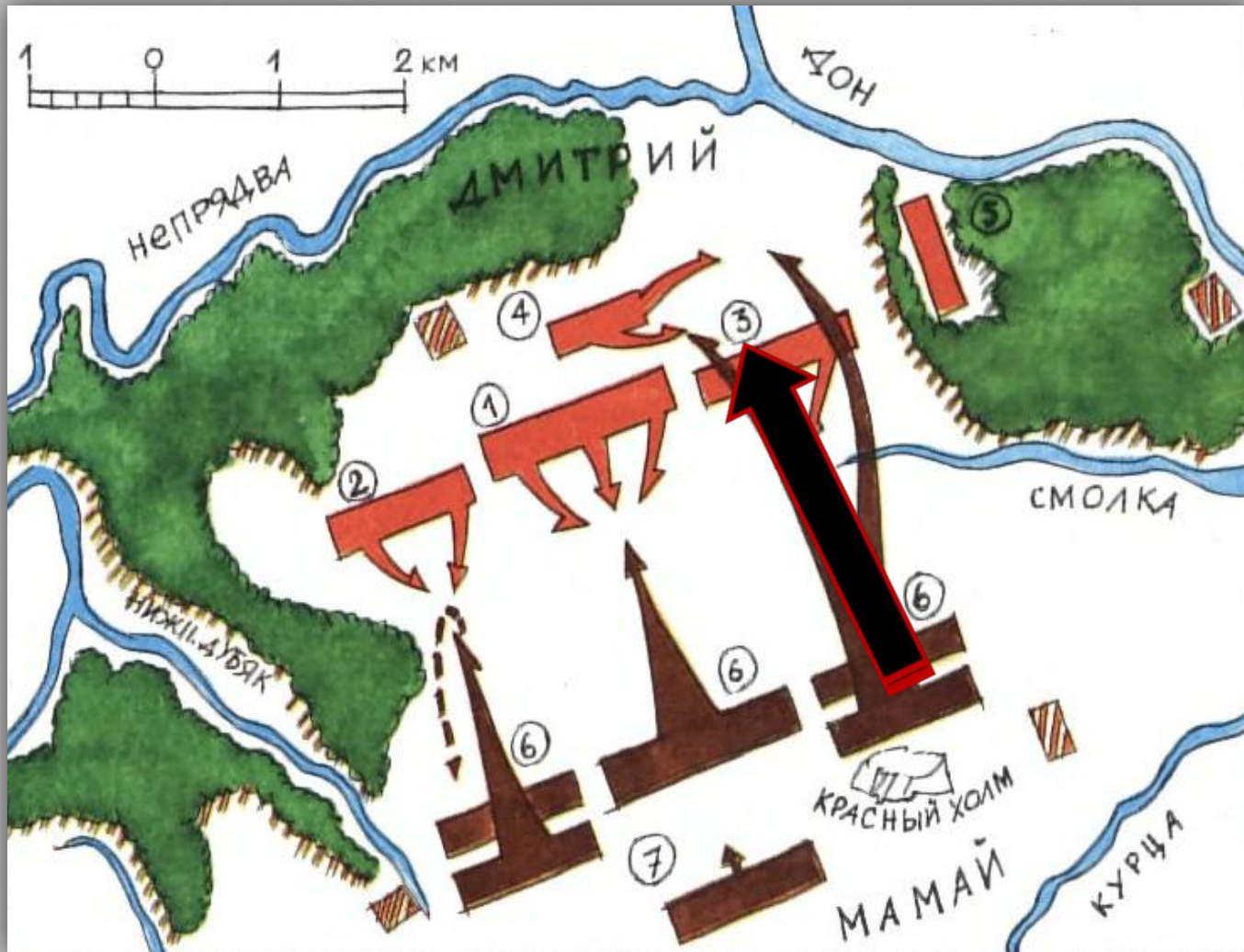
Поединок Пересвета с Челубеем



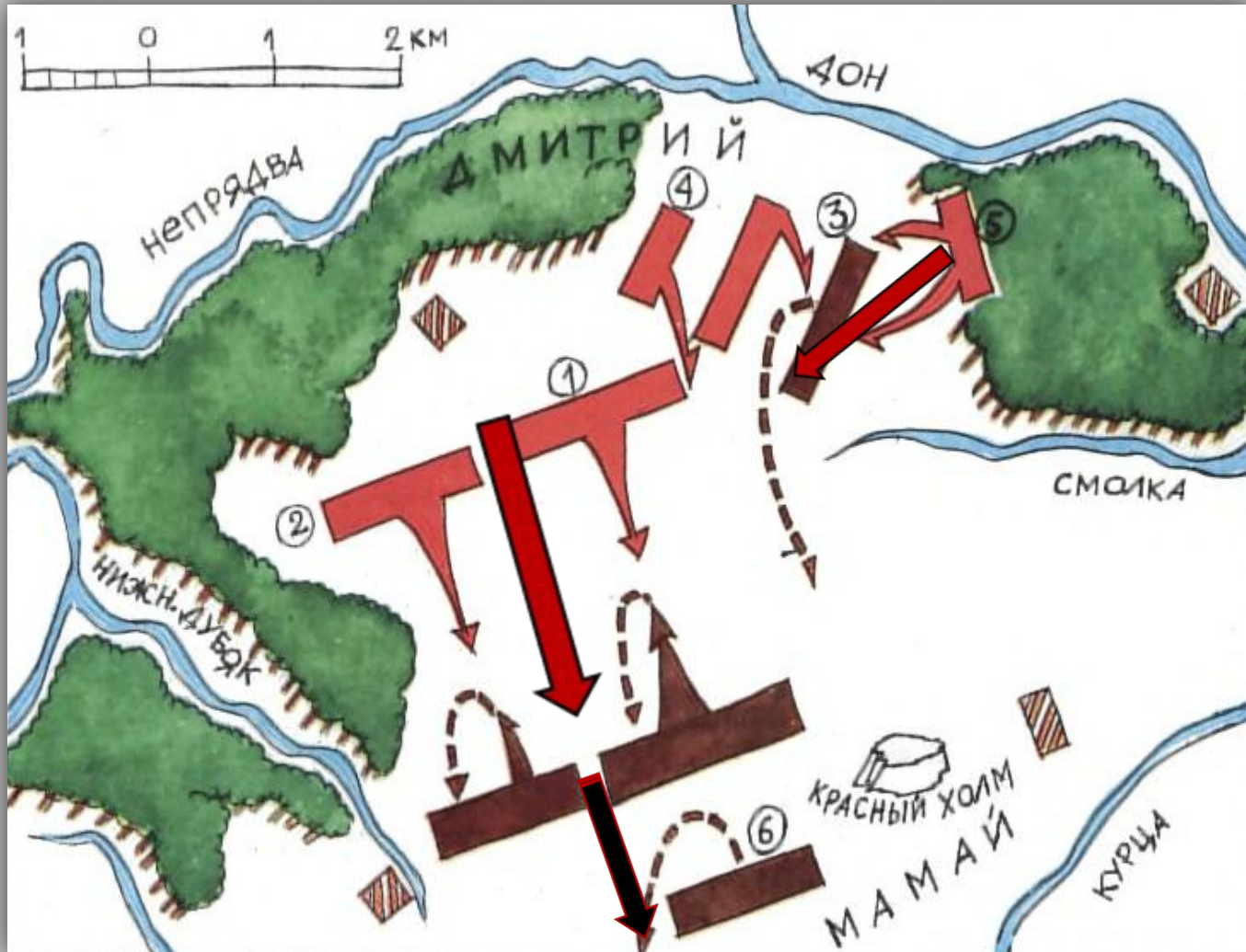
1 этап битвы



2 этап битвы




3 этап битвы



Задонщина



Сожжение Москвы Тохтамышем (1382)



Могила Дмитрия Донского в Донском монастыре



Дайте определение понятию «митрополит». Приведите факт, конкретизирующий это понятие, не повторяя определения.

Какие княжества боролись за лидерство в политическом объединении Руси в XIII—XIV в.

1) Галицко-Волынское

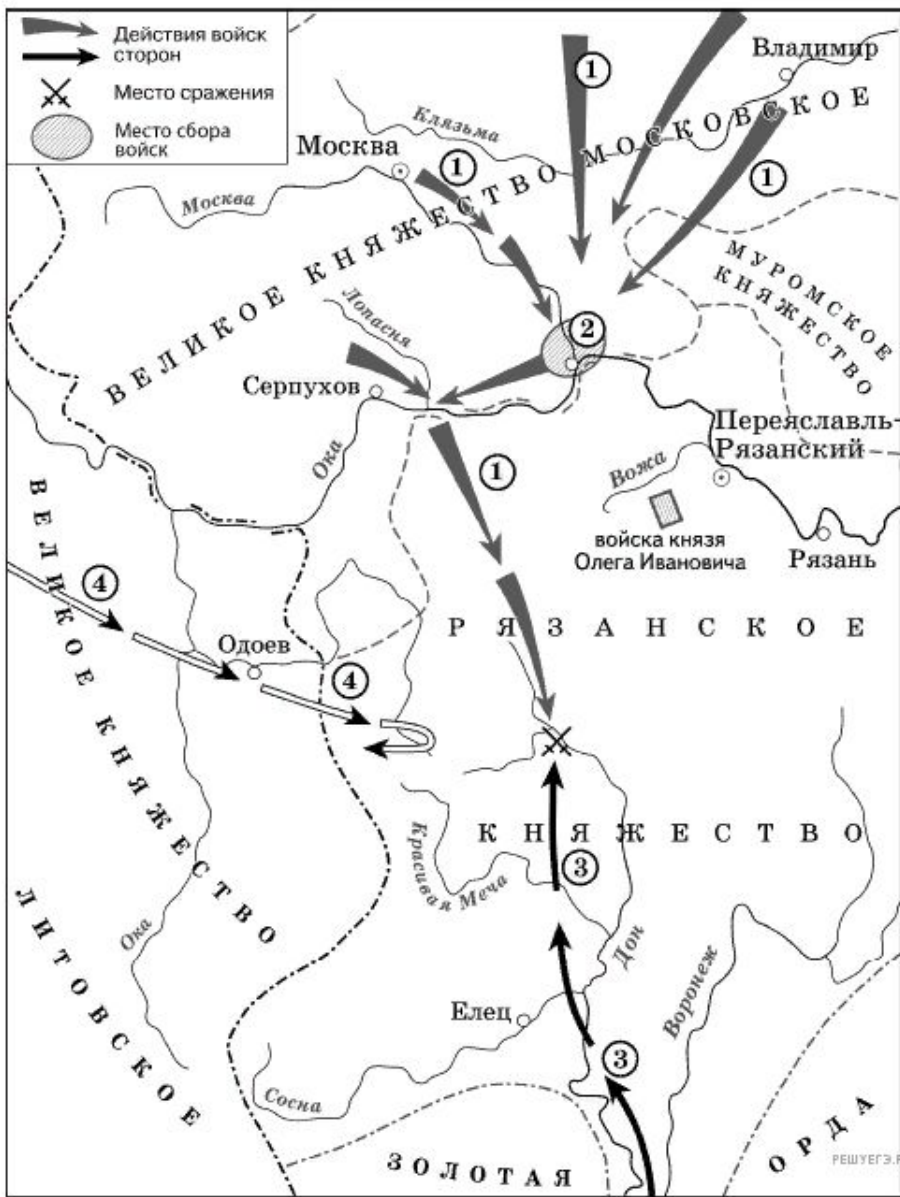
2) Великое Литовское

3) Тверское

4) Московское

5) Киевское

6) Черниговское



1. Какой город обозначен цифрой 2?
2. Войска какого княжества обозначены стрелками 4?
3. Кто возглавил войско, обозначенное стрелками 3?



1. Как называется река, обозначенная цифрой 2?
2. Кто командовал полком, обозначенным цифрой 1?
3. Кто находился в ставке 3?



- 1) Битва, событие которой изображено на картине, закончилась победой русского войска.
- 2) В поединке, изображённом на картине, русский воин остался жив.
- 3) В битве, изображённой на данной картине, русское войско сражалось с немецкими рыцарями.
- 4) События, изображённые на картине, произошли в XIII в.
- 5) Русский воин изображён на картине слева от зрителя.

Викторина
«Важнейшие сражения в истории
Древней Руси».



Когда была битва на реке Калке?
Кто руководил МОНГОЛЬСКИМ ВОЙСКОМ?

В 1223 году. Джубэ и Судэбей.



Когда была битва на реке Сити?
Кто руководил монгольским войском?

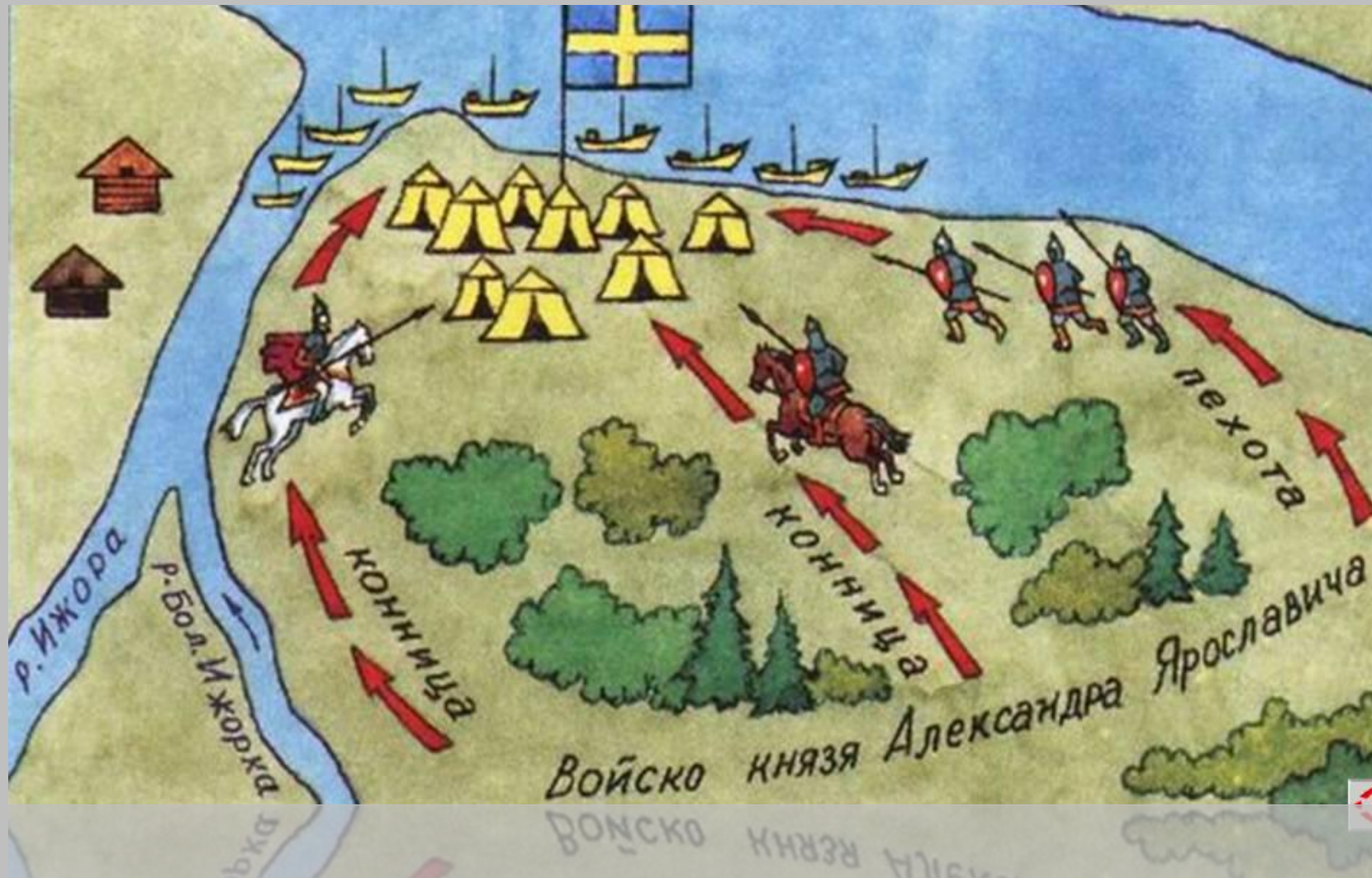
В 1238 году. Батый.



Когда была Невская битва?

Какие полководцы в ней участвовали?

В 1240 году. Александр Невский и Биргер.



Когда было Ледовое побоище?

В 1242 году.



Когда была битва на реке Воже?
Какие полководцы в ней участвовали?

**В 1378 году.
Бегич и Дмитрий Иванович.**



М
ГХ

ЛХ
М

Когда была Куликовская битва?
Какие полководцы в ней участвовали?

**В 1380 году.
Мамай и Дмитрий Иванович.**



Кто и когда сжёг Москву и уничтожил
Белокаменный Кремль?

Тохтамыш в 1382 году.



**Приступайте к
выполнению домашнего
задания!**

Спасибо за внимание!

До новых встреч!

