

ДОСААФ РОССИИ



КОНТРОЛЬНАЯ РАБОТА

ПО РАЗДЕЛАМ:

- **ОБЩИЕ ПОЛОЖЕНИЯ ПДД;**
- **ОБЩИЕ ОБЯЗАННОСТИ ВОДИТЕЛЕЙ;**
- **ПРЕДУПРЕЖДАЮЩИЕ ЗНАКИ;**
- **ЗНАКИ ПРИОРИТИТА;**
- **ПРЕДПИСЫВАЮЩИЕ ЗНАКИ**
- **Время на решение не более 10 минут!**
- **Ответы выложить в беседе в формате:**
- **11221 12121 12314 и.т.д**
- **или**
- **12121\12314\33214\ и.т.д с **УКАЗАНИЕМ****
ФАМИЛИИ!!

Вопрос №1



Сколько полос для движения имеет проезжая часть данной дороги?

1. Три полосы.
2. Две полосы.
3. Одну полосу.


Вопрос №2



Эти знаки предупреждают Вас:

1. О том, что на расстоянии 150-300 м за дорожным знаком начнется участок дороги протяженностью 500 м с опасными поворотами.
2. О наличии через 500 м опасных поворотов.
3. О том, что сразу за знаком начнется участок протяженностью 500 м с опасными поворотами.

Вопрос №3



Сколько проезжих частей имеет данная дорога?

1. Одну.
2. Две.
3. Четыре.

Вопрос №4

Что называется разрешённой максимальной массой транспортного средства?

1. Максимально допустимая для перевозки масса груза, установленная предприятием-изготовителем.
2. Масса снаряженного транспортного средства без учета массы водителя, пассажиров и груза, установленная предприятием-изготовителем.
3. Масса снаряженного транспортного средства с грузом, водителем и пассажирами, установленная предприятием-изготовителем в качестве максимально допустимой.

Вопрос

№5



А



Б



В



Г

При наличии какого знака водитель должен уступить дорогу, если встречный разъезд затруднен?

1. Только В.

2. Б и В.

3. А и В.

4. Б и Г.

Вопрос №6

Вопрос без рисунка



К подкатегории «D1» относятся транспортные средства, предназначенные для перевозки пассажиров и имеющие:

1. Более 8 сидячих мест, включая сиденье водителя.
2. Более 8, но не более 16 сидячих мест, включая сиденье водителя.
3. Более 8, но не более 16 сидячих мест, помимо сиденья водителя.

Вопрос №7

Какое удостоверение достаточно иметь водителю, управляющему грузовым автомобилем с разрешенной максимальной массой более 3,5 т, но не более 7,5 т и прицепом, разрешенная максимальная масса которого более 750 кг?

1. На право управления транспортным средством категории «С».
2. На право управления транспортным средством подкатегории «С1».
3. На право управления транспортными средствами категории «С1Е».

Вопрос



В какой из дворов Вы можете въехать в данной ситуации?


1. Только во двор налево.

2. Только во двор направо.

3. В любой.

4. Повороты во дворы запрещены.

Вопрос №9



Знаки предупреждают Вас о том, что:

1. Через 150 м находится пешеходный переход.
2. На протяжении 150 м возможно появление пешеходов на проезжей части.
3. Через 150 м находится пешеходная дорожка.

Вопрос №10



Можно ли Вам за перекрестком въехать во двор?

1. Можно.
2. Можно, если Вы проживаете в этом доме.
3. Нельзя.

Вопрос №11



Этот знак предупреждает о приближении к перекрестку, на котором Вы:


1. Имеете право преимущественного проезда.
2. Должны уступить дорогу всем транспортным средствам, движущимся по пересекаемой дороге.
3. Должны уступить дорогу только транспортным средствам, приближающимся справа.

Вопрос №12

По требованию каких лиц водители обязаны проходить освидетельствование на состояние алкогольного опьянения и медицинское освидетельствование на состояние опьянения?

1. Должностных лиц, уполномоченных на осуществление федерального государственного надзора в области безопасности дорожного движения.
2. Всех регулировщиков.
3. Любых сотрудников полиции.

Вопрос №13



Главная дорога показана:


1. На обоих верхних рисунках.
2. Только на правом верхнем рисунке.
3. Только на левом верхнем рисунке.
4. На всех рисунках.

Вопрос №14

По требованию каких лиц необходимо передавать для проверки водительское удостоверение на право управления транспортным средством соответствующей категории или подкатегории и представлять для проверки страховой полис обязательного страхования гражданской ответственности на бумажном носителе или в виде электронного документа либо его копии на бумажном носителе?

1. Сотрудника полиции.
2. Сотрудника Военной автомобильной инспекции.
3. Любого регулировщика.
4. Всех перечисленных лиц.

Вопрос №15



Где Вы должны остановиться?

1. Перед знаком (А).
2. Перед краем пересекаемой проезжей части (В).
3. Перед перекрестком (Б).

**Вопрос
№16**

Вопрос без рисунка

К подкатегории «С1» относятся автомобили (за исключением транспортных средств категории «D»), разрешенная максимальная масса которых:

1. Более 3,5 т, но не более 7,5 т.
2. Более 2,5 т, но не более 7,5 т.
3. Более 3,5 т, но не более 12 т.

Вопрос №17



Эти знаки предупреждают Вас:

1. О наличии через 500 м опасных поворотов.
2. О том, что на расстоянии 150-300 м за дорожным знаком начнется участок дороги протяженностью 500 м с опасными поворотами.
3. О том, что сразу за знаком начнется участок протяженностью 500 м с опасными поворотами.

Вопрос №18

К подкатегории «D1» относятся транспортные средства, предназначенные для перевозки пассажиров и имеющие:

1. Более 8 сидячих мест, включая сиденье водителя.
2. Более 8, но не более 16 сидячих мест, включая сиденье водителя.
3. Более 8, но не более 16 сидячих мест, помимо сиденья водителя.

Вопрос №19



Какие из предупреждающих и запрещающих знаков являются временными?

1. Установленные на переносной стойке.
2. Имеющие желтый фон и установленные в местах производства дорожных работ.
3. Все перечисленные.

**Вопрос
№20**



А



Б



В

Какие из указанных знаков устанавливают непосредственно перед железнодорожным переходом?

1. Только В.

2. А и В.

3. Только Б.

4. Только А.

ВРЕМЯ ЗАКОНЧИЛОСЬ
ОТПРАВЬТЕ ОТВЕТЫ В БЕСЕДУ
В ТЕЧЕНИИ **1 МИНУТЫ**