

**Окружающий
мир
4 класс**

**Умение находить информацию на
печатных носителях (Интернет-
сайтах),
используя условные обозначения**



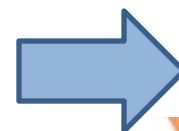
На интернет-сайтах погоды можно встретить подобные таблицы. Изучи прогноз погоды на трое суток.

	Вторник, 17 марта				Среда, 18 марта				Четверг, 19 марта			
	Ночь	Утро	День	Вечер	Ночь	Утро	День	Вечер	Ночь	Утро	День	Вечер
Облачность и атмосферные осадки												
Температура воздуха, °С	-1	0	1	-1	-3	4	6	2	-1	5	7	2
Направление ветра												
	Ю	СВ	Ю	Ю	С	ЮЗ	СЗ	СЗ	С	С	СЗ	З
Влажность воздуха, %	61	74	78	63	60	76	74	62	66	79	71	63

























Выбери все верные утверждения об ожидаемой погоде на эти трое суток и запиши в строку ответа их номера.

- 1) Во вторник ожидается переменная облачность без осадков.
- 2) Температура воздуха в среду не опустится ниже 6 °С.
- 3) В ночь со среды на четверг северо-западный ветер сменится на северный.
- 4) На протяжении всех трёх суток влажность воздуха не превысит 60%.

Ответ: 2, 3



На интернет-сайтах погоды можно встретить подобные таблицы. Изучи прогноз погоды на трое суток.

	Вторник, 27 июня				Среда, 28 июня				Четверг, 29 июня			
	Ночь	Утро	День	Вечер	Ночь	Утро	День	Вечер	Ночь	Утро	День	Вечер
Облачность и атмосферные осадки												
Температура воздуха, °С	26	27	33	30	28	27	33	33	28	26	29	25
Направление ветра												
	ЮЗ	СЗ	З	Ю	ЮЗ	ЮВ	Ю	ЮЗ	Ю	В	Ю	Ю
Влажность воздуха, %	70	61	55	60	67	62	51	59	61	57	56	59

Выбери все верные утверждения об ожидаемой погоде на эти трое суток и запиши в строку ответа их номера.

- 1) В среду будет преобладать юго-восточный ветер.
- 2) Во вторник днём температура воздуха поднимется выше 30 °С.
- 3) В четверг ожидается переменная облачность без осадков.
- 4) Влажность воздуха в течение всех трёх суток будет находиться в пределах от 55% до 60%.

Ответ: 2, 3

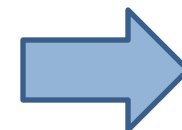
На интернет-сайтах погоды можно встретить подобные таблицы. Изучи прогноз погоды на трое суток.

	Пятница, 12 октября				Суббота, 13 октября				Воскресенье, 14 октября			
	Ночь	Утро	День	Вечер	Ночь	Утро	День	Вечер	Ночь	Утро	День	Вечер
Облачность и атмосферные осадки												
Температура воздуха, °С	3	4	6	2	1	3	5	-1	-4	1	5	3
Направление ветра												
	Ю	Ю	ЮВ	ЮВ	СВ	СВ	СВ	С	С	В	ЮВ	Ю
Влажность воздуха, %	79	81	87	87	90	90	86	84	78	76	80	82

Выбери все верные утверждения об ожидаемой погоде на эти трое суток и запиши в строку ответа их номера.

- 1) В пятницу ожидается облачная погода с прояснениями без осадков.
- 2) В воскресенье днём южный ветер сменится на восточный.
- 3) В ночь с субботы на воскресенье ожидается похолодание.
- 4) На протяжении всех трёх суток влажность воздуха будет ниже 79%.

Ответ: 1, 3



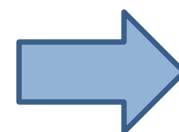
На интернет-сайтах погоды можно встретить подобные таблицы. Изучи прогноз погоды на трое суток.

	Вторник, 3 января				Среда, 4 января				Четверг, 5 января			
	Ночь	Утро	День	Вечер	Ночь	Утро	День	Вечер	Ночь	Утро	День	Вечер
Облачность и атмосферные осадки												
Температура воздуха, °С	-8	-8	-6	-6	-5	-7	-8	-5	-3	-5	-4	-4
Направление ветра												
	Ю	Ю	Ю	Ю	ЮЗ	ЮЗ	Ю	Ю	ЮЗ	Ю	Ю	Ю
Влажность воздуха, %	92	85	83	87	89	95	89	86	94	85	86	94

Выбери все верные утверждения об ожидаемой погоде на эти трое суток и запиши в строку ответа их номера.

- 1) Температура воздуха во вторник и в среду не опустится ниже -6°C .
- 2) В среду осадков не ожидается.
- 3) Влажность воздуха в четверг днём будет выше 94%.
- 4) В течение всех трёх суток будет преобладать южный ветер.

Ответ: 2, 4



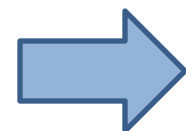
На интернет-сайтах погоды можно встретить подобные таблицы. Изучи прогноз погоды на трое суток.

	Вторник, 17 апреля				Среда, 18 апреля				Четверг, 19 апреля			
	Ночь	Утро	День	Вечер	Ночь	Утро	День	Вечер	Ночь	Утро	День	Вечер
Облачность и атмосферные осадки												
Температура воздуха, °С	8	10	10	9	4	14	16	14	10	13	15	12
Направление ветра												
	Ю	СВ	СВ	ЮВ	Ю	ЮЗ	СЗ	С	С	СЗ	СЗ	З
Влажность воздуха, %	61	74	78	63	66	78	74	67	70	69	71	63

Выбери все верные утверждения об ожидаемой погоде на эти трое суток и запиши в строку ответа их номера.

- 1) Ночь со вторника на среду будет самой холодной за трое суток.
- 2) В течение всех трёх суток осадков не ожидается.
- 3) В четверг утром и днём будет дуть северо-западный ветер.
- 4) В ночь со среды на четверг влажность воздуха не изменится.

Ответ: 1, 3



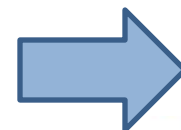
На интернет-сайтах погоды можно встретить подобные таблицы. Изучи прогноз погоды на трое суток.

	Пятница, 13 июля				Суббота, 14 июля				Воскресенье, 15 июля			
	Ночь	Утро	День	Вечер	Ночь	Утро	День	Вечер	Ночь	Утро	День	Вечер
Облачность и атмосферные осадки												
Температура воздуха, °С	21	23	23	22	21	24	24	23	21	24	24	23
Направление ветра												
	С	С	С	С	СВ	СВ	СВ	СВ	В	В	ЮВ	Ю
Влажность воздуха, %	79	71	57	65	74	68	56	76	76	56	60	82

Выбери все верные утверждения об ожидаемой погоде на эти трое суток и запиши в строку ответа их номера.

- 1) Температура воздуха на протяжении всех трёх суток будет выше 20 °С.
- 2) В пятницу влажность воздуха будет колебаться от 60% до 70%.
- 3) В субботу будет преобладать северо-западный ветер.
- 4) В субботу и воскресенье ожидается переменная облачность без осадков.

Ответ: 1, 4



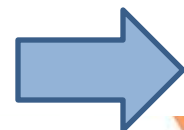
На интернет-сайтах погоды можно встретить подобные таблицы. Изучи прогноз погоды на трое суток.

	Вторник, 12 марта				Среда, 13 марта				Четверг, 14 марта			
	Ночь	Утро	День	Вечер	Ночь	Утро	День	Вечер	Ночь	Утро	День	Вечер
Облачность и атмосферные осадки												
Температура воздуха, °С	-4	-2	3	2	1	2	4	3	-3	-1	2	2
Направление ветра												
	ЮВ	ЮВ	Ю	Ю	СЗ	СЗ	СЗ	СЗ	С	С	СЗ	З
Влажность воздуха, %	61	74	78	63	60	76	74	62	66	79	71	63

Выбери все верные утверждения об ожидаемой погоде на эти трое суток и запиши в строку ответа их номера.

- 1) В среду ожидается юго-восточный ветер.
- 2) В среду и четверг осадков не ожидается.
- 3) На протяжении всех трёх суток температура воздуха днём будет выше 0 °С.
- 4) Влажность воздуха во вторник будет колебаться от 61% до 63%.

Ответ: 2, 3



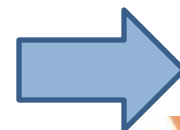
На интернет-сайтах погоды можно встретить подобные таблицы. Изучи прогноз погоды на трое суток.

	Понедельник, 20 июля				Вторник, 21 июля				Среда, 22 июля			
	Ночь	Утро	День	Вечер	Ночь	Утро	День	Вечер	Ночь	Утро	День	Вечер
Облачность и атмосферные осадки												
Температура воздуха, °С	26	27	28	27	26	28	28	27	26	27	29	29
Направление ветра												
	В	В	СВ	СВ	В	В	В	В	СВ	В	В	В
Влажность воздуха, %	78	70	60	68	76	72	67	78	74	67	58	65

Выбери все верные утверждения об ожидаемой погоде на эти трое суток и запиши в строку ответа их номера.

- 1) Влажность воздуха в течение всех трёх суток будет колебаться в пределах от 60% до 70%.
- 2) Во вторник в течение суток ожидается дождь.
- 3) В среду будет преобладать восточный ветер.
- 4) В понедельник температура воздуха будет ниже 26 °С.

Ответ: 2, 3



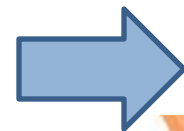
На интернет-сайтах погоды можно встретить подобные таблицы. Изучи прогноз погоды на трое суток.

	Понедельник, 9 сентября				Вторник, 10 сентября				Среда, 11 сентября			
	Ночь	Утро	День	Вечер	Ночь	Утро	День	Вечер	Ночь	Утро	День	Вечер
Облачность и атмосферные осадки												
Температура воздуха, °C	13	15	17	13	10	18	21	15	10	19	24	15
Направление ветра												
	Ю	Ю	Ю	Ю	ЮВ	ЮВ	ЮВ	СВ	В	ЮВ	Ю	З
Влажность воздуха, %	79	71	57	65	71	68	56	66	66	56	60	72

Выбери все верные утверждения об ожидаемой погоде на эти трое суток и запиши в строку ответа их номера.

- 1) Во все дни, кроме понедельника, ожидается ясная погода.
- 2) В среду днём будет дуть западный ветер.
- 3) Температура воздуха в среду будет меняться от +10 °C до +24 °C.
- 4) Влажность воздуха во вторник будет меняться в пределах от 57% до 79%.

Ответ: 1, 3



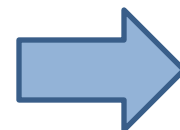
На интернет-сайтах погоды можно встретить подобные таблицы. Изучи прогноз погоды на трое суток.

	Среда, 9 августа				Четверг, 10 августа				Пятница, 11 августа			
	Ночь	Утро	День	Вечер	Ночь	Утро	День	Вечер	Ночь	Утро	День	Вечер
Облачность и атмосферные осадки												
Температура воздуха, °С	23	25	27	23	20	28	31	25	20	23	28	25
Направление ветра												
	Ю	Ю	ЮВ	Ю	ЮВ	ЮВ	ЮЗ	ЮЗ	З	Ю	ЮВ	Ю
Влажность воздуха, %	69	61	57	65	61	58	60	63	63	60	56	55

Выбери все верные утверждения об ожидаемой погоде на эти трое суток и запиши в строку ответа их номера.

- 1) В среду в течение суток ветер будет постоянно менять своё направление.
- 2) В четверг вечером ожидается дождь.
- 3) В ночь с четверга на пятницу влажность воздуха не изменится.
- 4) В течение всех трёх суток температура воздуха не превысит 25 °С.

Ответ: **2, 3**



ИСТОЧНИК

И:

<https://onlyege.ru/vpr-2018-okruzhayushhij-mir-4-klass-vse-varianty-s-otvetami/>

<https://avatars.mds.yandex.net/get-pdb/918543/b334076e-4cea-461d-8d73-d971c1adcc7c/s1200?webp=false>

<http://nachalo4ka.ru/wp-content/uploads/2014/05/shkolnyiy-universalnyiy-prevyu-12.png>