




**Аңшы орманға келіп, бұтақта
қонып тұрған торғайды атқан
екен, бірақ қарға құлапты. Бұл
қалай болғаны?**




Уақыт



1

2

3



4

5





Жауабы!

**Торғай қарға келіп құлайды,
өйткені қыс мезгілі еді**






**Мотоцикл жүргізушісі ауылға
келе жатқанда жолдан өзіне
қарсы үш жеңіл машина және бір
камазды кездестірді. Ауылға
неше машина бара жатыр?**



Уақыт



1

2

3



4

5



Жауабы!



Бір ғана МОТОЦИКЛ






**Төрт қабырғасы да оңтүстікке
қарайтын үй салу мүмкін бе?**



Уақыт



1

2

3



4

5






Жауабы:

**Иә мүмкін. Солтүстік полюске
салсаңыз төрт қабырғасы да
оңтүстікке қарайтын болады.**





**Төрт бұрыштан 1 бұрышын алып
(қиып) тастасақ неше бұрыш
қалады?**



1



Уақыт

2

3



4

5





Жауабы: 5 бұрыш





Бір жүк машинасының артында бір шелек тұр. Жаңбыр жауа бастады. Шелек, жүк машинасы тоқтап тұрған кезде тез тола ма, әлде жылдам кетіп бара жатқан кезде ма?



Уақыт



1

2

3



4

5





Жауабы:



**Шелекке судың толу жылдамдығы
машинаның тоқтап тұруына немесе
жүруіне байланысты емес. Шелек
екі жағдайда да бірдей
жылдамдықта толады.**





**3 Аңшы 3 сағатта 3 үйрек
аулай алатын болса, 9
аңшының 9 үйректі аулай
алуы үшін қанша сағат керек?**




Уақыт



1

2

3



4

5





Жауабы: 3 сағат





**Бөлмедегі әр бұрышта бір
мысықтан және оған
қарама-қарсы үш
мысықтан отырса,
бөлмеде неше мысық бар?**




Уақыт



1

2

3



4

5





Жауабы: 4 мысық





**Суға қай кезде қолды
кесіп алуға болады?**




Уақыт



1

2

3



4

5






Жауабы:
егер оны мұз етіп
қатырса





1- ұпай






**Екі бала шахматты екі
сағат ойнады. Олардың
әрқайсысы неше сағат
ойлады?**

ОҢАШЫРІ;

Әрқайсысы екі сағат ойлады.



Уақыт



1

2

3



4

5





Жауабы: екі сағат

