

Математическая викторина

2 класс



Математическая викторина

1 раунд	<u>10</u>	<u>20</u>	<u>30</u>	<u>40</u>	<u>50</u>
2 раунд	<u>10</u>	<u>20</u>	<u>30</u>	<u>40</u>	<u>50</u>
3 раунд	<u>10</u>	<u>20</u>	<u>30</u>	<u>40</u>	<u>50</u>
4 раунд	<u>10</u>	<u>20</u>	<u>30</u>	<u>40</u>	<u>50</u>



Задача

Дама сдавала багаж:
Диван, чемодан, саквояж,
Картинку, корзину, картонку
И маленькую собачонку.

Но только раздался звонок,
Удрал из вагона щенок.
Ребята, считайте быстрее,
Сколько осталось вещей?



6



✦ ✦ ✦ ✦ ✦ ✦ ✦ ✦ ✦ ✦ ✦ ✦

Ребусы

ПОДВАЛ

СЕМЬЯ

СТОЛБ





Загадки

1) Дом без окон и дверей,
как зеленый сундучок,
в нем шесть кругленьких детей
называется... **стручок**



2) Что за шустрый старичок
восемьдесят восемь ног
все по полу шаркают,
за работой жаркою.

веник



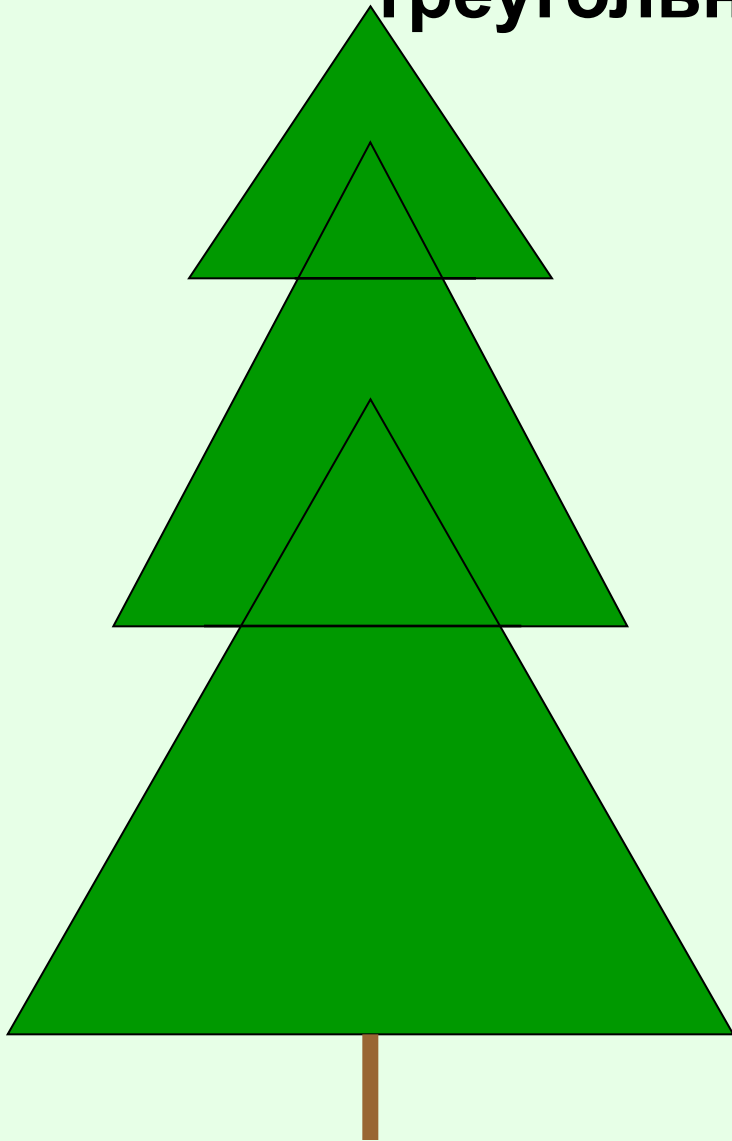
3) Что это за семь братьев:
годами равные, именами разные?

недели






На сколько больше
треугольников у ёлочки?




На
2





**Сколько прямоугольников
в этом «окне»?**

5





Игра «Концовки»

**1) Если подоконник выше
стола, то стол**

ниже

...

подоконника.

**2) Если Катя стоит левее
Тани, то Таня**

стоит правее

...

Кати.





Задача

К двум зайчатам в час обеда
Прискакали три соседа.
В огороде зайцы сели
И по семь морковок съели.



Кто считать, ребята, ловок,
Сколько съедено морковок?

35





Примеры – ребусы

7

×

6

48

7

×

7

56

1

7

+

3

21



Задачи



1) Лимон дороже яблока в 3 раза.

Что дороже - 15 яблок или 5 лимонов?

**на 1 лимон – 3 яблока
Одинаково**

2) Произведение каких однозначных чисел дает число 7?

1 и 7

3) Произведение двух чисел больше одного из них в 4 раза и больше другого в 5 раз. Чему равны множители и произведение?

4, 5 и 20





Игра «Концовки»



1) Если у меня в одной руке конфет на 2 больше, чем в другой, то в другой...

**на 2
меньше.**

2) Если Маша живет от школы дальше, чем Нина, то Нина...

**живет
ближе.**





Загадки

1) Всегда шагаем мы вдвоем,
похожие как братья.
Мы за обедом – под столом
а ночью – под кроватью.



2) Для пяти мальчиков
пятеро чуланчиков,
а выход один. Что это?





Задача в стихах

Я, Сережа, Коля, Ванда –
Волейбольная команда.
Женя с Игорем пока –
Запасных два игрока.
А когда подучатся,
Сколько нас получится?




6





Сколько видите прямых углов?



8





Загадки

1) **Стоит Антошка
на одной ножке.
Где солнце станет,
туда он и глянет.**



2) **Живут два друга, глядят в два
круга.**





Ребусы

СТОЛИЦА

СТРИЖ



Родина





Задача в стихах

**Мы – большущая семья,
Самый младший – это я!
Сразу нас не перечесть:
Маня есть и Ваня есть,
Юра, Шура, Клаша, Даша,
И Наташа тоже наша.
Мы по улице идем –
Говорят, что детский дом.
Посчитайте поскорей,
Сколько нас в семье детей?**

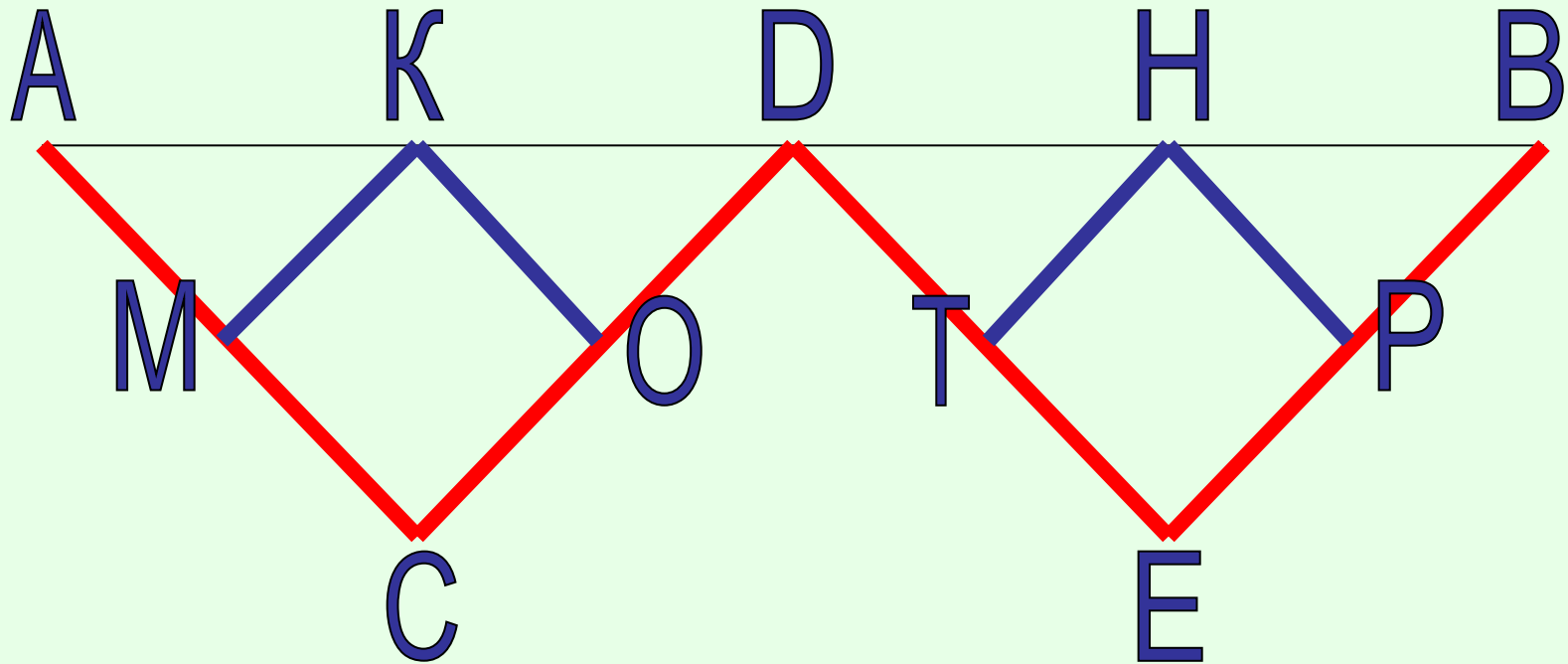


8





Какой путь длиннее от А до В
?



ОДИНАКОВЫЕ





Задача - смекалка

Рыбаку надо переправиться через реку. Вдруг он увидел двух мальчиков, катающихся на лодке. Он попросил перевезти его через реку. Но лодка была так мала, что могла выдержать на воде только одного взрослого или двух мальчиков.

Подумали ребята и сами догадались, как можно переправить взрослого рыбака на другой а потом продолжать кататься на лодке.

Как был переправлен рыбак?
Один мальчик остается на одном берегу,
а другой переезжает к рыбаку...





Задачи - шутки

- 1) Пара лошадей пробежала 20 км.
А сколько километров пробежала
каждая лошадь?

20 км



- 2) 7 воробушек спустились на грядки,
скачут и что-то клюют без оглядки.
Котик-хитрюга внезапно подкрался,
мигом схватил одного и умчался.
Вот как опасно клевать без оглядки!
Сколько теперь их осталось на грядке?



НИ ОДНОГО





Загадки

1) Шевелятся у цветка
все четыре лепестка.
Я сорвать его хотел –
он вспорхнул и улетел.



2) Овсом его не кормят,
кнутом его не гонят,
а как пашет –
семь плугов тащит.



Спасибо за участие