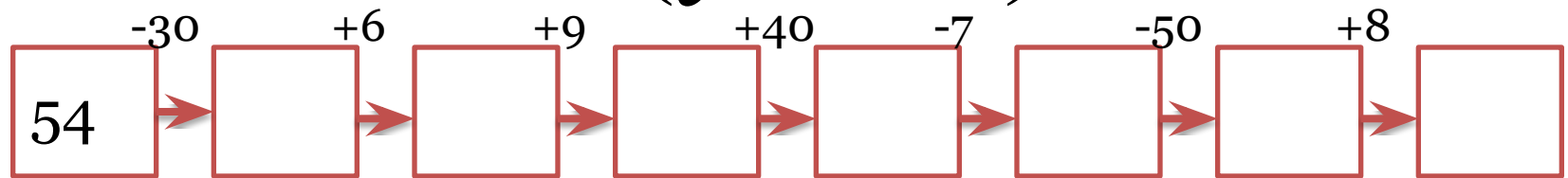


Обозначение геометрических фигур буквами



Логическая цепочка (устно)



Реши примеры(устно)

$$46 + 30$$

$$60 - 20$$

$$45 + 4$$

$$60 - 4$$

$$76 + 6$$

$$60 - 24$$



Выбери правильное решение. (устно)

Именины у синицы, гости собрались.

Сосчитай-ка их быстрее, да не ошибись.

Птичек дружная семья:

3 весёлых воробья,

3 вороны, 3 сороки –

Чёрно-белых белобоки.

3 стрижа и дятла 3.

Сколько птичек, назови!



$3 \cdot 5$

$3 \cdot 4$

$3 + 5$



Выбери правильное решение. (устно)

У волчицы пять волчат,
У лисицы пять лисят.
Малыши играют дружно.
Обижаться им не нужно.
Кто ответит всех быстрее:
Сколько будет малышей?



$$5 \cdot 2$$

$$2 \cdot 5$$

$$5 \cdot 3$$



Знайка-математик пришел к нам в класс.

Он что-то опять приготовил для нас.



Раз, два, три, четыре, пять
Вышли точки погулять.

Много их, посмотри:

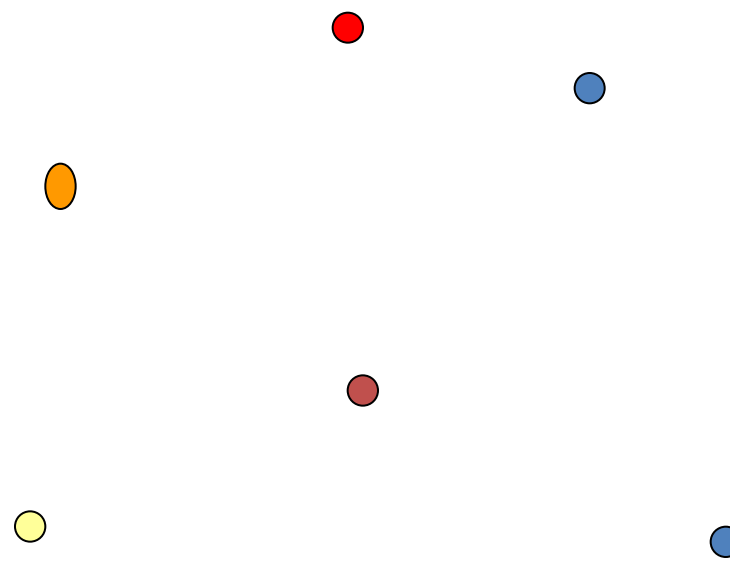
один, два, три...

Как их нам различать?

Каждой «имя» надо дать.



Знайка -математик напоминает нам, что точки ждут свои «имена». Им грустно, что они безымянные. Имена есть у людей, клички у животных, названия у городов, рек, морей, созвездий, стран, планет, галактик.



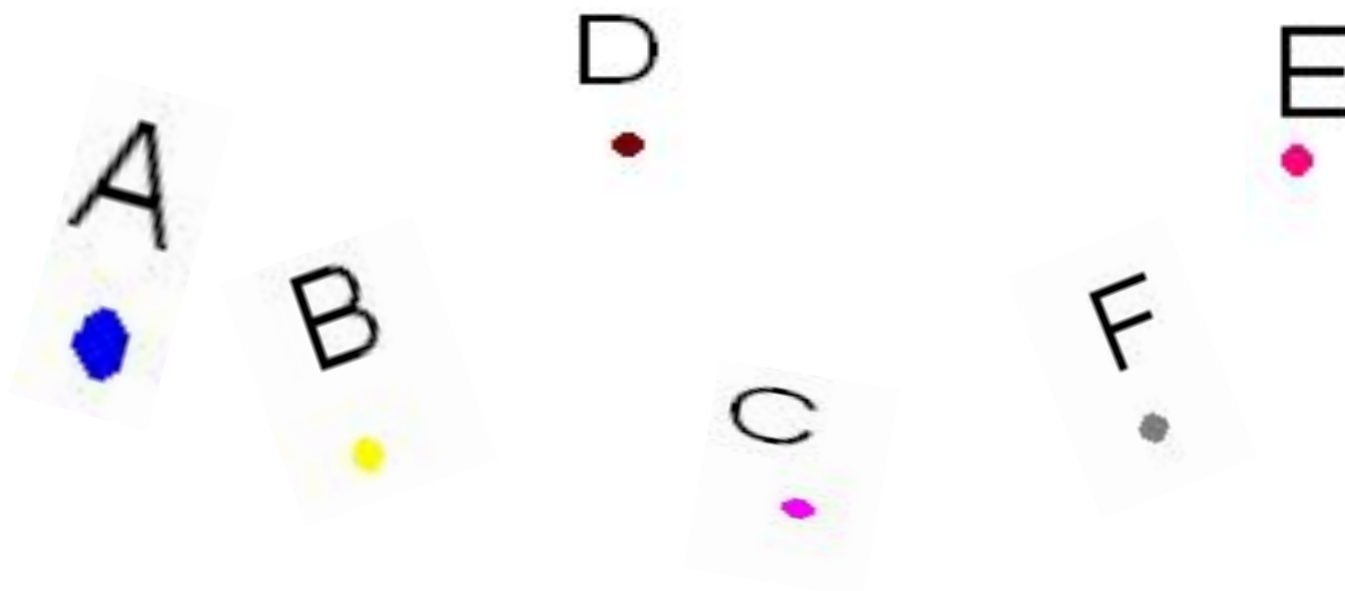
Математики точкам тоже решили дать
«имена» заглавные буквы латинского
алфавита.

A(a), B(b), C(c), D(d), O(o),

M(m), K(k), F(f)....



Точки на чертеже обозначаются
заглавными буквами латинского алфавита



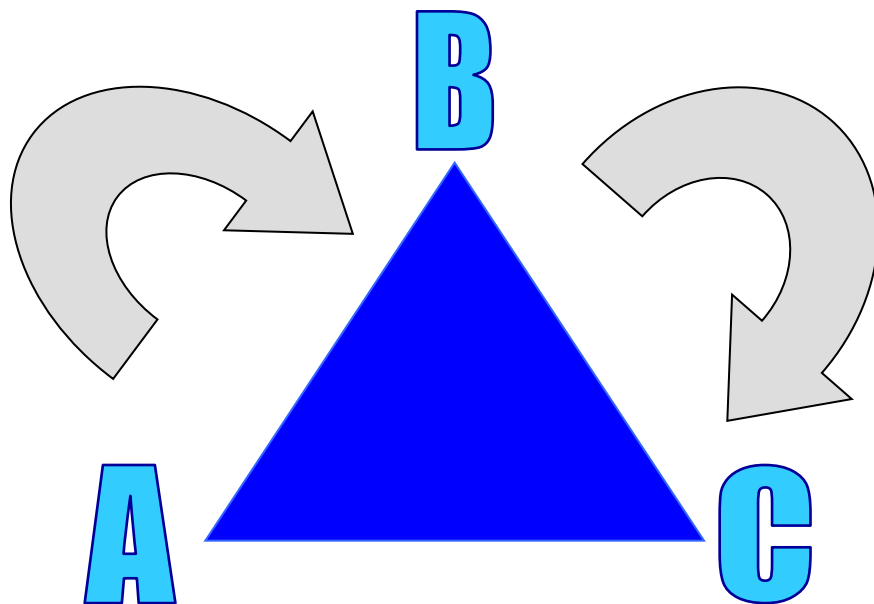
Название отрезка читают слева
направо.



Отрезок АВ



«Имя» читают с буквы, обозначающей нижний левый угол, по часовой стрелке.

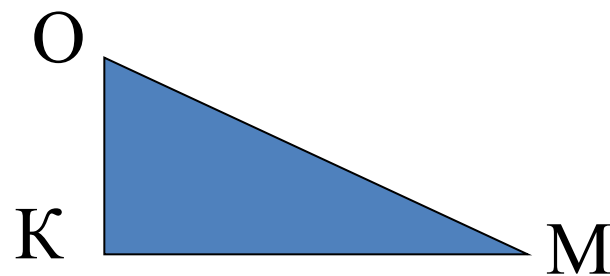
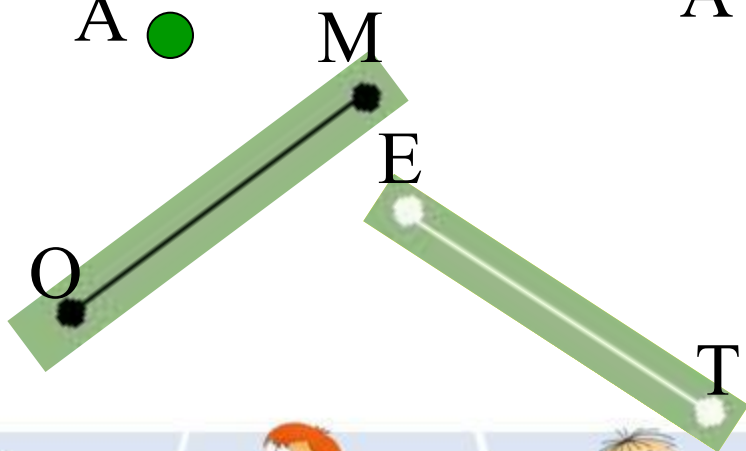
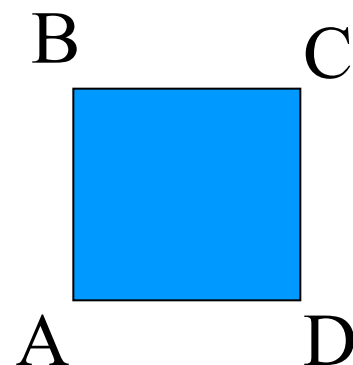
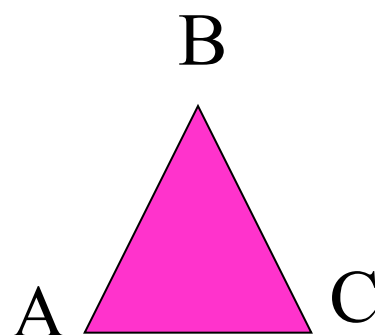
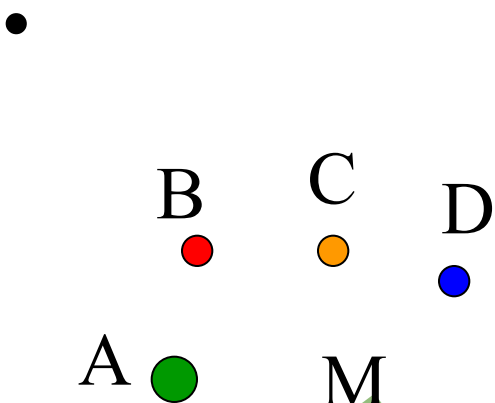


Четырёхугольник *ABCD*

- «Имя» читают с левой нижней вершины по часовой стрелке.



Определи фигуру и назови её «ИМЯ».



***Работа по учебнику стр. 10
№1(устно), №2 (письменно)***



Запиши столбиком и реши примеры.

$$99 - 61 = 38$$

$$23 + 32 = 55$$

$$66 - 55 = 11$$

$$98 - 73 = 25$$

$$17 + 71 = 88$$

$$89 - 37 = 52$$



Домашнее задание

Стр. 10 №3 +
задания по ?

