



МОРСКОЕ ПУТЕШЕСТВИЕ.

ПОДНЯТЬ ПАРУСА!



КУРС НАШЕЙ ЯХТЫ УЗНАЕТЕ, КАК  
ТОЛЬКО ПРОПУЩЕННЫЕ ЧИСЛА  
ВСТАВИТЕ!

$42 + \dots = 45$

$\dots + 5 = 17$

$52 + \dots = 59$

К

ОСТРОВ










РОБИНЗО

у

НА



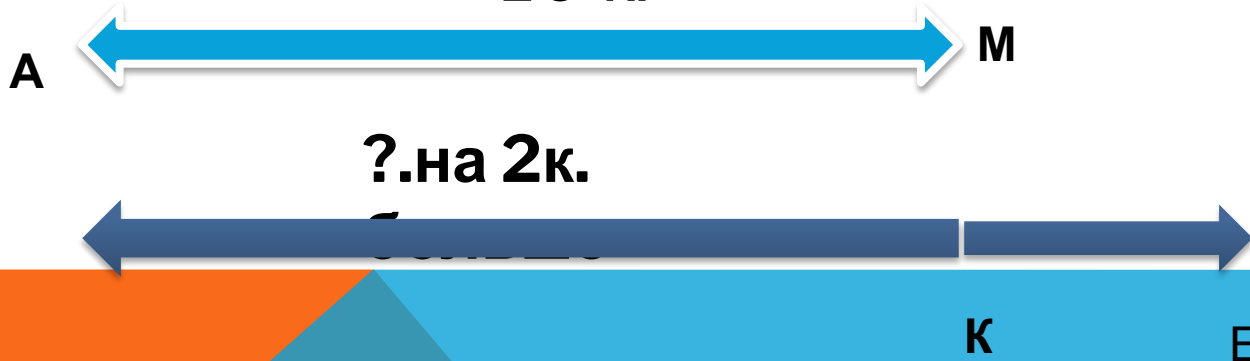
# ЛОГИЧЕСКАЯ ЗАДАЧА

# РАБОТА ПО СОСТАВЛЕНИЮ СХЕМЫ

**В одной коробке 10  
карандашей, а в другой на 2  
карандаша больше. Сколько  
карандашей в одной коробке?**

10 к.




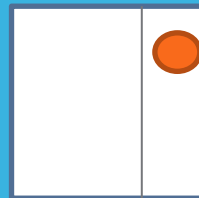
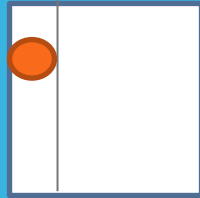

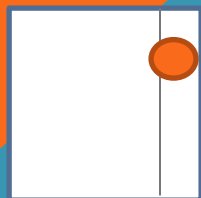
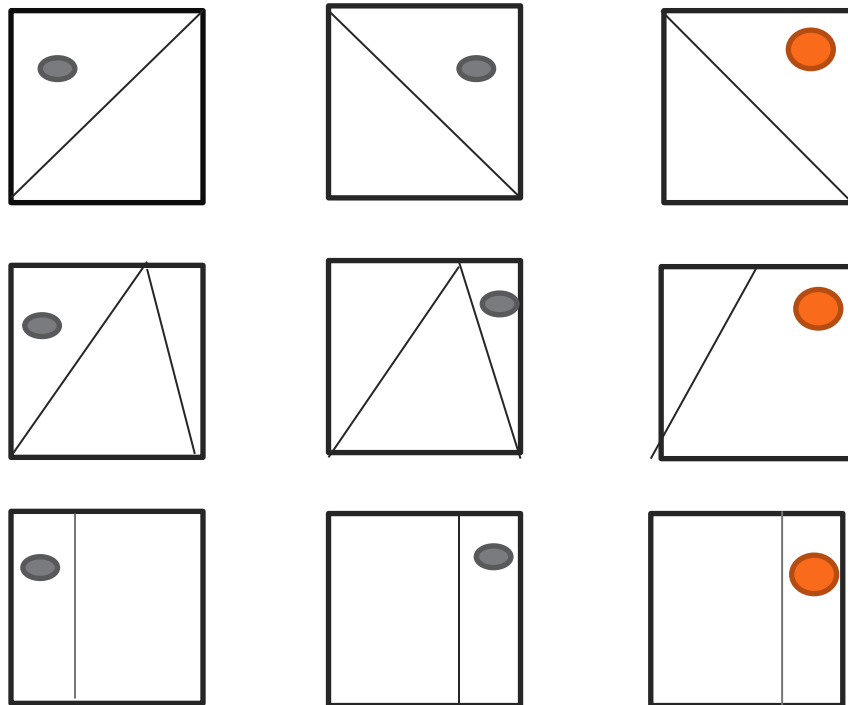


# ОСТРОВ ОШИБОК

# ОСТРОВ ЧИСЛОВЫХ ВЫРАЖЕНИЙ.



# ЛОГИЧЕСКИЙ ПРОЛИВ





A large, multi-masted sailing ship with many sails is sailing on the ocean. The sky is blue with scattered white and grey clouds. The ship is the central focus, with its masts and rigging clearly visible. The water is dark blue with some whitecaps.

**ЧТО НОВОГО  
УЗНАЛИ?  
ЧЕМУ  
НАУЧИЛИСЬ?  
ЧТО  
ПОНРАВИЛОСЬ?**