




1. Девиз урока.

Три пути ведут к знанию:




Путь размышления- это самый благородный;



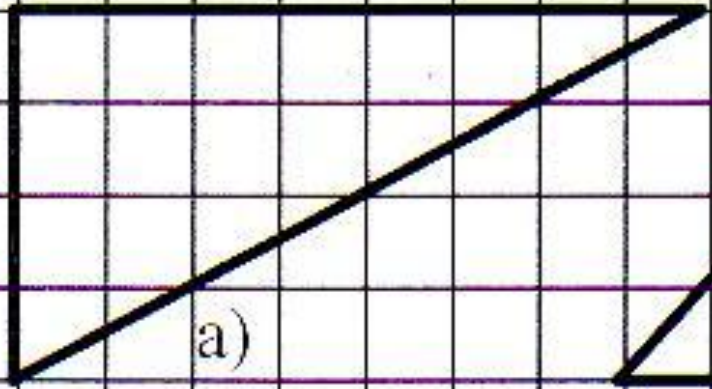
Путь подражания- это самый легкий;

Путь опыта- это путь самый горький.

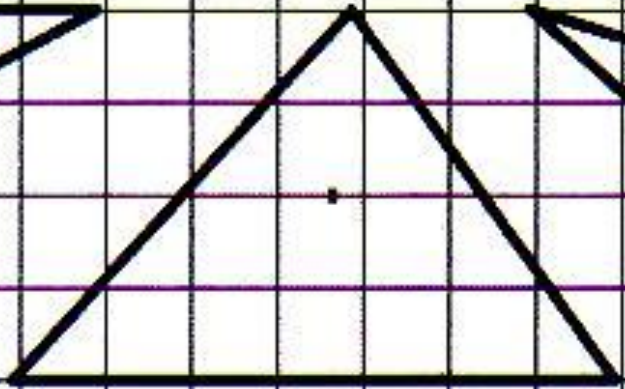


Китайский философ и мудрец Конфуций.

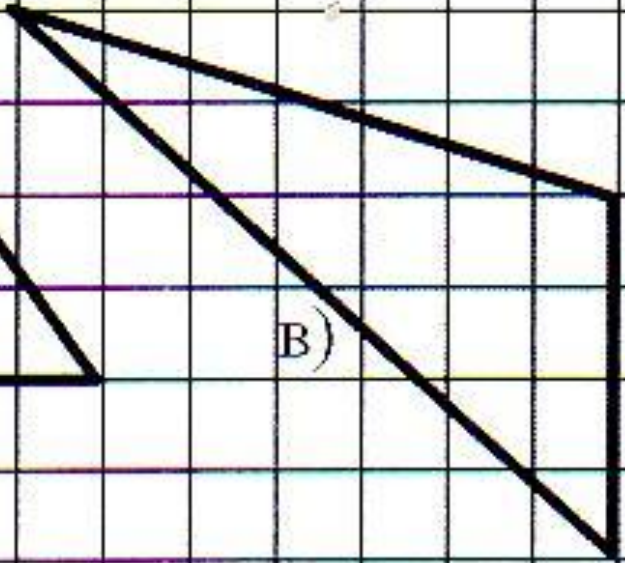




a)



б)



B)



Задача.

Найти углы параллелограмма
если площадь равна 20 кв.
см, а высота, проведенная из
вершины тупого угла, делит
одну из его сторон на
отрезки 2 см и 8 см , считая
от вершины острого угла.

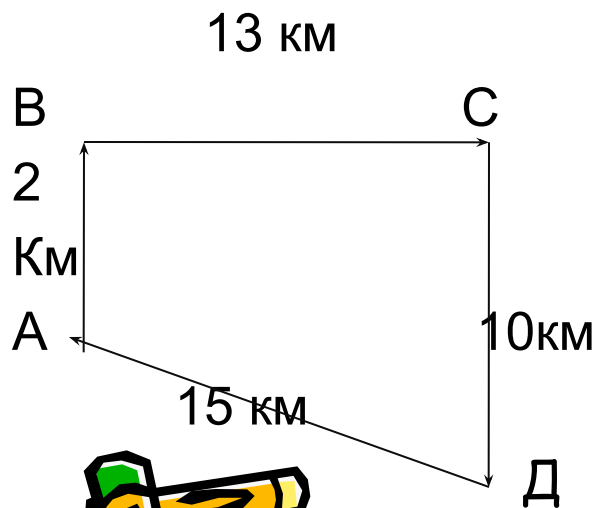


Задача Л.Н.толстого « Много ли человеку земли надо?»


Крестьянин Пахом мечтал о собственной земле и собрав, наконец, желанную сумму, предстал перед старшиной.

« Сколько за день земли обойдешь, вся твоя будет за 1000 рублей. Но если к заходу солнца не возвратишься на место, с которого вышел, пропали твои деньги»-сказал старшина.

Выбежал утром Пахом, прибежал вечером на место и упал без чувств, обежав четырехугольник, периметр которого 40 км.



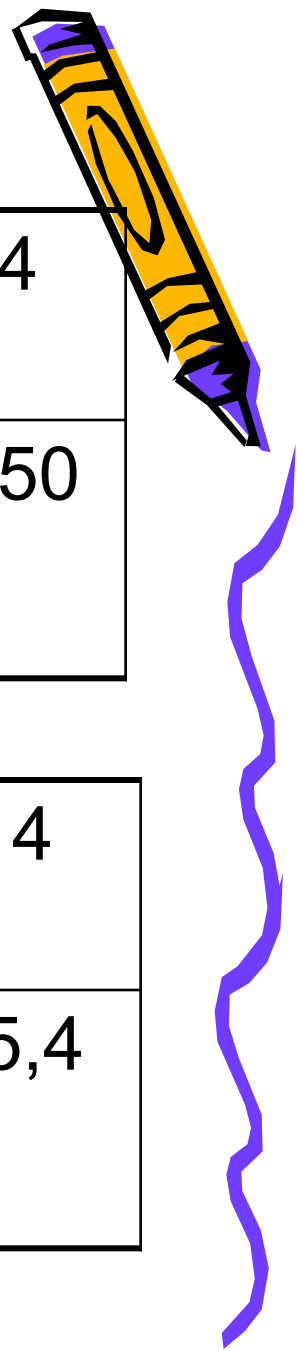
1. Сколько же земли купил себе Пахом?
2. Наибольшую ли площадь при данном Периметре получил Пахом?



ОТВЕТЫ К ТЕСТУ.

№ задания	1	2	3	4
Верный ответ	б	в	6	150

№ задания	1	2	3	4
Верный ответ	б	в	28	5,4




Домашнее задание

- Решить №482.
- Повторить п. 48-53
- Творческое задание

Ландшафтный дизайнер- кто это?

Выполнив необходимые расчеты, необходимо благоустроить земельный участок для высадки цветов.



Продолжите предложение.

- На уроке я работал над...
- Мне было интересно, когда...
- Мне надо поработать над...
- Знания, полученные на уроке мне пригодятся...

