



Виды треугольник

ОВ

СТР. - 73



К уроку №112

«Школа России» 3 класс

Устный счёт



Найдите ошибки в примерах.

$$\begin{array}{r} - 340 \\ 259 \\ \hline 99 \end{array}$$

$$\begin{array}{r} + 358 \\ \underline{162} \\ 410 \end{array}$$

$$\begin{array}{r} - 752 \\ \underline{128} \\ 624 \end{array}$$

Назовите числа, у которых общее количество
десятков
равно 57.



59

572

537

60

579

592


Сосчитайте примеры на порядок действий.



$$780 - 80 + 25 \cdot 4 - 300 \cdot 2 =$$

$$200 \cdot 3 - 100 \cdot 2 - 75 : 5 =$$

$$750 : 10 + 18 \cdot 4 + 200 \cdot 2 =$$


В магазин привезли **100 кг** помидор и **80 кг** огурцов. 
Продали **1/3** часть всех овощей. Сколько овощей
продали?



Для ремонта школы привезли **25** банок синей краски, **30** банок зелёной краски, а белой на **5** больше, чем синей

и зелёной вместе. Сколько белой краски привезли в школу?



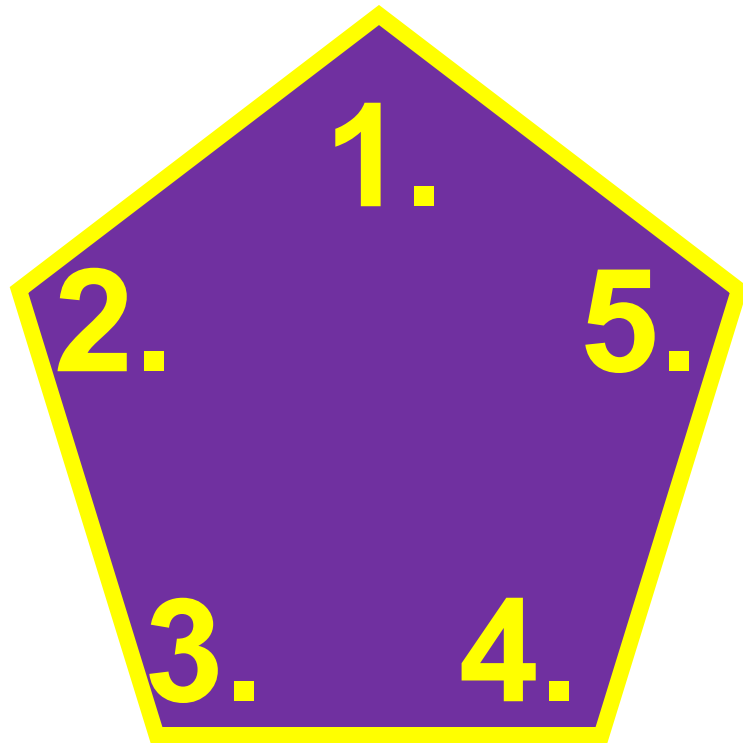
Сумма длин всех сторон шестиугольника равна **84 см**, найдите длину стороны, если все стороны шестиугольника одинаковые. 



Назовите номера тупых и острых углов.



8.




6.

9.


10.

11.





12.


РАЗНОСТОРОННИЕ



РАВНОБЕДРЕННЫЕ



РАВНОСТОРОННИЕ



Задания на смекалку



Сидят три барана, против каждого барана - два барана,

много ль всех?



Ответ: 3

конец