

Окружающий мир 3
класс
УМК «Школа России»

Тест №21

*Невидимая сеть
и невидимая
пирамида*



Все вопросы и задания разделены на три уровня сложности: уровень А – базовый, уровень В – средней сложности, уровень С – повышенной сложности. Задания уровней А и В предполагают один верный ответ, в заданиях уровня С может быть как один, так и несколько правильных ответов.

Рекомендации по оцениванию результатов:

Каждое верно выполненное задание уровня А оценивается в 1 балл, уровня В – в 2 балла, уровня С – в 3 балла.

80 – 100% - оценка «5»;

60 – 80% - оценка «4»;

40 – 60% - оценка «3»;

0 - 40% - оценка «2».



A1

**В основании экологической пирамиды
находятся:**

1. насекомые

**3.
растительные**

2. хищники

4. растения



A2

Кого или чего больше в лесу?

1. мышей

3. сов

2. желудей


4. волков



А3

Кто в пищевой сети напрямую связан с дубом?

1. волки




3. змеи



2. совы



4. белки



A4

Кто в пищевой сети косвенно связан с елью?


1. совы




3. клесты



2. белки



4. поползни



B1

Укажи верное определение пищевой сети.

1.

**переплетение
цепей питания**

3.

**экологическая
пирамида**

2. цепь

**питания из
нескольких
животных**

**4. несколько
цепей питания**



B2

**Какие животные входят в пищевую сеть с
елью?**

**1. клёст,
белка**

**3. кабан,
мышь**

**2. снегирь,
лиса**

**4. комар,
змея**



C1

Отгадай загадки. Кто из этих животных не находится в общей пищевой сети с другими?

**1. Орешек взял и
наутёк,
С большим хвостом
пушной зверёк.**

**3. Зимой спит,
Летом – ульи
ворошит.**

**2. Под полом, полом
Шевелит хвостом.**

**4. Днём спит, ночью
летает –
прохожих пугает.**



Ключ к тесту:

A1	A2	A3	A4	B1	B2	C1
4	2	4	1	1	1	3
16.	16.	16.	16.	26.	26.	36.



Ссылки на интернет-ресурсы

<http://photosflowery.ru/photo/7d/7d8101ddcc9cafb31bd5e377bfed3d9.jpg> - МЫШЬ

<http://raw.designveryeasy.com/images/original/Gray-Wolf-Minnesota-15362151024-129563-HD-Wallpaper-Res-1536x1024-162532.jpg> - ВОЛК

<https://i.7fon.ru/thumb/g692941.jpg> - СОВЫ

<http://v2017god.ru/wp-content/uploads/2016/01/Goroskop-dlya-Zmei-na-2017-god...jpg> - ЗМЕИ

http://www.wallpage.ru/imgbig/wallpapers_37532.jpg - БЕЛКА

<http://www.nhptv.org/wild/images/Loxiacurvirostra.jpg> - КЛЕСТЫ

<http://bird-ukraine.pp.ua/images/slideshow/Sitta%20europaea/Sitta%20europaea8.JPG> - ПОПОЛЗЕНЬ

Ссылки на интернет-ресурсы

https://fs00.infourok.ru/images/doc/37/47293/hello_html_m1ffe7d15.png

http://4.bp.blogspot.com/-kYa-doxF1Tk/T5D9I6JrAMI/AAAAAAAAAY8/ IIN4W5A0NU/s1600/0_3a863_5f0d106f_L.png

<http://www.lenagold.ru/fon/list/geze/gezelist128.jpg>

<http://blaze3.webege.com/images/world.png>

http://img0.liveinternet.ru/images/attach/c/6/90/205/90205970_large_2221182.png

*Шаблон выполнен
учителем иностранного языка
МОУ СОШ №1 г. Камешково
Шахториной О. В.*

Литература:

Контрольно-измерительные материалы. Окружающий мир. 3 класс. Автор И.Ф.

Яценко

