



ВЕБЧИК МГ+ КАРТОГРАФИЯ





Вспоминаем метод решения карт

КАРТЫ

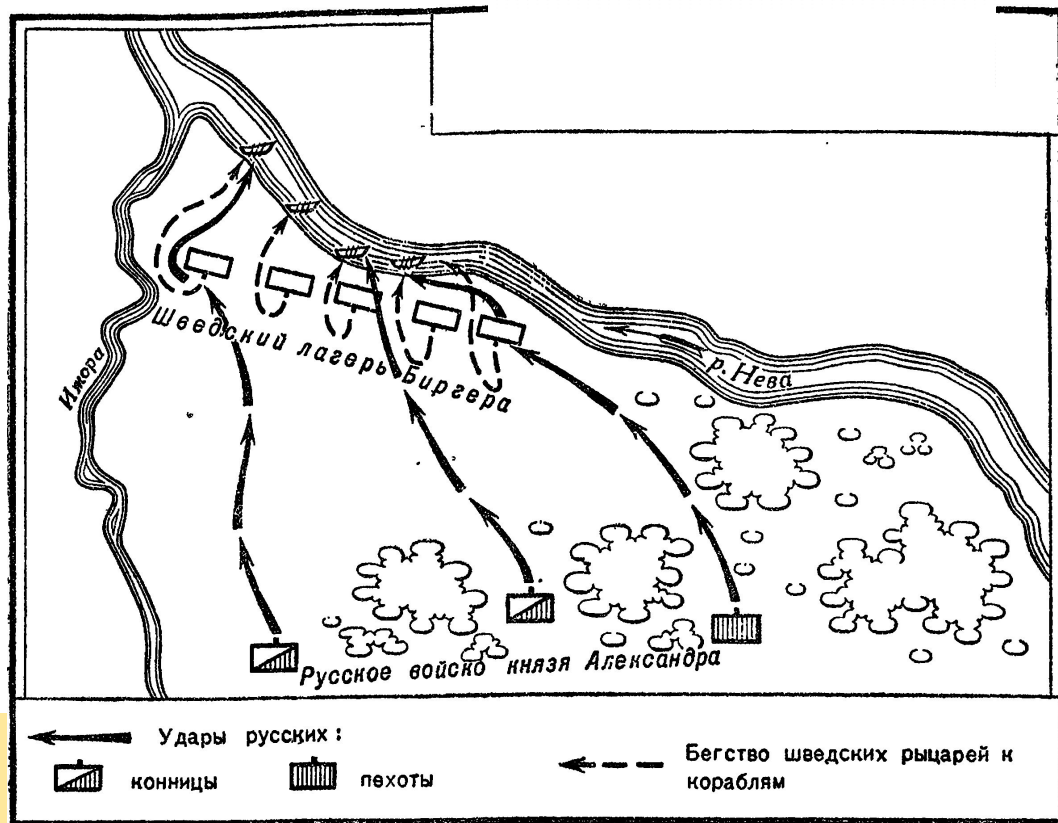


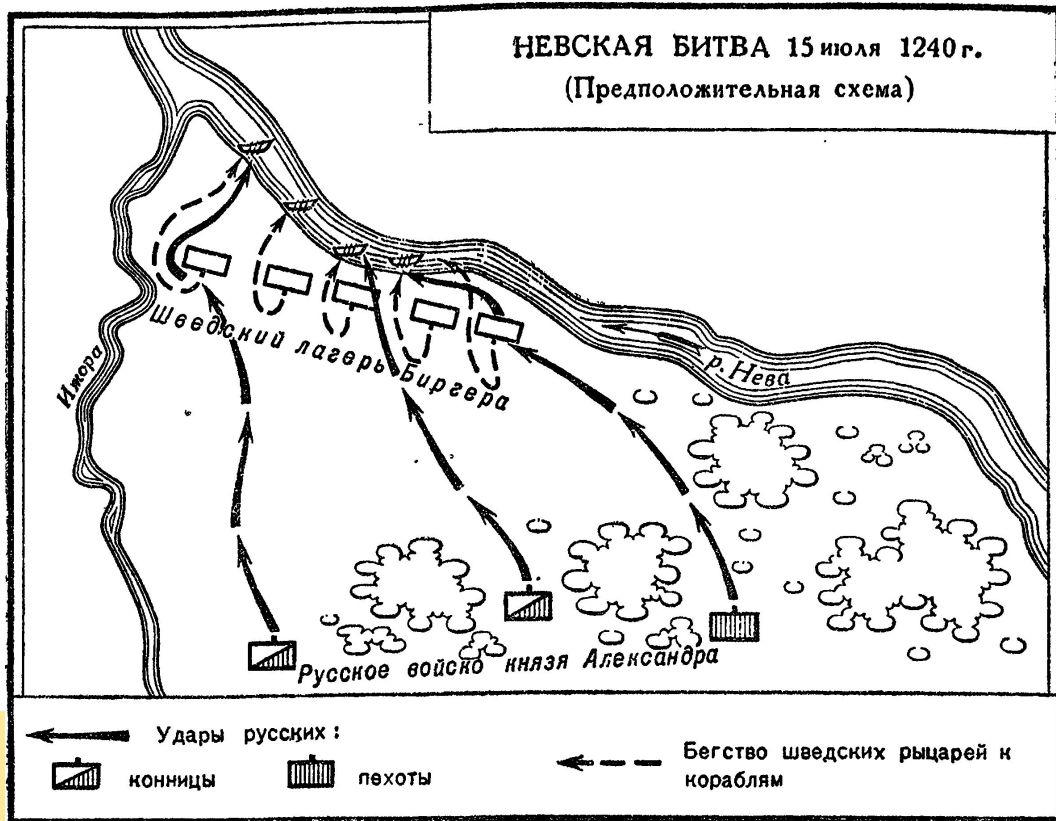
КАРТЫ



ПОХОДЫ БАТЫЯ 1237-1240

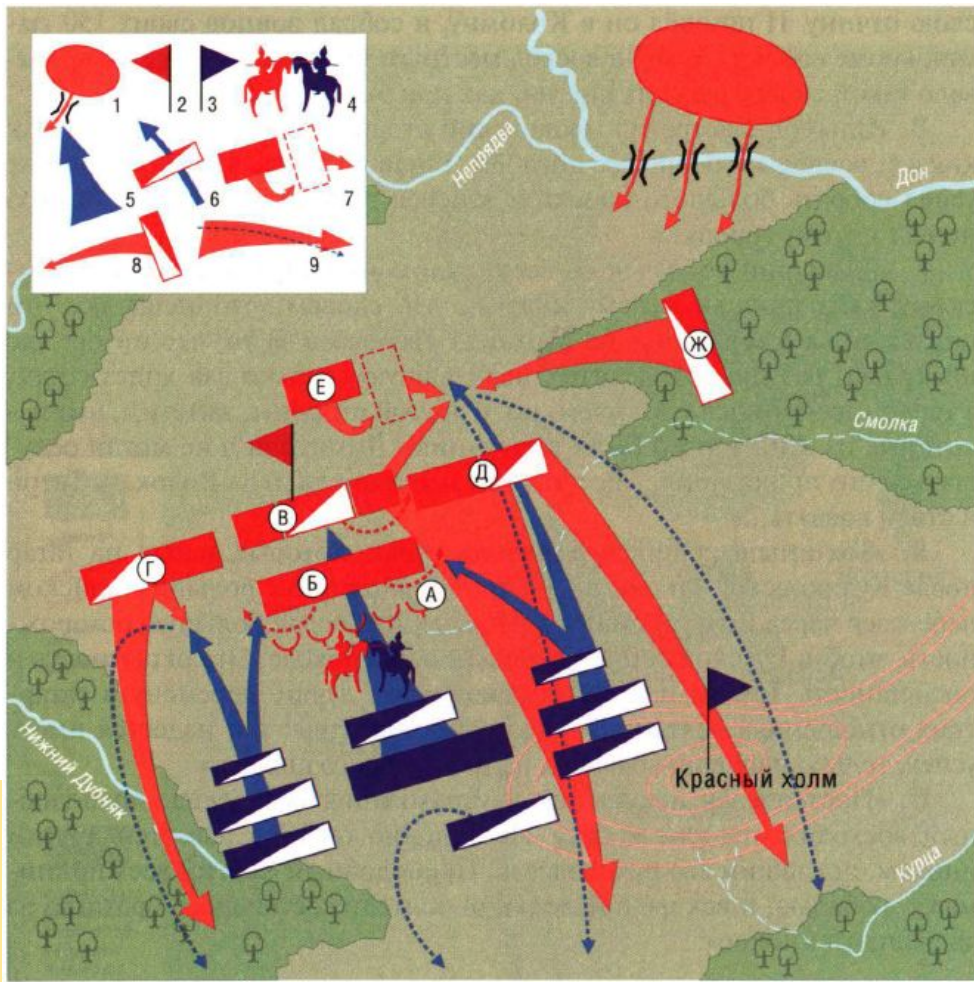




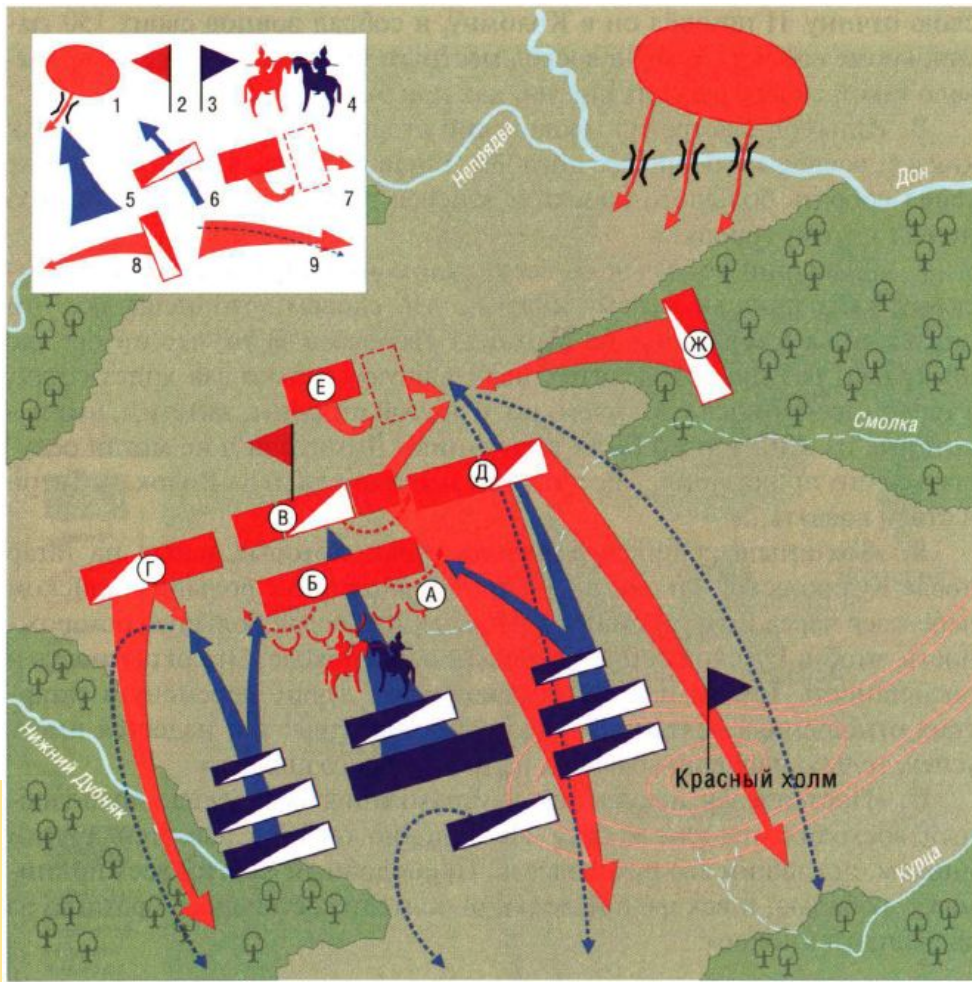


НЕВСКАЯ БИТВА

КАРТЫ



КАРТЫ



КУЛИКОВСКАЯ БИТВА



КАРТЫ



КАРТЫ



Объединение русских земель вокруг Москвы





3. Какие три из перечисленных городов к середине XIV в. вошли в состав Московского княжества? Запишите соответствующие цифры в таблицу.

- | | |
|--------------|--------------------------|
| 1) Коломна | 4) Нижний Новгород |
| 2) Ярославль | 5) Переяславль-Залесский |
| 3) Можайск | 6) Тверь |

Ответ:



4. О каком событии идёт речь в отрывке из сочинения историка? Запишите название события и цифру, которой оно отмечено на карте.

«Согласно московским источникам, 15 июня ратники [московского воеводы] Холмского перешли „великую реку“, бросились на новгородцев, „яко львы рыкающе“, и те обратились в бегство. На самом деле сражение началось неудачно для москвичей. Как следует из новгородских источников, новгородцам сначала удалось использовать перевес в силах. Они „бишася много и побиша москвич много“... Но тут на новгородскую пехоту обрушились татары... Новгородская рать потерпела сокрушительное поражение. Новгородцы подверглись кровавой резне».

Ответ: _____

КАРТЫ



2. Определите:

- А) московские владения к началу правления Ивана III;
Б) территориальные приобретения Москвы при Иване III;
В) приобретения при Василии III.

- 1) Владимирская земля 5) Псковская земля
2) Вятская земля 6) Ростовская земля
3) Нижегородская земля 7) Рязанская земля
4) Новгородская земля 8) Тверская земля

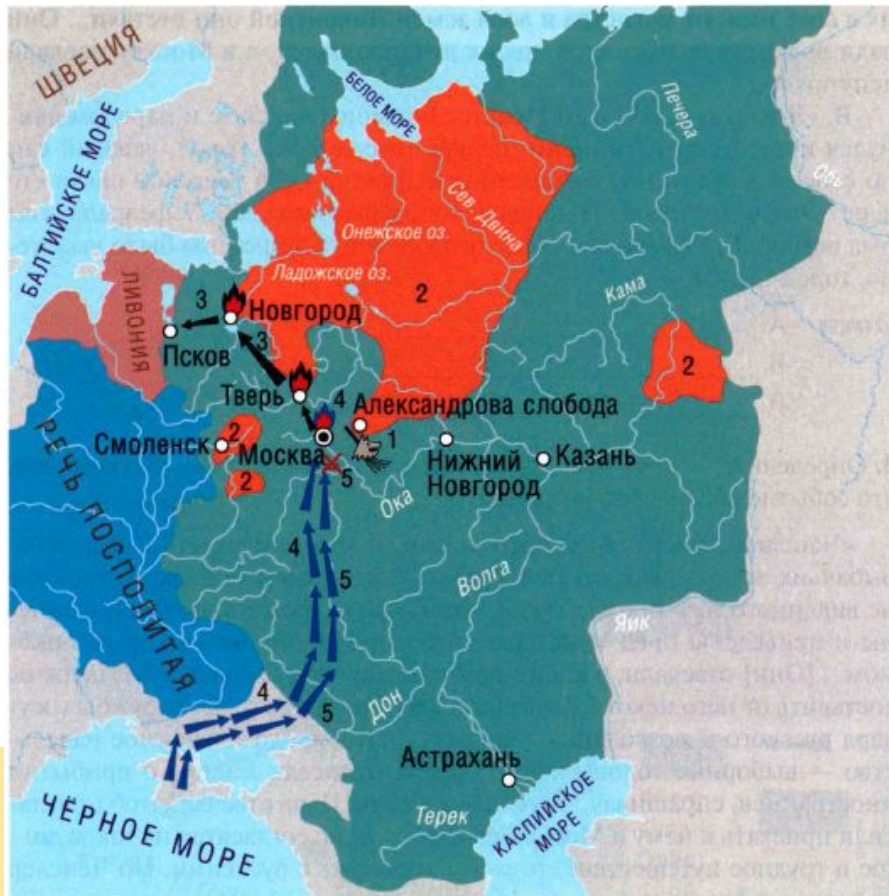
Запишите в таблицу выбранные цифры под соответствующими буквами.

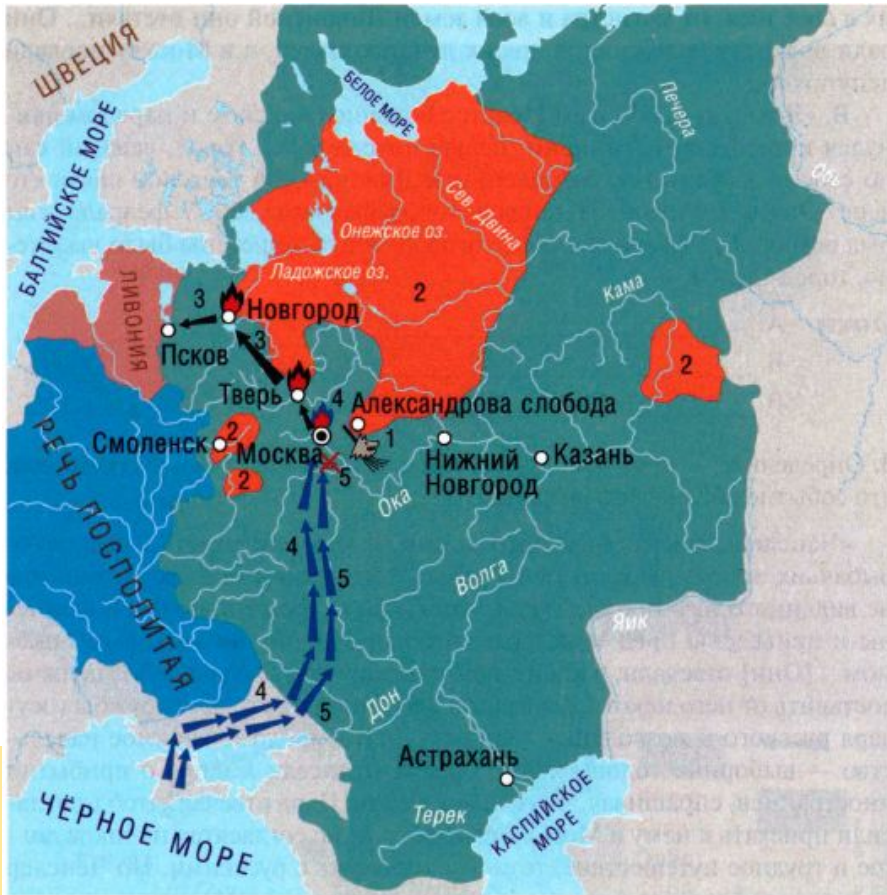
Ответ:

А	Б	В

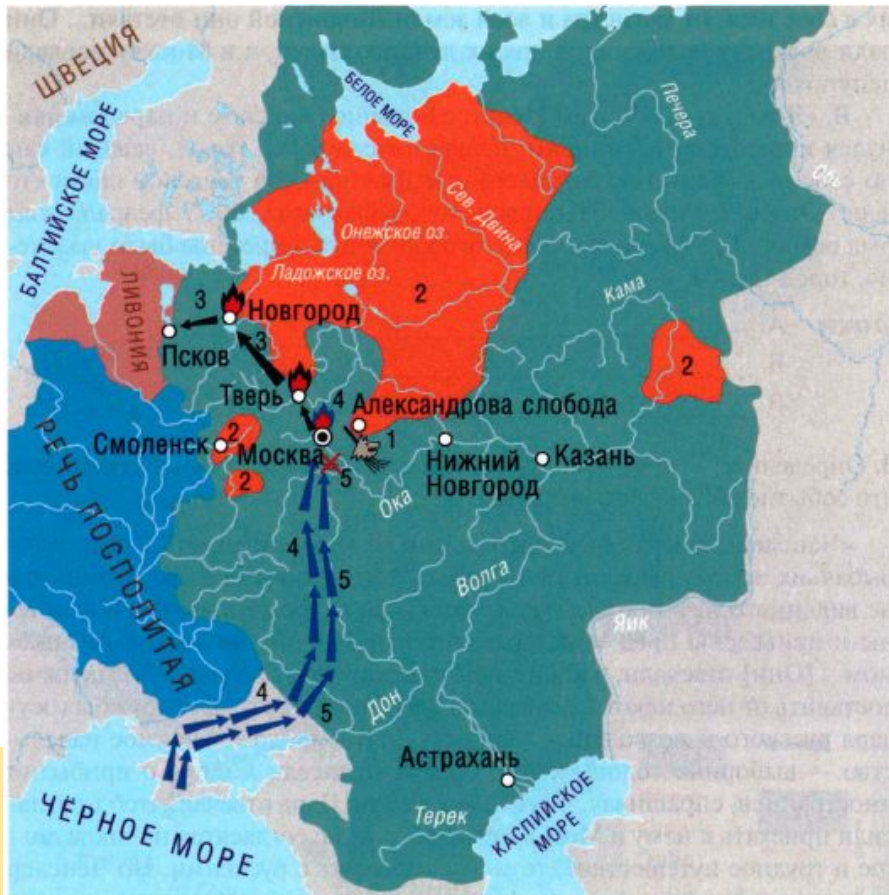


КАРТЫ





Опричнина



3. Установите соответствие между населёнными пунктами и связанными с ними историческими фактами. К каждой позиции первого столбца подберите соответствующую позицию второго столбца.

Населённые пункты

- А) Александрова слобода
- Б) Москва
- В) Новгород
- Г) Село Молоди

Исторические факты

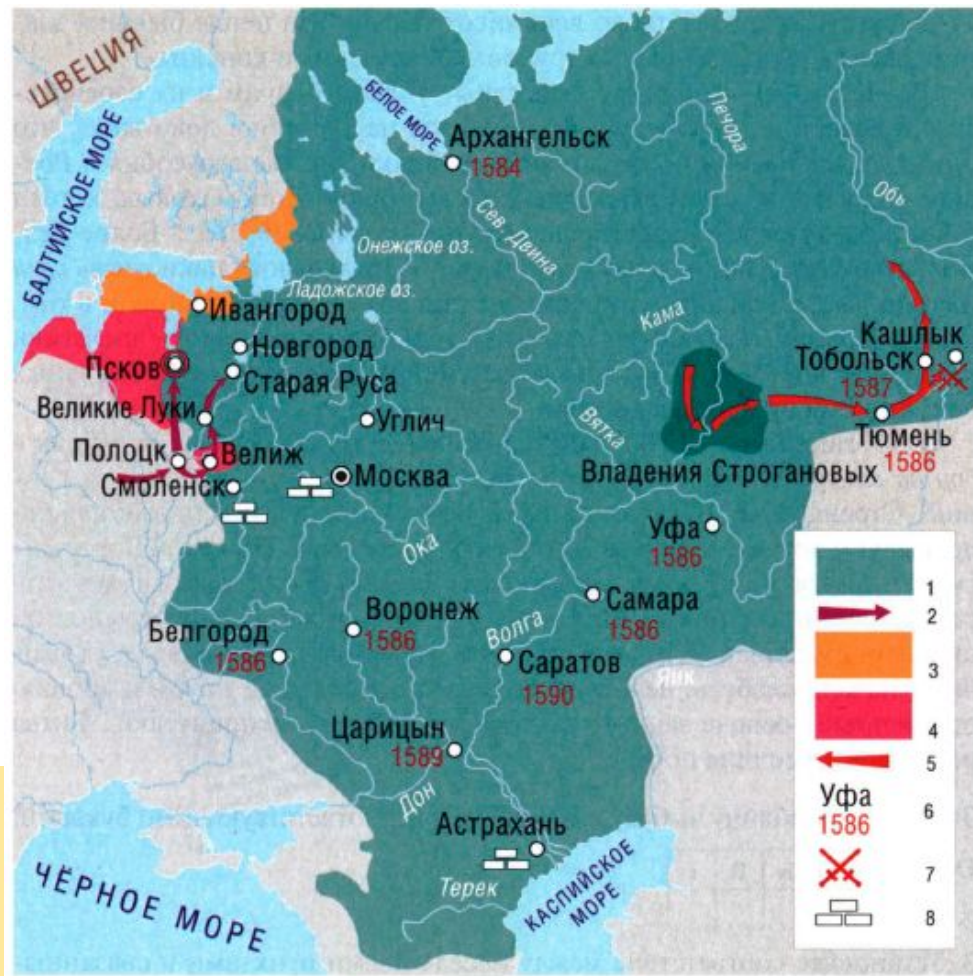
- 1) разгром польско-литовского войска
- 2) разгром крымских татар
- 3) разорение опричным войском
- 4) разорение крымскими татарами
- 5) царская резиденция в период опричнины

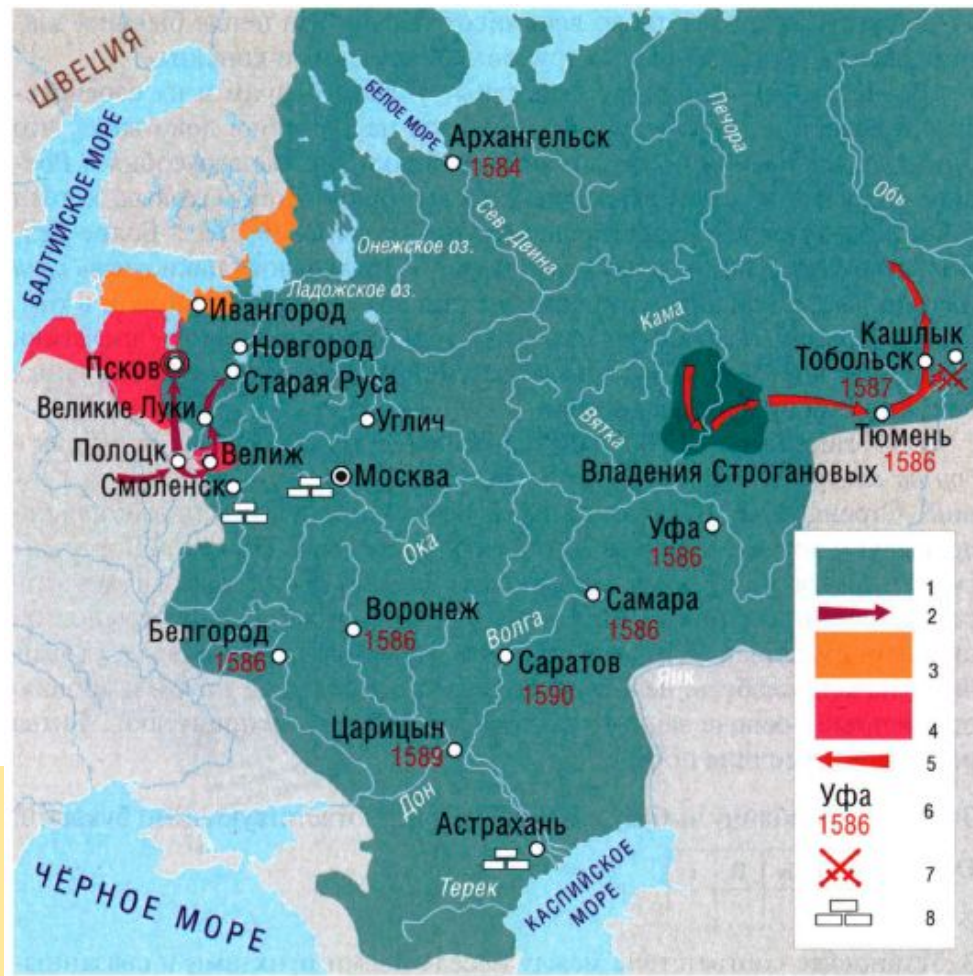
Запишите в таблицу выбранные цифры под соответствующими буквами.

Ответ:

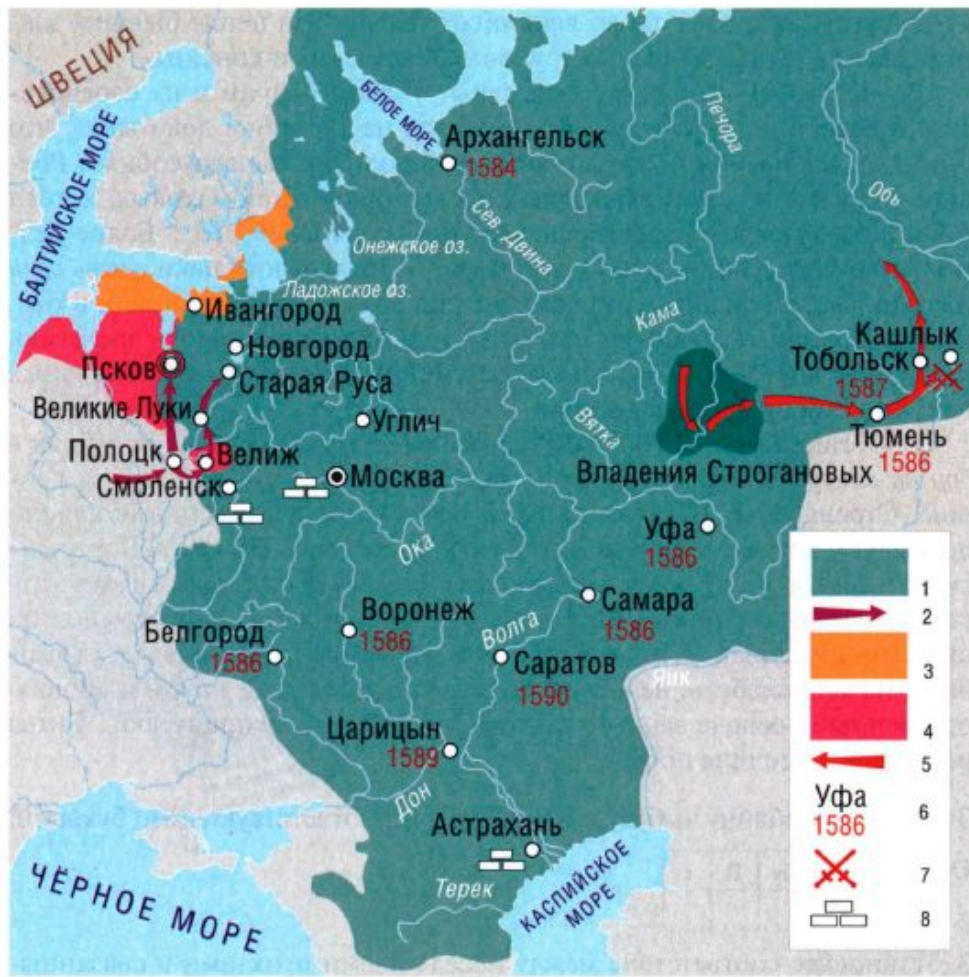
А	Б	В	Г

КАРТЫ





КОНЕЦ XVI ВЕКА



3. Какие три из перечисленных городов были основаны в конце XVI в.? Запишите соответствующие цифры.

- 1) Астрахань
- 2) Архангельск
- 3) Воронеж
- 4) Казань
- 5) Смоленск
- 6) Тобольск

Ответ:

4. В каких трёх городах в конце XVI в. были построены новые каменные крепости? Запишите соответствующие цифры.

- 1) Архангельск
- 2) Астрахань
- 3) Казань
- 4) Москва
- 5) Новгород
- 6) Смоленск

Ответ:

КАРТЫ

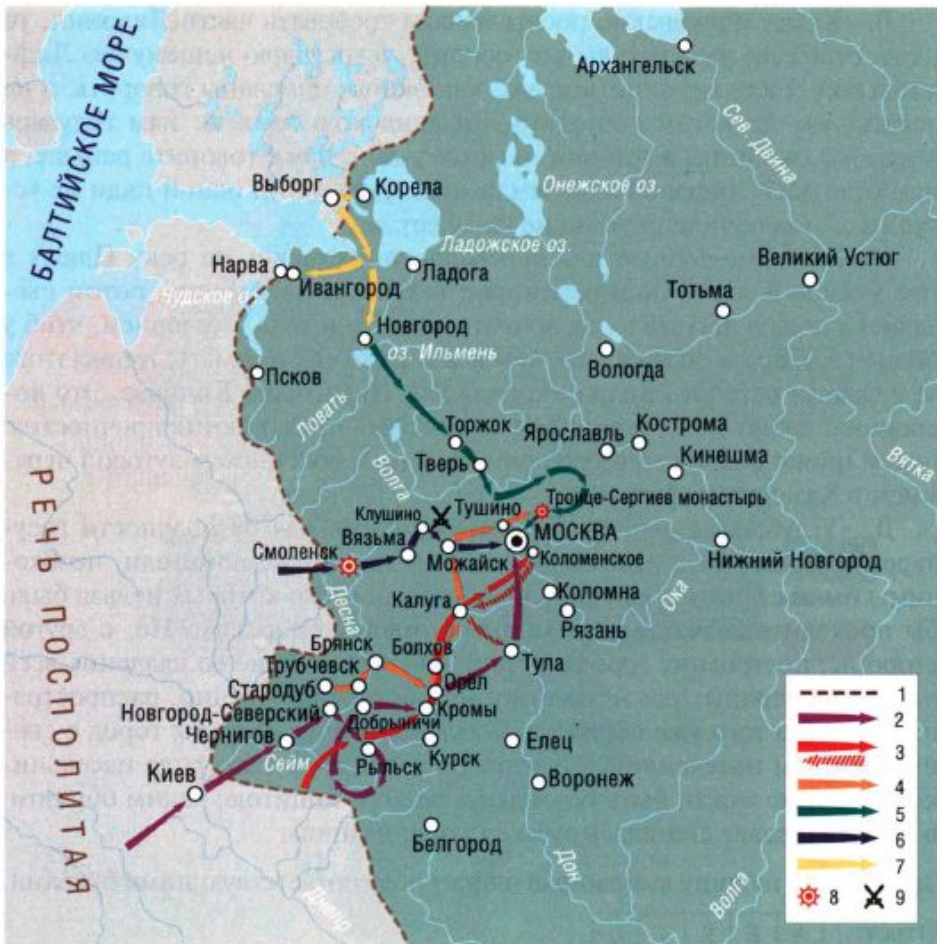


КАРТЫ



СМУТА





3. Установите соответствие между населёнными пунктами и связанными с ними историческими фактами. К каждой позиции первого столбца подберите соответствующую позицию второго столбца.

Населённые пункты

- А) Троице-Сергиев монастырь
 Б) Клушино
 В) Коломенское
 Г) Тушино

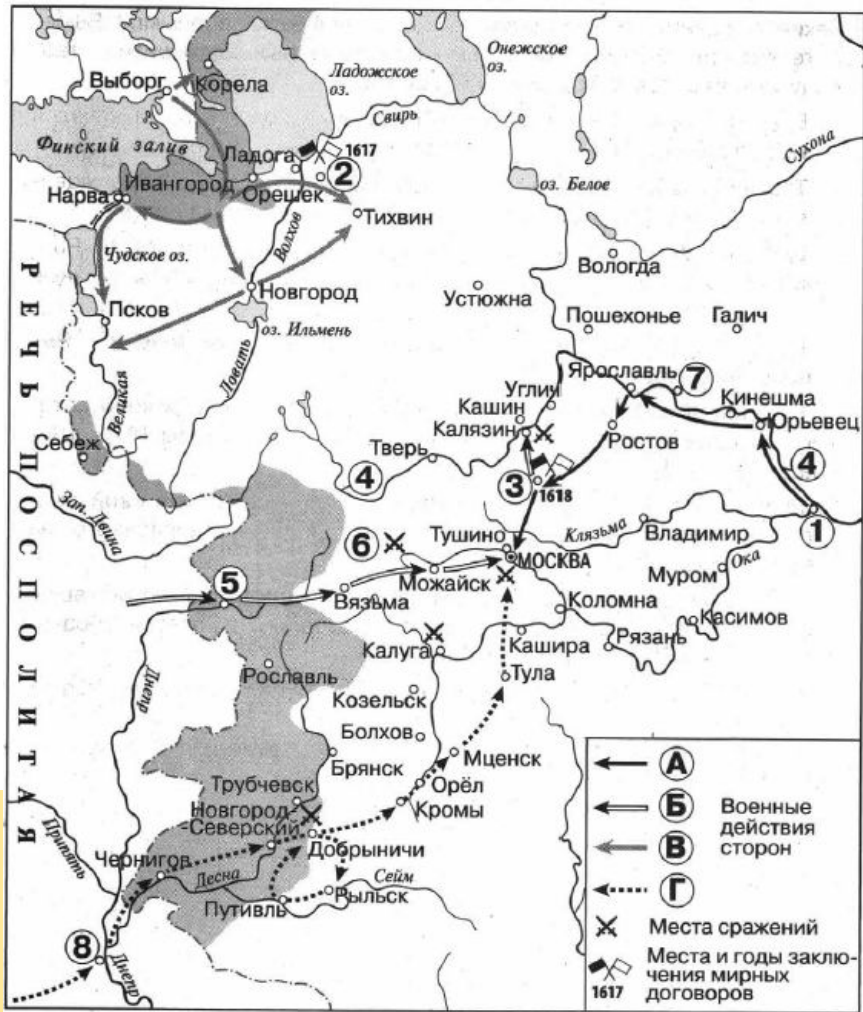
Исторические факты

- 1) разгром войска И. Болотникова
 2) разгром русско-шведской армии
 3) осада сторонниками Лжедмитрия II
 4) переход границы войсками Лжедмитрия I
 5) ставка Лжедмитрия II

Запишите в таблицу выбранные цифры под соответствующими буквами.

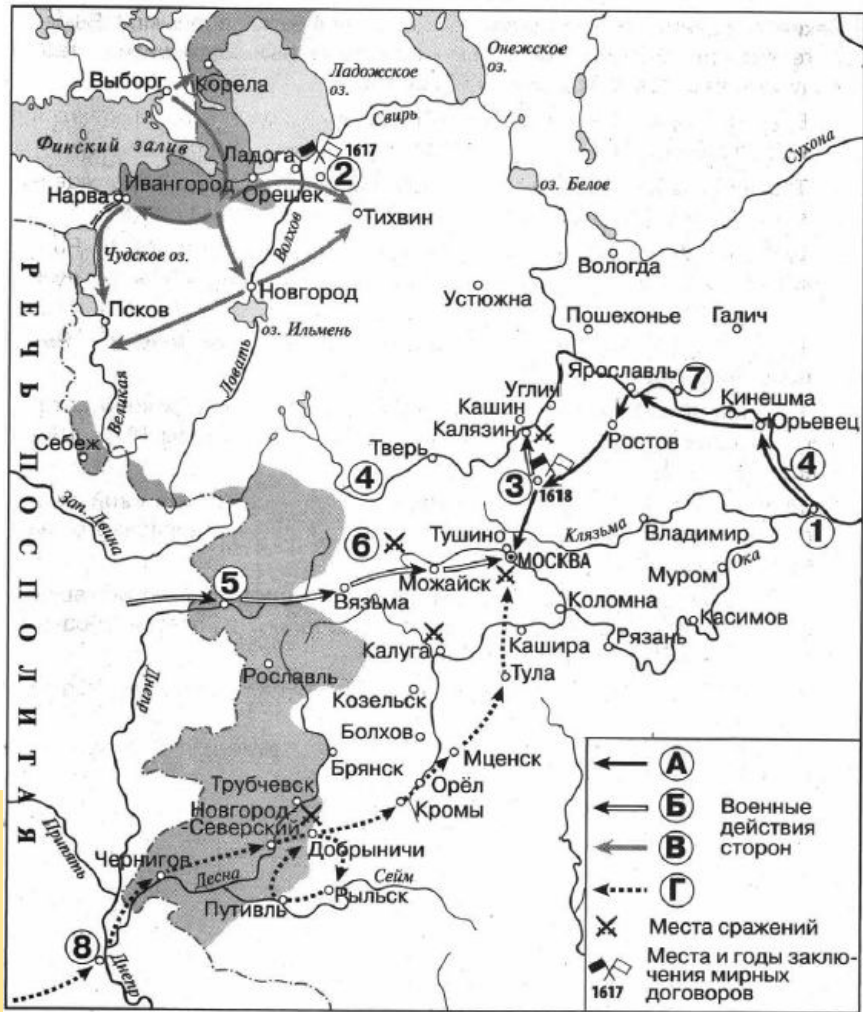
Ответ:

А	Б	В	Г



Заполните пропуск в предложении: «Буквой «Г» в легенде схемы обозначен поход, начавшийся в период правления в России царя _____».

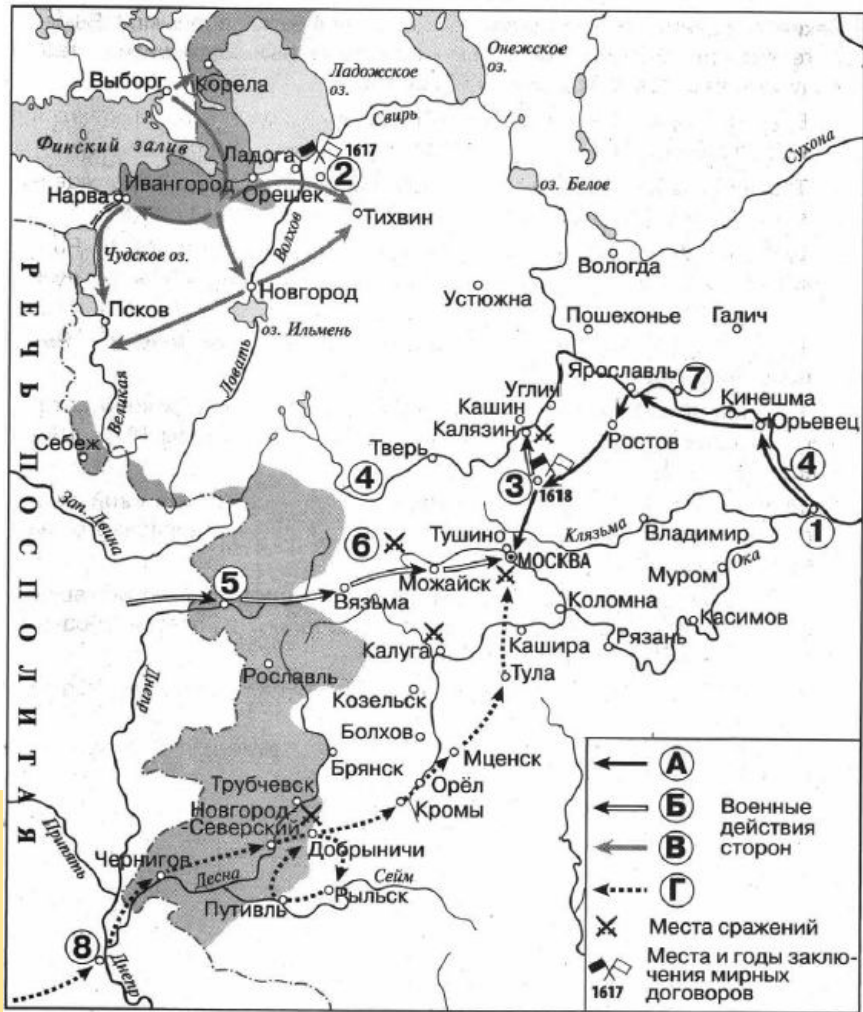
Ответ: _____.



Заполните пропуск в предложении: «Буквой «Г» в легенде схемы обозначен поход, начавшийся в период правления в России царя _____».

Ответ: _____.

КАРТЫ

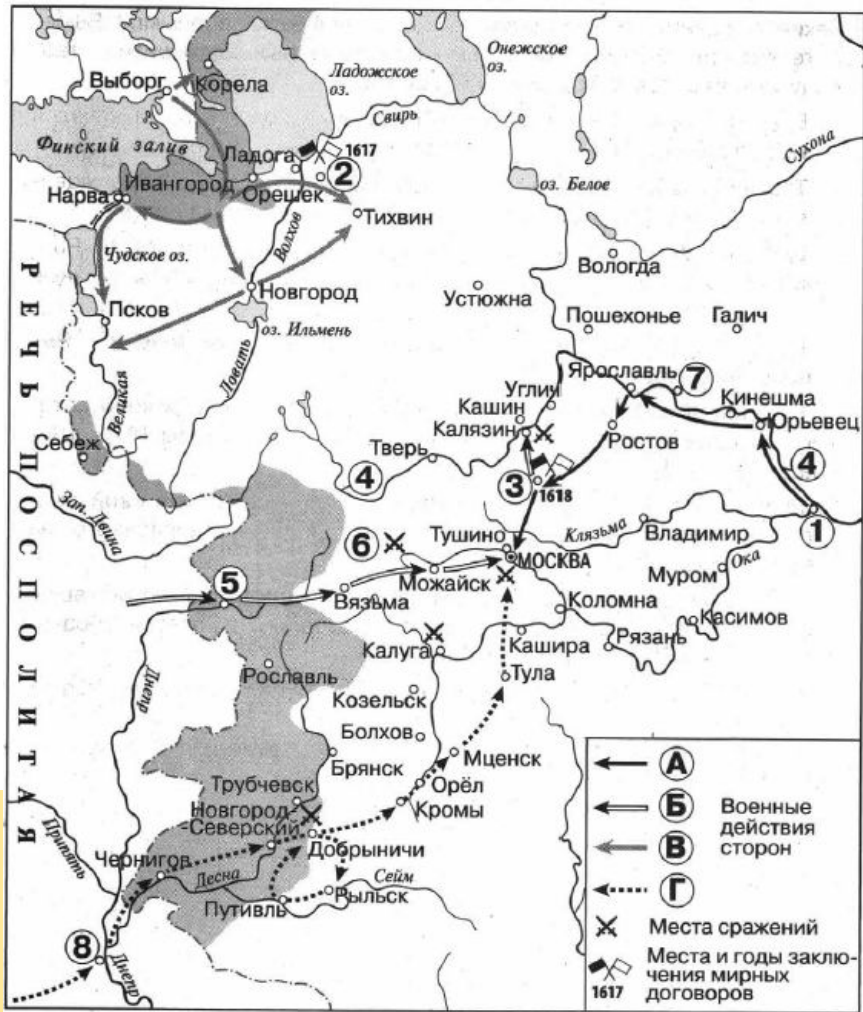


Заполните пропуск в предложении: «Цифрой «2» на схеме обозначено место заключения мирного договора между Россией и _____».

Ответ: _____.



КАРТЫ



Укажите название города, обозначенного на схеме цифрой «1».

Ответ: _____.

Укажите название реки, дважды обозначенной на схеме цифрой «4».

Ответ: _____.



Укажите название города, обозначенного на схеме цифрой «5».

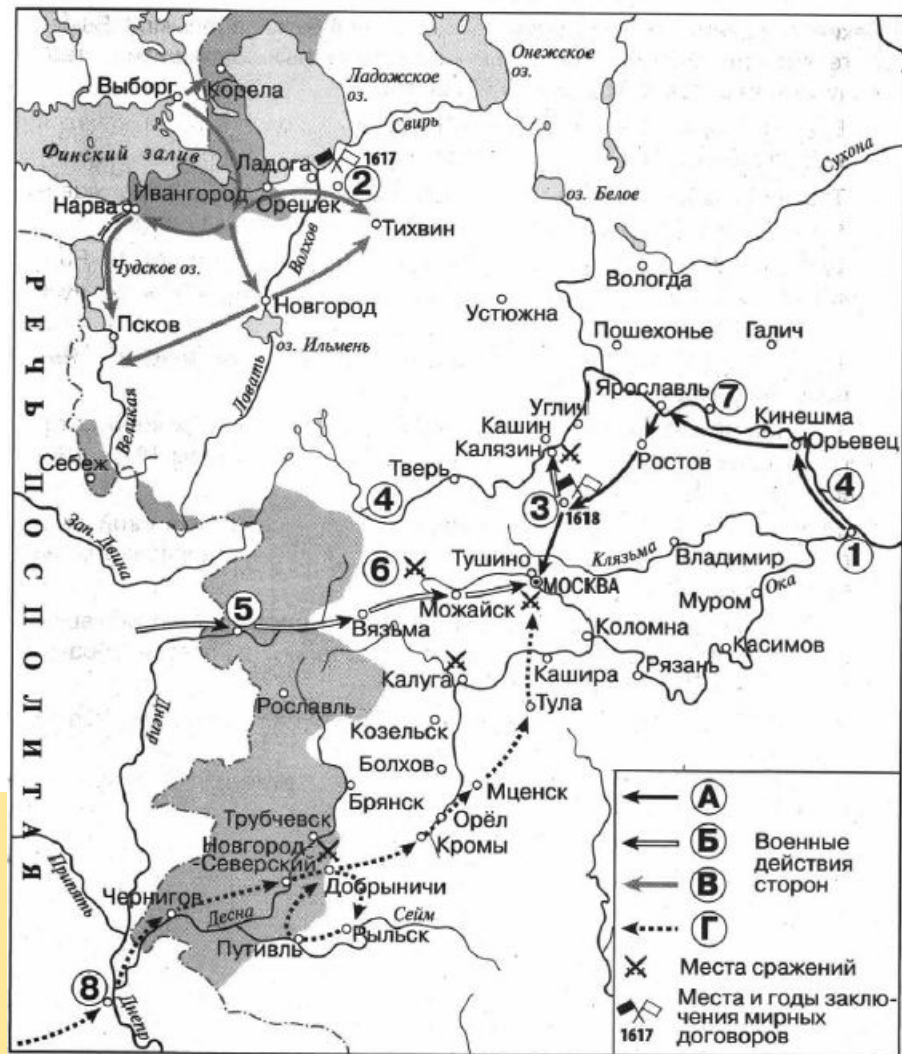
Ответ: _____.

Какие суждения, относящиеся к схеме, являются верными? Выберите четыре суждения из восьми предложенных. Запишите в таблицу **цифры**, под которыми они указаны.

- 1) Буквой «Б» в легенде схемы обозначен поход, который начался раньше похода, обозначенного в легенде схемы буквой «А».
- 2) Территориальные изменения, обозначенные на схеме серым цветом, привели к расширению границ Российского государства.
- 3) Цифрой «8» на схеме обозначен город, вошедший в состав Российского государства в том же веке, когда произошли обозначенные на схеме события.
- 4) Цифрой «3» на схеме обозначено место заключения Ям-Запольского мира.
- 5) Цифрой «6» на схеме обозначено место сражения, в ходе которого русские войска сражались под предводительством М. Б. Шеина.
- 6) Русский национальный герой Иван Сусанин совершил свой подвиг в непосредственной близости от города, обозначенного на схеме цифрой «7».
- 7) На схеме обозначено и подписано государство, прекратившее своё существование в том же веке, к которому относятся обозначенные на схеме стрелками события.
- 8) Завоеватели, поход которых обозначен на схеме, захватили Вязьму.

Ответ:

--	--	--	--	--



КАРТЫ



Укажите название города, обозначенного на схеме цифрой «7».

Ответ: _____.

Укажите фамилию полководца, командовавшего войсками, совершившими поход, обозначенный в легенде схемы цифрой «4».

Ответ: _____.



КАРТЫ



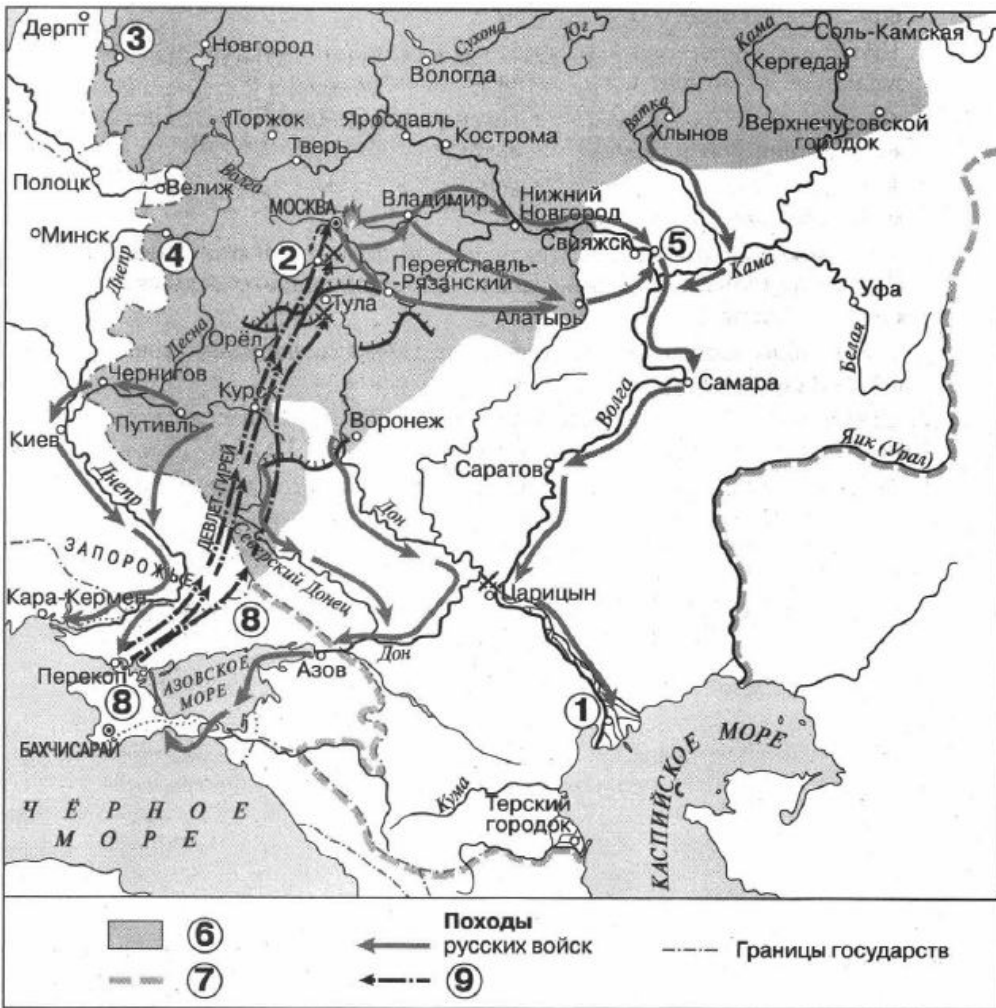
Какие суждения, относящиеся к схеме, являются верными? Выберите пять суждений из девяти предложенных. Запишите в таблицу **цифры**, под которыми они указаны.

- 1) Цифрой «1» на схеме обозначен город Псков.
- 2) На схеме обозначена и подписана река, на которой в 1240 г. русские войска под командованием Александра Ярославича одержали победу над шведским войском.
- 3) Цифрой «6» в легенде схемы обозначена территория, вошедшая в состав России в результате войны, к которой относятся показанные на схеме события.
- 4) Цифрой «2» на схеме обозначен город, вошедший в состав Российского государства в результате победы в Северной войне.
- 5) На схеме обозначено и подписано государственное образование, прекратившее своё существование в ходе войны, которой посвящена схема.
- 6) Город Ништадт обозначен на схеме цифрой «3».
- 7) На схеме обозначен и подписан город — племенной центр полян.
- 8) В ходе боевых действий, обозначенных на схеме, русские войска взяли Дерпт.
- 9) В ходе боевых действий, обозначенных на схеме, русские войска взяли Ковно.

Ответ:

--	--	--	--	--

КАРТЫ



Заполните пропуск в предложении: «Цифрой «7» в легенде схемы обозначена граница территорий, присоединённых к Российскому государству к концу _____ века». Ответ запишите словом.

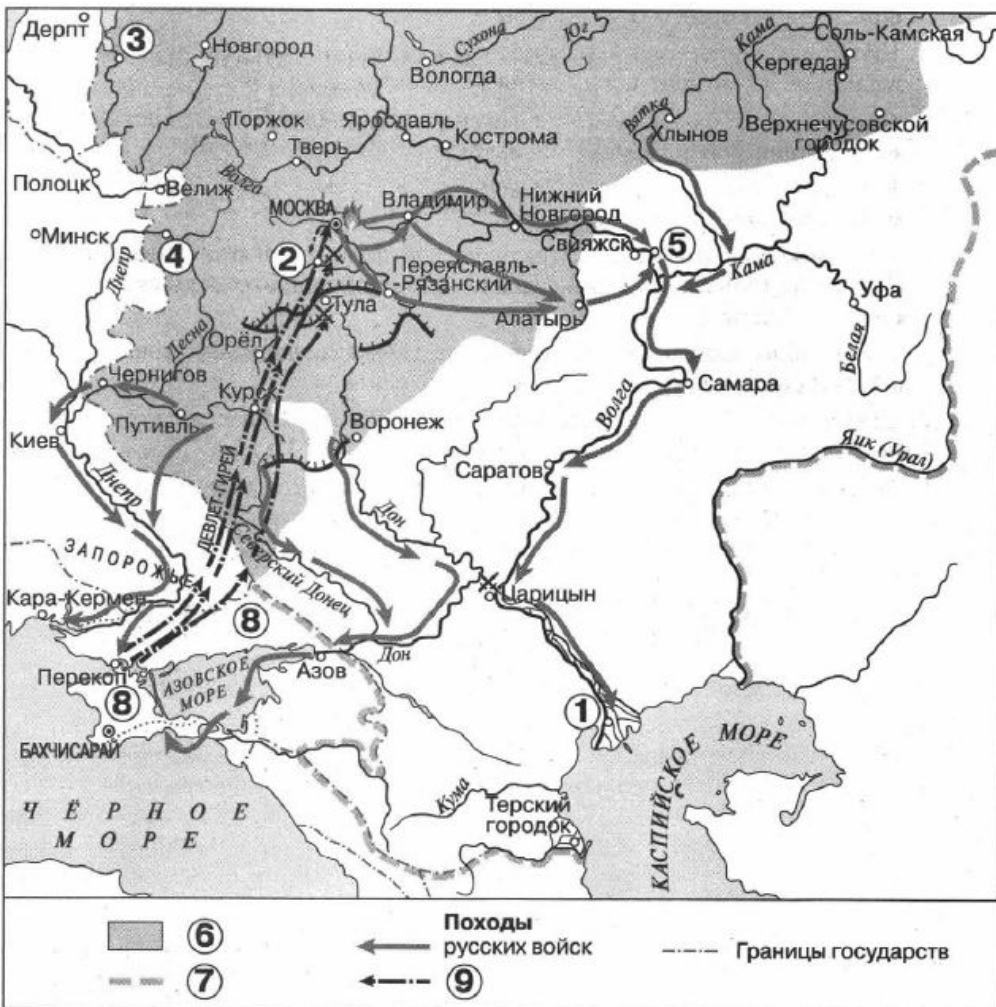
Ответ: _____.

Укажите название города, обозначенного на схеме цифрой «5».

Ответ: _____.

Назовите монарха, в годы правления которого в состав Российского государства вошли города, обозначенные на схеме цифрами «3» и «4».

Ответ: _____.



Укажите название государственного образования, обозначенного на схеме цифрой «8».

Ответ: _____.

Какие суждения, относящиеся к схеме, являются верными? Выберите три суждения из семи предложенных. Запишите в таблицу **цифры**, под которыми они указаны.

- 1) Цифрой «6» в легенде схемы обозначена территория Российского государства на момент восшествия на престол Ивана III.
- 2) Стрелками, обозначенными в легенде схемы цифрой «9», показаны действия войск Османской империи.
- 3) В походах русских войск, обозначенных на схеме, принимали участие стрелецкие полки.
- 4) На схеме обозначена и подписана река, по которой в древности проходил торговый путь, связывавший Русь со странами Арабского Востока и Персией.
- 5) Все походы, обозначенные в легенде схемы цифрой «9», завершились поражением участвовавших в них войск.
- 6) Цифрой «1» на схеме обозначен город, который был сдан жителями восставшим под предводительством Степана Разина.
- 7) Первый русский флот был построен в конце XVII в. в городе, обозначенном на схеме цифрой «2».

Ответ:



**ВСЕ НОРМАЛЬНО,
КАК ОБЫЧНО**

risovach.ru

