

# Задания для домашнего обучения



# Графические диктанты

## Задание 1


( на странице 39)



**Тема 20** **39**

1. Продолжи рисовать узор справа налево до конца строчки.


# Проверка 1 задания



# Задание 2




2. От красной точки проведи линию на 1 клетку вправо, 2 клетки вниз, 1 клетку вправо, 2 клетки вниз, 1 клетку вправо, 2 клетки вниз, 2 клетки влево, 2 клетки вниз, 1 клетку влево, 2 клетки вверх, 2 клетки влево, 2 клетки вверх, 1 клетку вправо, 2 клетки вверх, 1 клетку вправо, 2 клетки вверх. Что ты нарисовал? (Ёлочку.) Раскрась её.



# Проверка задания 2



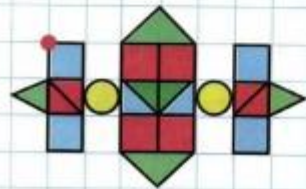
2. От красной точки проведи линию на 1 клетку вправо, 2 клетки вниз, 1 клетку вправо, 2 клетки вниз, 1 клетку вправо, 2 клетки вниз, 2 клетки влево, 2 клетки вниз, 1 клетку влево, 2 клетки вверх, 2 клетки влево, 2 клетки вверх, 1 клетку вправо, 2 клетки вверх, 1 клетку вправо, 2 клетки вверх. Что ты нарисовал? (Ёлочку Раскрась её).



# Задание 3



3. Нарисуй такой же орнамент.



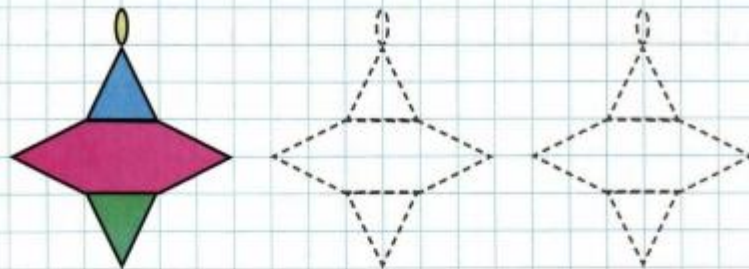


# Задание 4



40

4. Обведи по штрихам и раскрась каждую юлу по образцу.



# Задание 5



5. Нарисуй необходимые предметы в пустых клетках.


## Правильный ответ





# Задание 6



6. Соедини линиями фигуры одинаковой формы.

A collection of 15 colorful geometric shapes on a yellow rectangular background. The shapes include: a purple circle, a pink oval, a blue triangle, a red diamond, a blue rectangle, a green circle, a yellow arrow, a red star, a brown oval, a green rectangle, a blue triangle, a purple star, a blue triangle, a pink arrow, a blue diamond, a green triangle, and a purple diamond.

# Физкультурная минутка





# Математика


## Задание 1



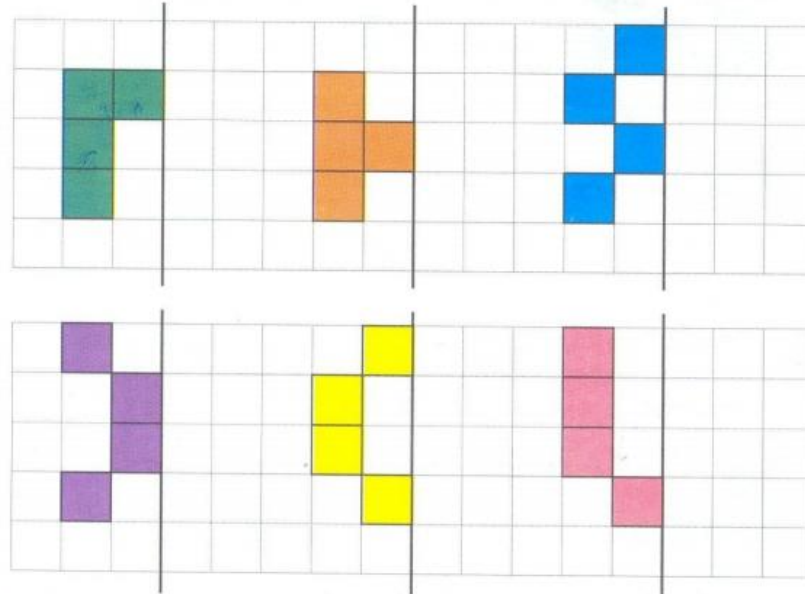
46

Занятие 24. ИЗМЕРЕНИЕ ПЛОЩАДИ

1

 – квадрат-мерка (квадратный сантиметр).

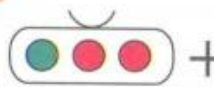


**Игра «Зеркало».** Дорисуй фигуры и сосчитай, сколько квадратов-мерок в каждой из них. Что общего во всех этих фигурах?




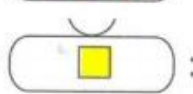

# Задание 2



2 Допиши равенства. Что ты замечаешь?

 +  =       $3 + 1 = \square$

 -  =       $4 - 3 = \square$

 -  =       $4 - 1 = \square$

# Проверка 2 задания

2 Допиши равенства. Что ты замечаешь?

$\overset{3}{\bullet\bullet\bullet} + \overset{1}{\square} = \overset{4}{\text{ooo}\square} \quad 3 + 1 = \boxed{4}$

$\overset{4}{\bullet\bullet\bullet\square} - \overset{3}{\bullet\bullet\bullet} = \overset{1}{\square} \quad 4 - 3 = \boxed{1}$

$\overset{4}{\bullet\bullet\bullet\square} - \overset{1}{\square} = \overset{3}{\text{ooo}} \quad 4 - 1 = \boxed{3}$

# Задание 3



Занятие 24. ИЗМЕРЕНИЕ ПЛОЩАДИ

47

- 3** Вставь пропущенные числа. Раскрась одинаковые полоски одним цветом.

	2	3				7	
--	---	---	--	--	--	---	--

		7	6				2
--	--	---	---	--	--	--	---

1				5	6		
---	--	--	--	---	---	--	--

	8	7			4		
--	---	---	--	--	---	--	--





# Задание 4



4\* Игра «Строим домики».  
Построй домики по образцу.

8

4 + 4

9

1 + 8

2 + 6

7 + 2

5 + 3

4 + 5

1 + 7

4 + 4

6 + 3

1 + 8

▲▲●

▲●▲

△△

△△

🌸 🌿 🌸 🌿

# Проверка 4 задания



4\* Игра «Строим домики».  
Построй домики по образцу.

8		9	
$2+6$	$4+4$	$7+2$	$1+8$
$1+7$	$5+3$	$6+3$	$4+5$
$2+6$	$7+2$	$5+3$	$4+5$
$1+7$	$4+4$	$6+3$	$1+8$

# Физкультурная минутка



# Чтение



1. Артикуляционная и пальчиковая разминка.

2. Вспомни и назови слова на правило правописания **ШИ** — игра в мяч.

3. Прочитай предложения

У Ма-ши ка-ша.

Тут Ма-ши-на ка-ша.

У Ма-ши ко-шка.

Тут Ма-ши-на ко-шка.

У Ма-ши ша-пка.

Тут Ма-ши-на ша-пка.

У Па-ши ма-ши-на.

Там Па-ши-на ма-ши-на.

У Па-ши пу-шка.

Там Па-ши-на пу-шка.

У Па-ши ши-шка.

Там Па-ши-на ши-шка.

У На-та-ши ми-шка.

Тут На-та-шин ми-шка.

У На-та-ши ко-шка.

Тут На-та-ши-на ко-шка.

Ма-ша, пи-ши ш.

Ма-ша, су-ши ша-пку.

Ма-ша су-шит ша-пку.

# Чтение



4. Напечатай под диктовку предложения (вспомни четыре правила правописания).  
**У Паши машина. У Наташи шишки. У кошки уши. У мыши уши.**

---

---

---

5. Подчеркни слог **ШИ**.

6. Игра "Закончи слово двумя одинаковыми буквами из разрезной азбуки"

НА  
МЫ  
ПИ  
ТУ  
СУ  
у

↘  
→  
→  
→  
↘  
↘

?