

Река времени



Автор презентации
Коренюгина Лариса
Владимировна учитель
географии и
краеведения МОУ СОШ
№ 1 Варны

2013

Комплексное районирование Челябинской области

1. Особенности рельефа изучаемой территории
2. Особенности климата изучаемой территории
3. Природные зоны изучаемой территории

1. Особенности рельефа изучаемой территории

горы

пенепплен

или равнина —

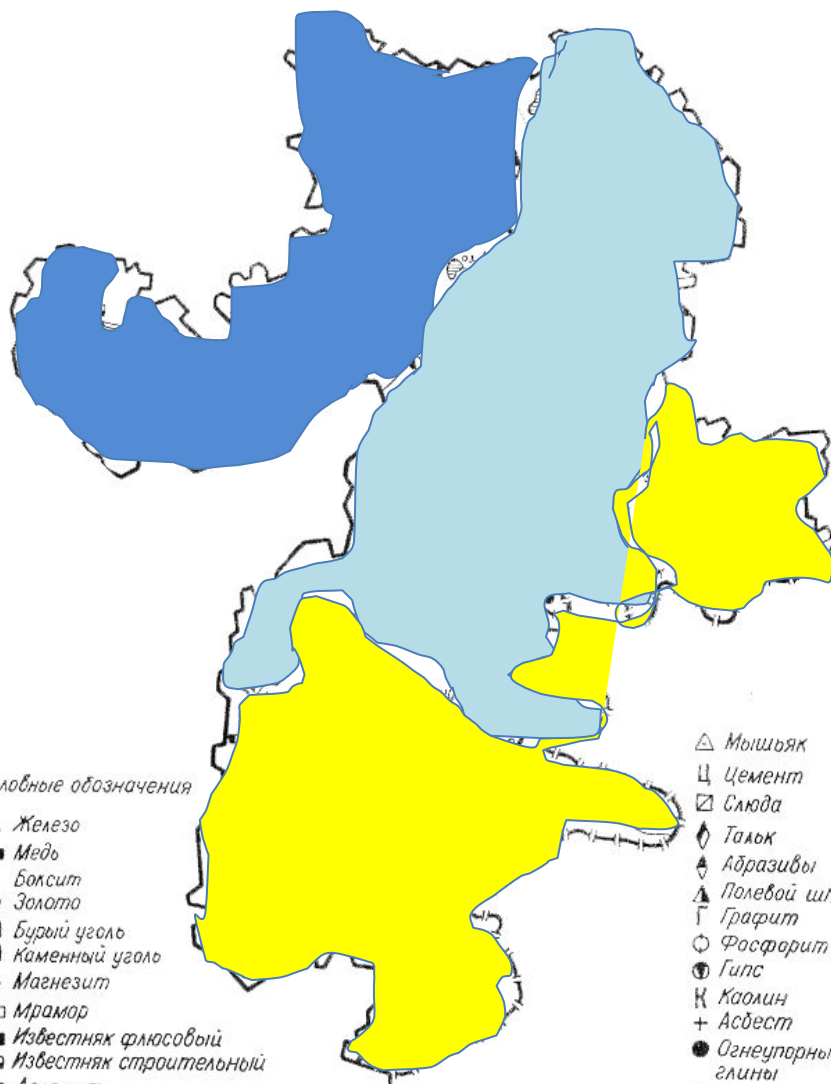
практически ровная, местами слабо всхолмлённая поверхность

низменная равнина



2. Особенности климата изучаемой территории

$K_{увл} > 1$



$K_{увл} \geq 1$

$K_{увл} < 1$

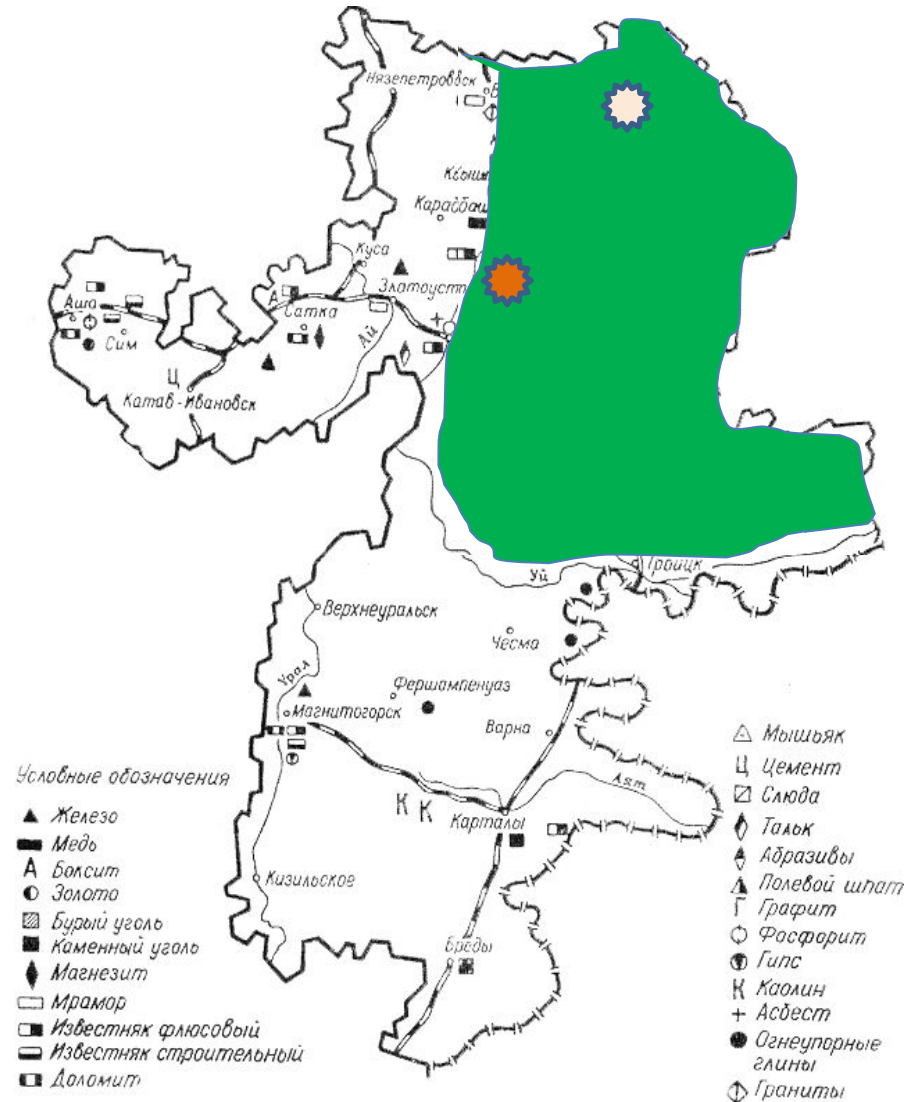
3. Природные зоны изучаемой территории

Горно-лесная

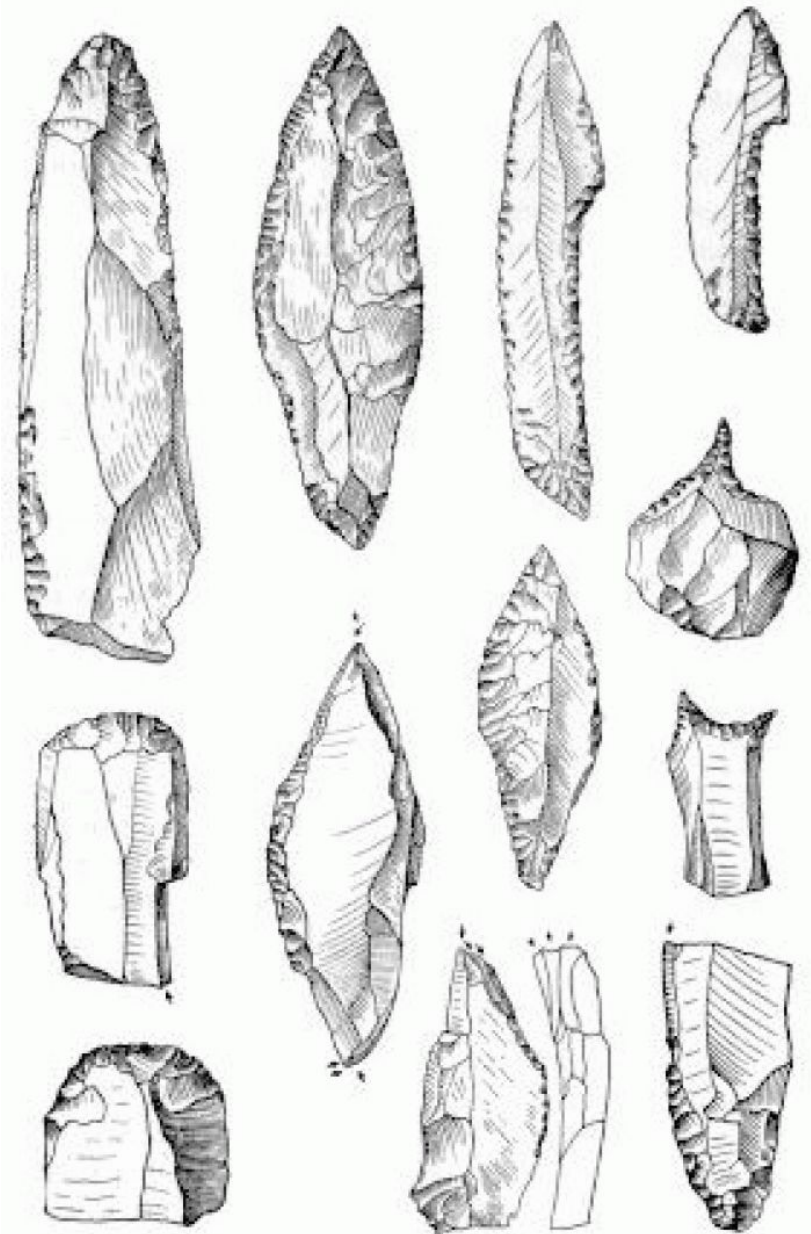
Лесостепная



Восточно-Зауральский край



Изделия из камня



Проверь себя

по теме «Река времени»

1. Восточно-Зауральский край располагается на:

**А) северо-западе Челябинской
области;**

**Б) на северо-востоке Челябинской
области**

2. Древние люди каменного века жили в:

А) Пещерах;

**Б) Шалашах из бересты или
шкур диких животных**

3. Аргази означает:

- А) Пестрое озеро;**
- Б) Добрый хозяин**

**4. Озеро Большие Аллаки
располагается в:**

А) Кунашакском районе;

Б) Аргаяшском районе

**5. Участником Уральской
археологической экспедиции
был археолог:**

А) В.Т. Петрин;

Б) А.Ф. Шорин

**6. В междуречье каких рек
располагаются археологические
памятники Восточно-
Зауральяского края?**

ОТВЕТЫ

по теме «Река времени»

**1. Восточно-Зауральский край
располагается на:**

**А) северо-западе Челябинской
области;**

**Б) на северо-востоке Челябинской
области**

2. Древние люди каменного века жили в:

А) Пещерах;

**Б) Шалашах из бересты или
шкур диких животных**

3. Аргази означает:

- А) Пестрое озеро;**
- Б) Добрый хозяин**

**4. Озеро Большие Аллаки
располагается в:**

А) Кунашакском районе;

Б) Аргаяшском районе

**5. Участником Уральской
археологической экспедиции
был археолог:**

А) В.Т. Петрин;

Б) А.Ф. Шорин

**6. В междуречье каких рек
располагаются археологические
памятники Восточно-
Зауральяского края?**

Исеть и Миасс

Оценки

«5» - 6 верных ответов

«4» - 5 верных ответов

«3» - 4 верных ответа

Дома

Контурная карта стр. 20
«Стоянки древних людей»,
конспект, сообщение
*археологические памятники
бронзового века*