





Решение задач



Счёт "цепочкой"

$$63 : 7 \cdot 2 - 6 : 3 \cdot 8 : 4 =$$

$$80 - 40 : 8 \cdot 4 - 2 : 2 \cdot 8 =$$




В книге поместили 24 стихотворения и 8 рассказов. Во сколько раз в книге стихотворений больше, чем рассказов?

в 16 раз

в 3 раза

в 4 раза

в 32 раза




В книге поместили 24 стихотворения и 8 рассказов. На сколько в этой книге стихотворений больше, чем рассказов?

на 16

на 3

на 4

на 32




На первой полке было 27 книг, на второй полке – в 3 раза меньше, чем на первой. Сколько книг на второй полке?

8 КНИГ

24 КНИГИ

9 КНИГ

30 КНИГ




На первой полке было 27 книг, на второй полке – в 3 раза меньше, чем на первой. Сколько книг на двух полках?

57 КНИГ

36 КНИГ

9 КНИГ

30 КНИГ




На первой полке было 9 книг, на второй полке – в 4 раза больше, чем на первой. Сколько книг на второй полке?

5 КНИГ

30 КНИГ

13 КНИГ

36 КНИГ




На первой полке было 9 книг, на второй полке – в 4 раза больше, чем на первой. Сколько книг на двух полках?

45 КНИГ

42 КНИГИ

22 КНИГИ

36 КНИГ



□ Составь задачу по схеме и
запиши решение. ? кг

9 кг	_____	_____
------	-------	-------



5 кг.

45 кг

9 кг

? кг.



45 кг

? кг

5 к.



**В магазин
привезли 6
ящиков яблок,
по 9 кг в каждом.
Сколько
килограммов
яблок привезли в
магазин?**

**В магазин
привезли 3 ящика
груш,
по 7 кг в каждом.
Сколько
килограммов
груш привезли в
магазин?**



**В магазин привезли 6
ящико́в яблoк, по 9 кг в
каждом, и 3 ящика́ груш, по
7 кг в каждом. Сколько
всего килограммов фруктов
привезли в магазин?**



? кг 1)

9 кг	—	(.)

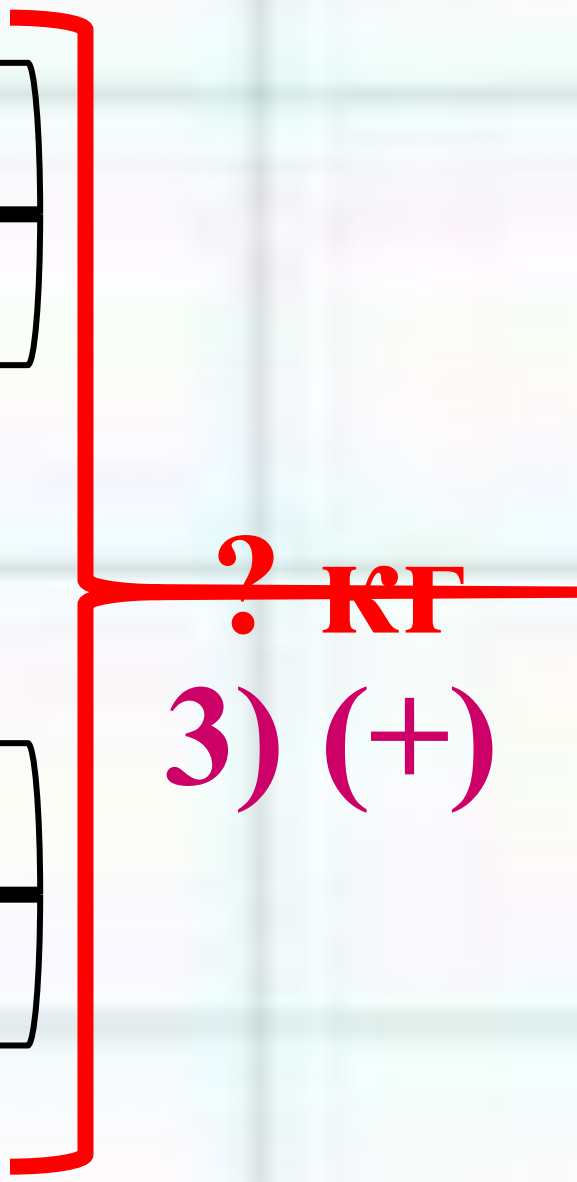
6 ящ.



? кг 2)

7 кг	—	(.)

3 ящ.



? кг

3) (+)

1) $9 \cdot 6 = 54$ (кг) – яблок

2) $7 \cdot 3 = 21$ (кг) – груш

3) $54 + 21 = 75$ (кг) – всего

**Ответ: 75 кг фруктов
привезли в магазин.**

Физкультминутка

**Раз, два, три, четыре, пять –
Все умеем мы считать.**

Раз! Подняться, потянуться.

Два! Согнуться, разогнуться.

**Три! В ладоши три хлопка,
Головою три кивка.**

На четыре – руки шире.

Пять – руками помахать.

Шесть – за парту тихо сесть.



Закрепление

За один день фермер собрал 8 корзин огурцов, по 6 кг в каждой, и 3 корзины помидоров, по 5 кг в каждой. Сколько всего кг овощей собрал фермер в этот день?

$$6 \cdot 8$$

$$6 \cdot 8 + 5 \cdot 3$$

$$5 \cdot 3$$

$$6 \cdot 8 - 5 \cdot 3$$

**Дуверены ,что вы
справились с задачами!
Успехов вам!!!**

