

# Сложение вида


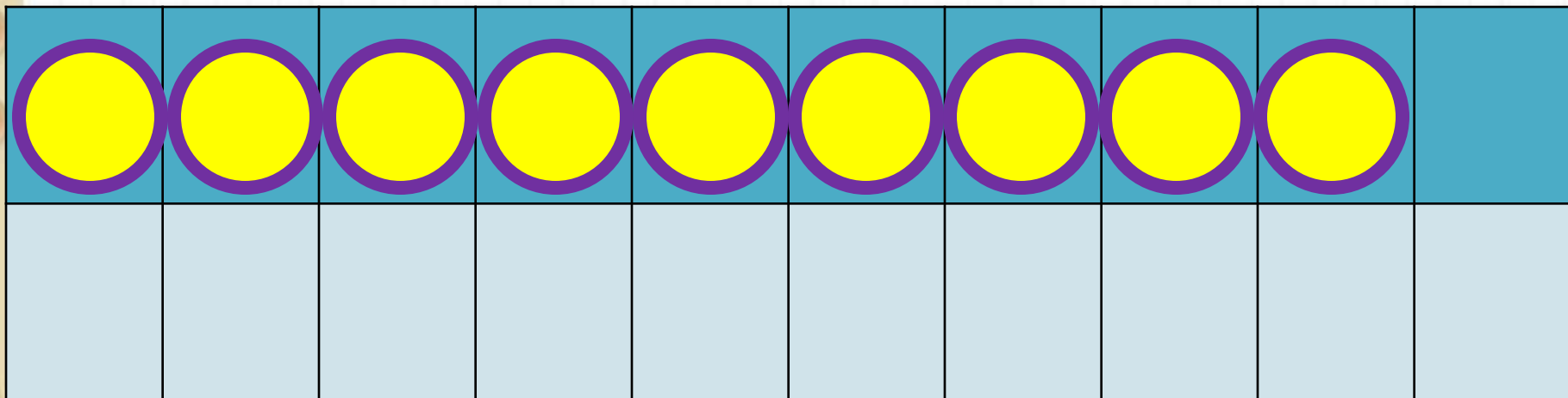
+ 2, + 3

стр. 66




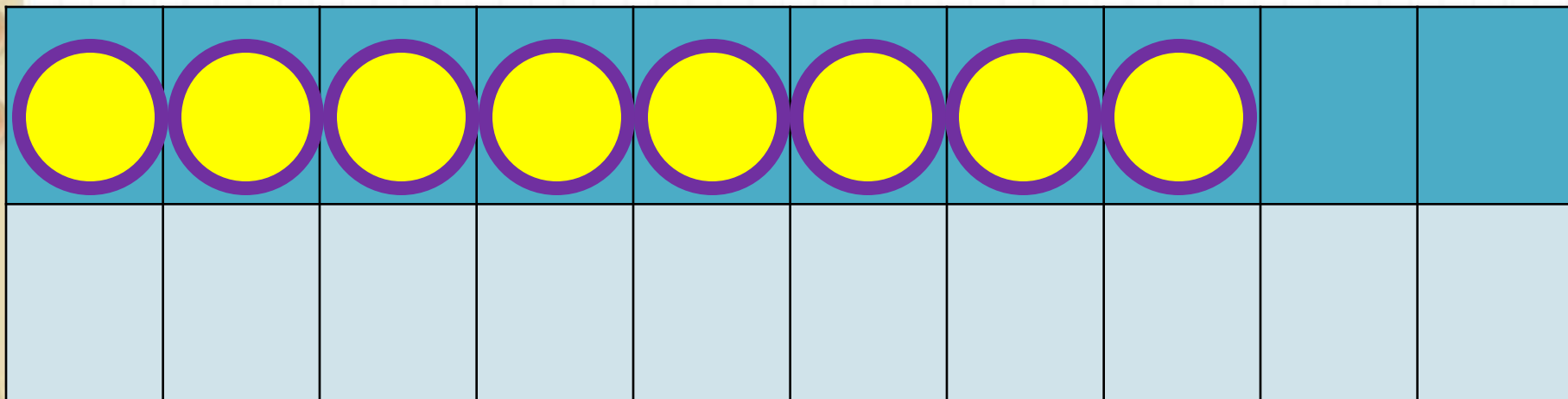
*Школа России*  
*Математика 1 класс*





$$9 + 2$$


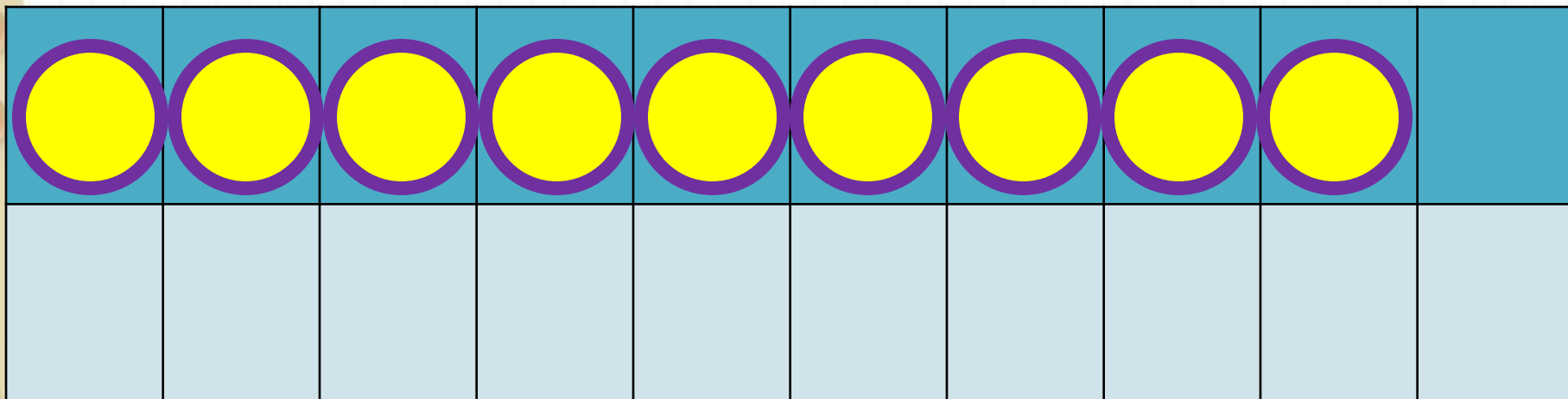
$$9 + 1 + 1$$



$$8 + 3$$

$$8 + 2 + 1$$

Какие числа будем учиться прибавлять?



$$9 + 3$$

$$9 + 1 + 2$$

**Запомни!**

**(Выучи**

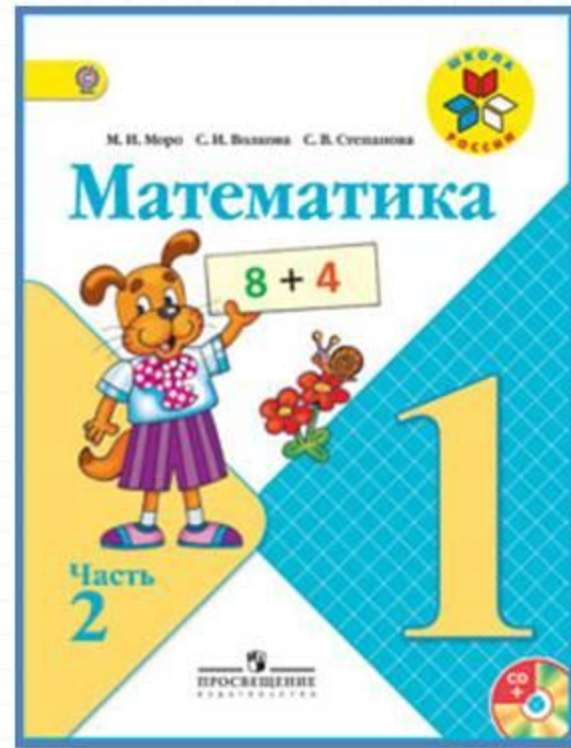
**таблицу)**

$$9 + 2 = 11$$

$$8 + 3 = 11$$

$$9 + 3 = 12$$

# Работа по учебнику



стр. 66

14 апреля.

Классная работа.

55 5

№ 1.

3

$$8-5-2=1$$



Выполни по образцу.

**Прочитай задачу 2, составь план решения.**

**1. Найти сколько тетрадей в линию.**

**2. Найти сколько всего тетрадей.**

Задача 2.

Клетка – 6 тетр.   
Линия - ? тетр., на 2 м.  ? тетр.

1.)  $6 - 2 = 4$  (тетр.) – в линию.

2.)  $6 + 4 = 10$  (тетр.)

Ответ: всего 10 тетрадей.

Запиши задачу в тетрадь.



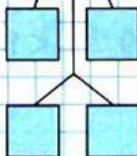
# ВЫПОЛНИ № 3, 4, 5 УСТНО.

$$\square + 2$$

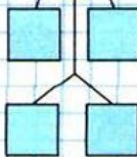
$$\square + 3$$



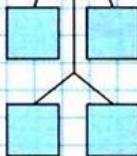
7



8




9



Объясни, как к числу 9 прибавить 2.



$$\begin{array}{r} 9 + 2 \\ 9 + 1 + 1 \end{array}$$



Рассуждая так же, вычисли.

$$\begin{array}{r} 9 + 3 \\ 9 + 1 + \square \end{array}$$

$$\begin{array}{r} 8 + 3 \\ 8 + 2 + \square \end{array}$$

**Запомни!**

$$9 + 2 = 11$$

$$9 + 3 = 12$$

$$8 + 3 = 11$$

- $8 - 5 - 2$        $0 + 9 - 8$        $8 - 6 + 10$   
 $10 - 7 - 2$        $8 + 2 - 4$        $7 - 5 + 10$   
 $10 - 8 - 2$        $6 + 0 - 5$        $9 - 7 + 10$
- Зина купила 6 тетрадей в клетку, а тетрадей в линейку на 2 меньше. Сколько всего тетрадей купила Зина?
- В большом ведре помещается 10 л воды, а в маленьком — 4 л. Сколько всего ... ?
- Мама собрала 16 кг яблок. Из 6 кг яблок она сварила варенье. Сколько ... ?
- Определи, как зовут каждую девочку.



Это Таня и Оля.



Это Оля и Катя.

$$12 \bigcirc 20$$

$$10 \bigcirc 9$$

$$1 \text{ дм} \bigcirc 9 \text{ см}$$

$$12 \text{ см} \bigcirc 1 \text{ дм}$$

$$7 \bigcirc 4$$

$$0 \bigcirc 1$$

# ВЫПОЛНИ СРАВНЕНИЕ ЧИСЕЛ ПОД ЧЕРТОЙ.

№ 5.

$$12 < 20$$

Выполни самостоятельно по образцу.

**ПРОЧИТАЙ ЗАДАЧУ.**

**У ВЕРЫ БЫЛО 10 Р. СКОЛЬКО РУБЛЕЙ  
БЫЛО У ЛЮДЫ, ЕСЛИ У НЕЁ БЫЛО НА 2 Р.  
МЕНЬШЕ, ЧЕМ У ВЕРЫ?  
РЕШИ УСТНО.**

Прочитай задачу.

У продавца было 12 книг. Утром он продал 2 книги, а днем ещё 7 книг. Сколько книг осталось у продавца?

## Задача 6.

Было – 12 кн.

Продал - ? кн., 2 кн. и 7 кн.

Осталось - ? кн.

1.)  $2+7=9$  (кн.) – продал.

2.)  $12-9=3$  (кн.)

Ответ: 3 книги осталось.

**Запиши задачу в тетрадь.**