

Прибавить числа 5, 6, 7,
8, 9.

Составление таблицы

стр. 16
Урок №

76



Школа России
Математика 1 класс





Устный счёт

Запиши только ответы:



1. Запиши число, которое на 4 больше, чем 5
2. Запиши число, которое на 3 меньше, чем 8
3. Запиши число, которое при счёте идёт за числом 6
4. Запиши число, которое предшествует 4
5. Вставь пропущенное число $\square - 4 = 2$
6. Вставь пропущенное число $4 + \square = 8$
7. К какому числу надо прибавить 4, чтобы получить 9

9 5 7 3 6 4 5



Найди верные неравенства.



$$5 + 4 > 7$$


$$10 - 2 < 4$$

$$2 + 4 < 9$$

$$9 - 3 > 4$$



Составь задачу по картинке.



$$4 + 3 = 7 \quad 4 - 3 = 1$$



Буратино решил **7** примеров. **Два** он сосчитал с ошибками. Сколько примеров верно решил Буратино?



$$7 - 2 = 5$$



На клумбе возле дома Мальвины распустились **4** георгина и **3** розы. Сколько всего цветов на клумбе?

$$4 + 3 = 7$$

7



Сосчитай сколько углов и сторон у данной фигуры?



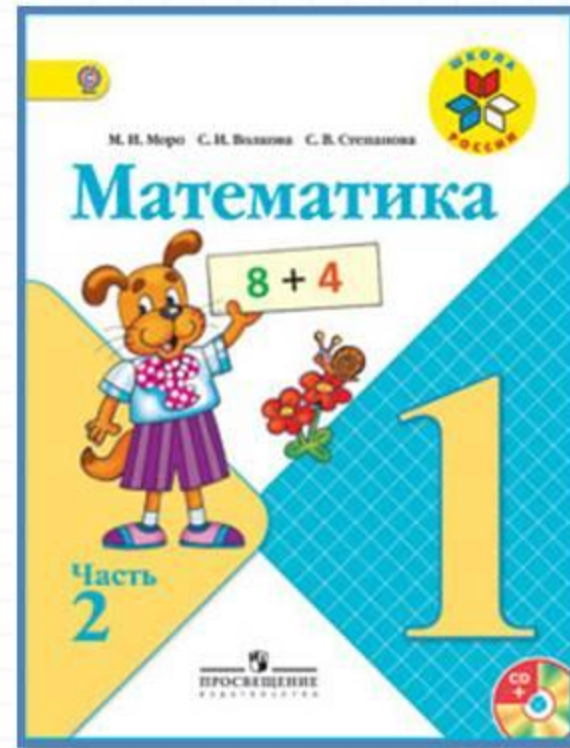
4 угла

4

стороны



Работа по учебнику



стр.
16

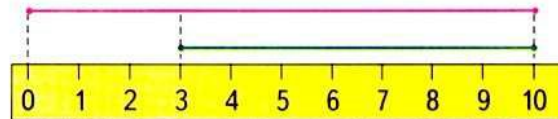
НАРИСУЙ
И
РАСКРАСЬ
УЗОР:



Объясни, как составлена каждая таблица.
Спиши и вычисли суммы, используя перестановку
слагаемых.
Проверь себя по таблице на обороте обложки.

$\square + 5$	$\square + 6$	$\square + 7$	$\square + 8$	$\square + 9$
$1 + 5$				
$2 + 5$	$1 + 6$			
$3 + 5$	$2 + 6$	$1 + 7$		
$4 + 5$	$3 + 6$	$2 + 7$	$1 + 8$	
$5 + 5$	$4 + 6$	$3 + 7$	$2 + 8$	$1 + 9$

1. Найди в таблице примеры, в которых сумма равна числу 10, 8, 7.
2. Катя придумала 5 примеров на сложение и 4 примера на вычитание. Поставь вопрос так, чтобы задача решалась вычитанием.
3. Узнай длину каждого отрезка. Какой из них длиннее и на сколько сантиметров?



Реши задачу разными способами.

4. Составь по рисунку разные задачи и реши их.
5. Составь из 7 одинаковых палочек 2 одинаковых квадрата, а из 10 палочек 1 большой квадрат и 1 маленький.

?

$$9 - 8 + 7$$

$$8 - 6 + 5$$

$$9 - 7 + 6$$

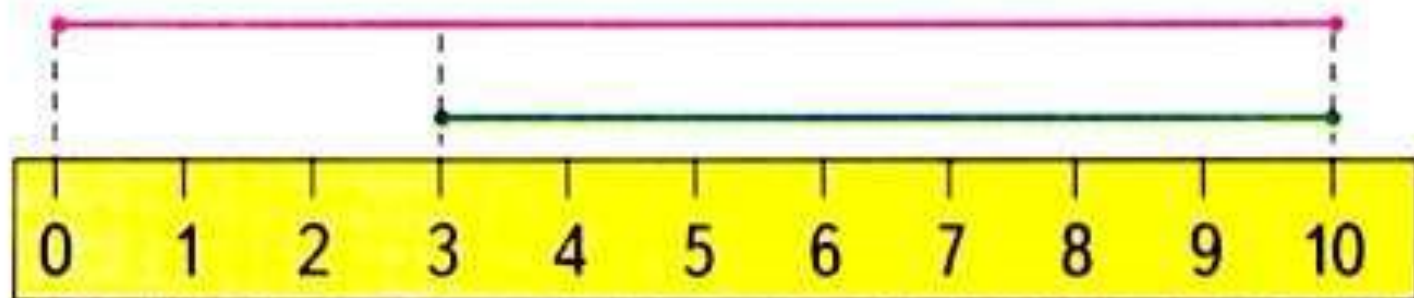
Объясни, как составлена каждая таблица.

Спиши и вычисли суммы, используя перестановку слагаемых.

Проверь себя по таблице на обороте обложки.

$\square + 5$	$\square + 6$	$\square + 7$	$\square + 8$	$\square + 9$
$1 + 5$				
$2 + 5$	$1 + 6$			
$3 + 5$	$2 + 6$	$1 + 7$		
$4 + 5$	$3 + 6$	$2 + 7$	$1 + 8$	
$5 + 5$	$4 + 6$	$3 + 7$	$2 + 8$	$1 + 9$

1. Найди в таблице примеры, в которых сумма равна числу 10, 8, 7.
2. Катя придумала 5 примеров на сложение и 4 примера на вычитание. Поставь вопрос так, чтобы задача решалась вычитанием.
3. Узнай длину каждого отрезка. Какой из них длиннее и на сколько сантиметров?



Реши задачу разными способами.

4. Составь по рисунку разные задачи и реши их.
5. Составь из 7 одинаковых палочек 2 одинаковых квадрата, а из 10 палочек 1 большой квадрат и 1 маленький.
-

▶ $9 - 8 + 7$


$8 - 6 + 5$


$9 - 7 + 6$

16

Работа в тетради

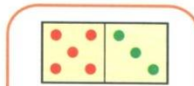
стр.
11



- 1 У Веры .
У Лены на 2 больше.
Сколько треугольников у Лены?

Ответ:

2



$5 + 3 =$

$2 + 6 =$

$3 + 4 =$

$8 - 3 =$

$8 - 2 =$

$7 - 3 =$

$8 - 5 =$

$8 - 6 =$

$7 - 4 =$

3

см



см

см = см

см > см

см

1

У Миши



У Коли



На сколько больше рыбок у Миши, чем у Коли?

Ответ:

2

7	2	4	1	3
	<input type="text"/>	<input type="text"/>	<input type="text"/>	<input type="text"/>

9	<input type="text"/>	4	<input type="text"/>	1
	2	<input type="text"/>	3	<input type="text"/>

Задания на смекалку



Две девочки играли в куклы 2 часа. Сколько часов играла в куклы каждая девочка?



2 часа



Рефлексия

- Чем мы занимались сегодня на уроке?
- Какой математический закон использовали сегодня при составлении таблицы?
- Кому этот закон помог быстро считать?
- Какое задание было интересным?

