



Тест

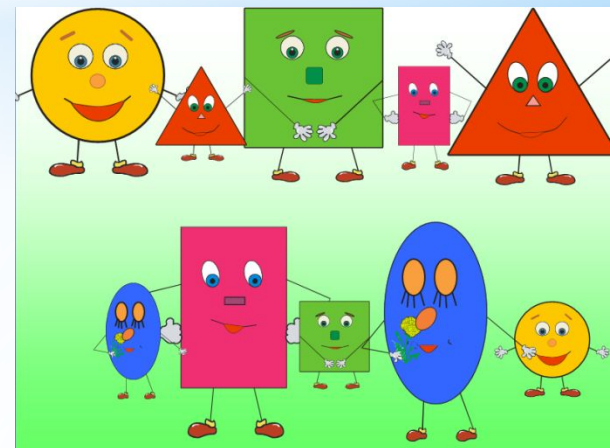
по теме

«Треугольники и четыреугольники»

Использованная литература и интернет – ресурс:

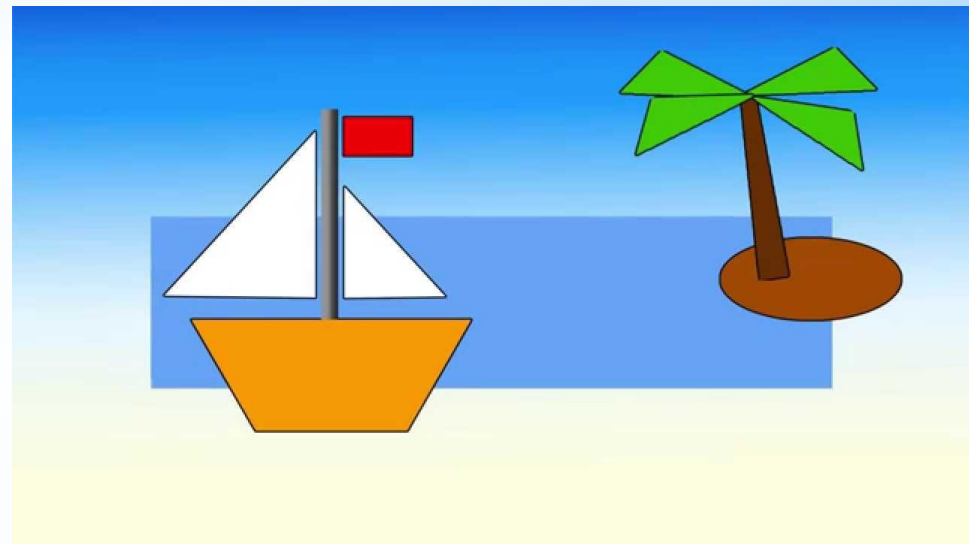
1. [Конструктор тестов в MS Power Point 2007.](#)

Введите фамилию и имя



Треугольник, у которого все стороны равны, называется...

- 1 равнобедренный
- 2 равносторонний
- 3 разносторонний



Задание

1

2 бал.


Выберите все правильные ответы!



Далее

ОПРЕДЕЛИТЬ ВИД ТРЕУГОЛЬНИКА, СТОРОНЫ КОТОРОГО РАВНЫ: 25СМ,24СМ,25СМ

- 1 равнобедренный
- 2 равносторонний
- 3 разносторонний



Задание

2

3 бал.

Выберите все правильные ответы!

Далее

Верно ли: 1) равные фигуры имеют равные площади; 2) фигуры, у которых равны площади- равны

 1


2- верно, 1- нет

 2

Оба верны

 3

1- верно, 2 -нет



Задание

3

3 бал.

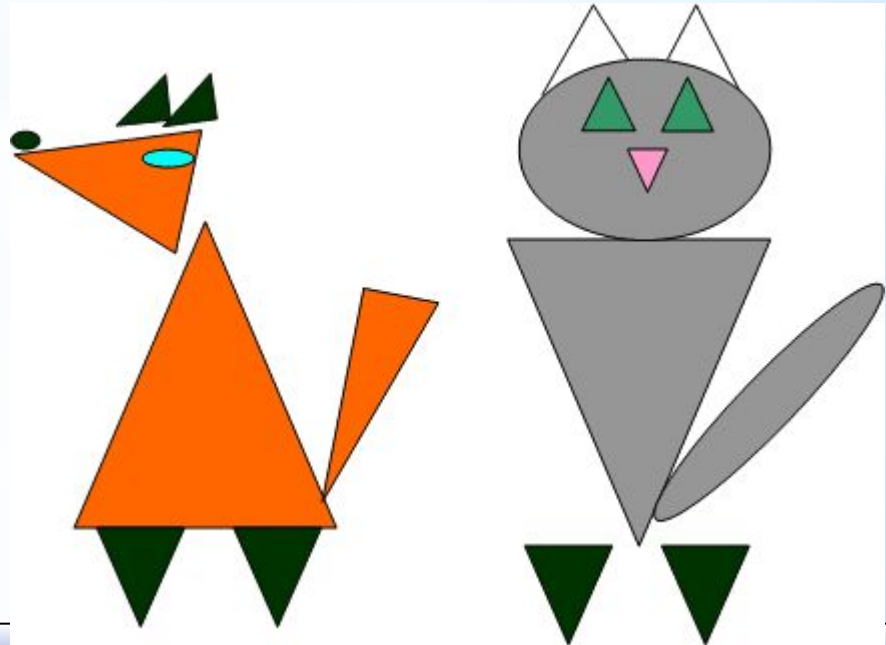
Выберите все правильные ответы!



Далее

Что НЕ является свойством диагоналей любого прямоугольника?

- 1 Пересекаются под прямым углом
- 2 Пересекаются и точкой пересечения делятся пополам
- 3 Равны



С помощью чего можно построить равнобедренный треугольник?

1


Транспортир

2

Циркуль и линейка

3

От руки



Задание

5

3 бал.

Выберите все правильные ответы!



Итоги

Результаты тестирования

Оценка

Правильных ответов

Набранных баллов

Ошибки в выборе
ответов на задания:

Всего заданий бал.

Снова

Выход

Затрачено времени