



Естественно-  
математическое  
ралли!!!



Торопись –медленно!

Сколько тайн, на формулах распятых, Нам раскроют завтрашние дни!



**1820**

**6960**

**11022**

**6671**

**2228**

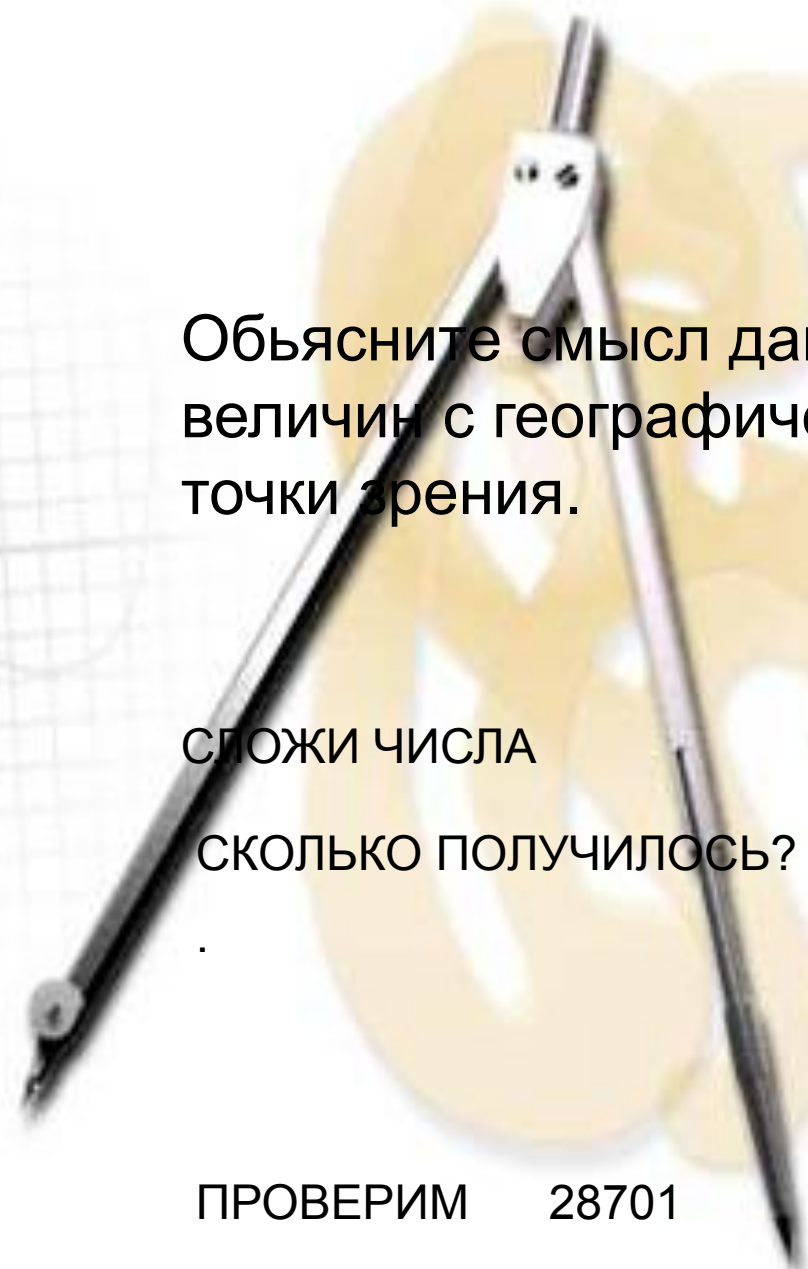
Объясните смысл данных величин с географической точки зрения.

СЛОЖИ ЧИСЛА

СКОЛЬКО ПОЛУЧИЛОСЬ?

.

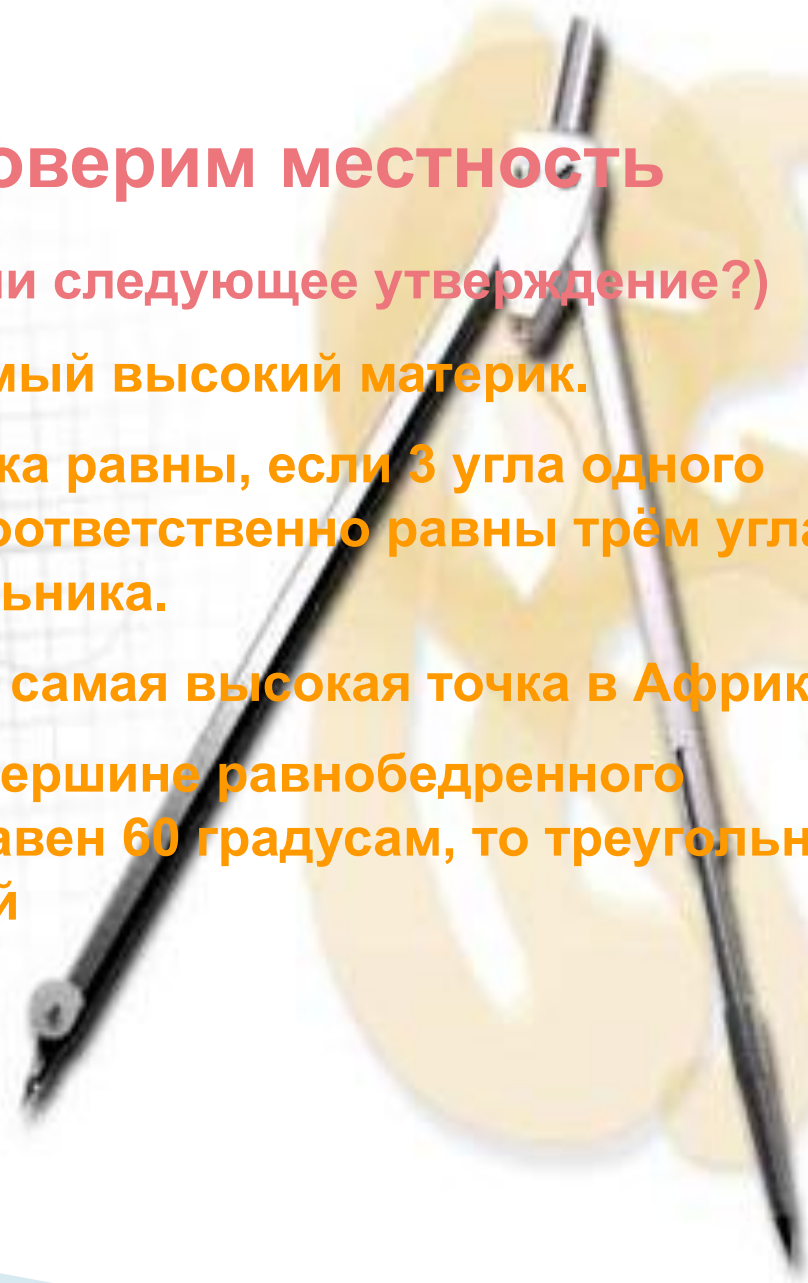
ПРОВЕРИМ 28701



## •Проверим местность

•(верно ли следующее утверждение?)

- Антарктида- самый высокий материк.
- Два треугольника равны, если 3 угла одного треугольника соответственно равны трём углам другого треугольника.
- Килиманджаро- самая высокая точка в Африке.
- Если угол при вершине равнобедренного треугольника равен 60 градусам, то треугольник равносторонний





Составить карту гонки!!!!

4  
ступень

$$81 - 4(x + 3)^2$$

$$(3 - 2x)(15 + 2x)$$

3  
ступень

$$(2 - a)(4 + a^2)(2 + a)$$

$$16 - a^4$$

2  
ступень

$$(3y + 0,1x)(0,1x - 3y)$$

$$0,01x^2 - 9y^2$$

1  
ступень

$$(3a^2b + 2ab)(3a^2b - 2ab)$$

$$9a^4b^2 - 4a^2b^2$$



Определить точки  
по координатам

4  
ступень 37 ° С.Ш. 4 ° В.Д.

3  
ступень 33 ° С.Ш. 14 ° В.Д.

2  
ступень 15 ° С.Ш. 33 ° В.Д.

1  
ступень 12 ° С.Ш. 8 ° З.Д.

Где проходит  
ралли?

# Гонка по пересеченной местности



Не уверен – не обгоняй!!!!

# *Внезапная остановка – авария!?*

*Сложение*

*Вычитание*

*Раздробление*

*Деление*

*Умножение*

*Действие*

Саванна

Пустыня

Прерии

Степи

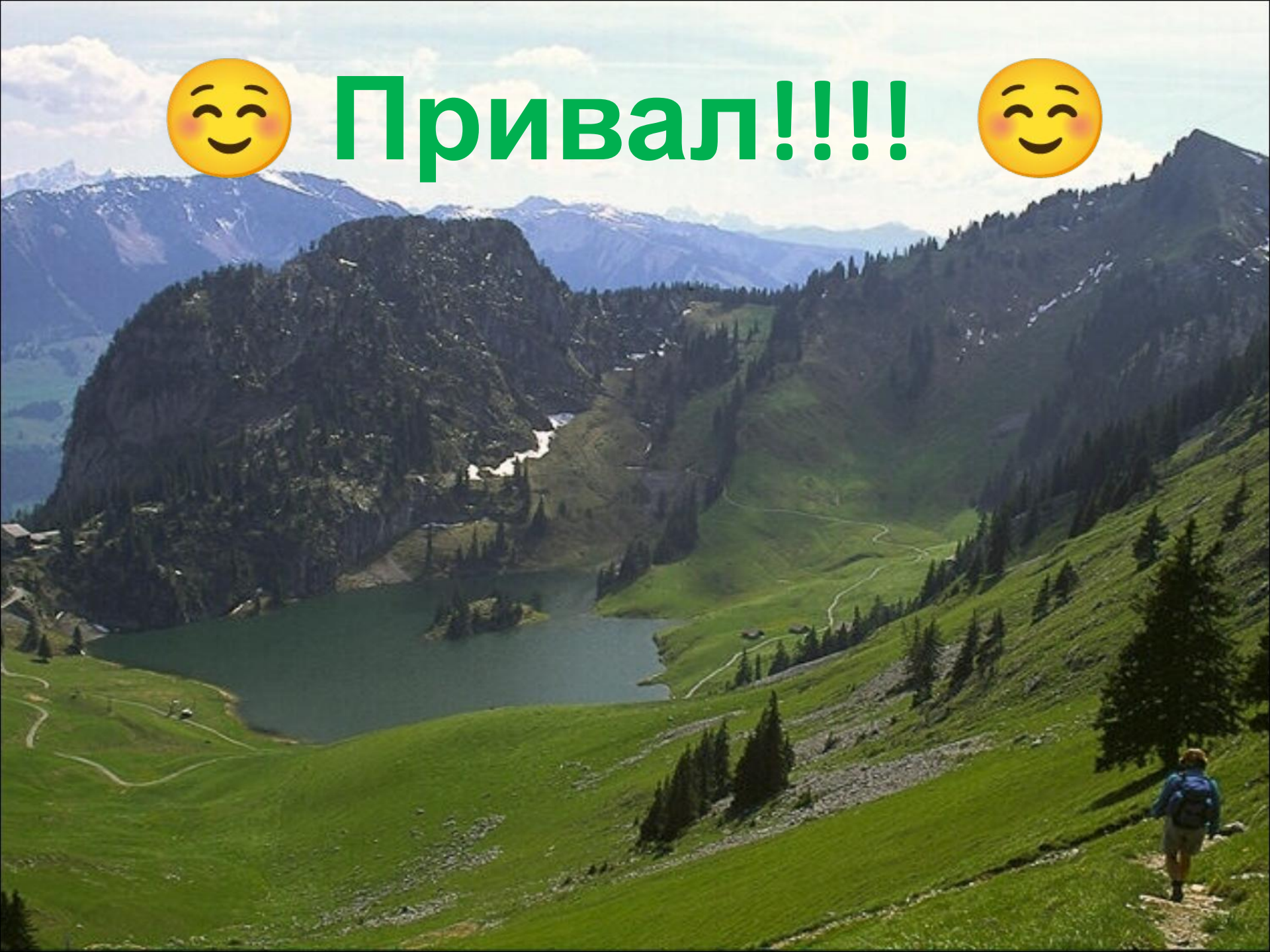
Патагония

Пампа





Привал!!!!



**+24 °; +16 °; -32 °; +8 °; 0 °, -16 °**

Африка	Австралия
Антарктида	Южная Америка

Какому из материков соответствуют температуры января и июля?

Найдите произведение данных чисел.



