

1. Что означает «античность» в переводе с греческого?

- А) древний
- Б) греческий
- Г) гуманистический
- Д) классический

2. Какие архитектурные сооружения находятся на Афинском акрополе?

- А) Храм Зевса
- Б) Парфенон
- в) Пантеон
- Г) Эрехтейон

3. Какие персонажи мифов связаны с Кносским дворцом?

- А) Орфей и Эвридика
- Б) Персей и Андромеда
- В) Тесей и Минотавр
- Г) Дедал и Икар

4. Соотнесите богов и их функции

- | | |
|------------|--|
| а) Аполлон | 1) богиня мудрости |
| б) Гефест | 2) покровитель искусства, божество света |
| в) Афина | 3) богиня домашнего очага |
| г) Гестия | 4) бог огня |

5. В Древней Греции и Древнем Риме одни и те же боги имели разные имена.

Соотнесите имена древнегреческих и древнеримских богов:

- | | |
|-----------|-------------|
| А) Зевс | 1) Марс |
| Б) Гермес | 2) Меркурий |
| В) Арес | 3) Юпитер |
| Г) Афина | 4) Минерва |

6. Как называются крытые каналы, по которым с помощью арочных конструкций подавалась вода в город?

- а) термы
- б) форум
- в) одеон
- г) акведуки

7. Главная городская площадь, в Древнем Риме с расположенными на ней храмами и общественными зданиями?

а) форум


б) базилика

в) одеон

г) акведук

8. Соотнесите изображения древнегреческих чудес света с их названием

1



2



3



4



5



- а) статуя Зевса
- б) Александрийский маяк
- в) Колосс Родосский
- г) Галикарнасский мавзолей
- д) Храм Артемиды

9.

Среди различных скульптурных жанров наибольшее развитие получили исторический ___1___ и ___2___ бюст. Прекрасным примером римского исторического ___3___ служит ___4___ Траяна. В области круглой скульптуры римляне многому научились у своих соседей - ___5___ и ___6___. Римский скульптор обращал внимание на ___7___ человека, его ___8___ мир.

10. Какие скульптурные произведения созданы



11. Как называются древнегреческие сосуды?

1



2



3



4




а) амфора

б) пелика

в) гидрия

г) кратер

12. Какая скульптура явилась каноном в определении идеальных пропорций человеческой фигуры?



1
Дискобол
л



2
Венера
Милосская



3
Венера
Таврическая




4
Дорифор
р

Определите, какие скульптуры относятся к культуре Древнего Рима?



14. Какие древнеримские архитектурные сооружения изображены?



15. Определите, какие скульптуры относятся к культуре Древней Греции?

1



2




3




4







A



B



C



D

16. Перед вами римские портреты разного времени.
Расположите их в хронологическом порядке.

17. Какие скульптуры
здесь греческие,
а какие - римские?

