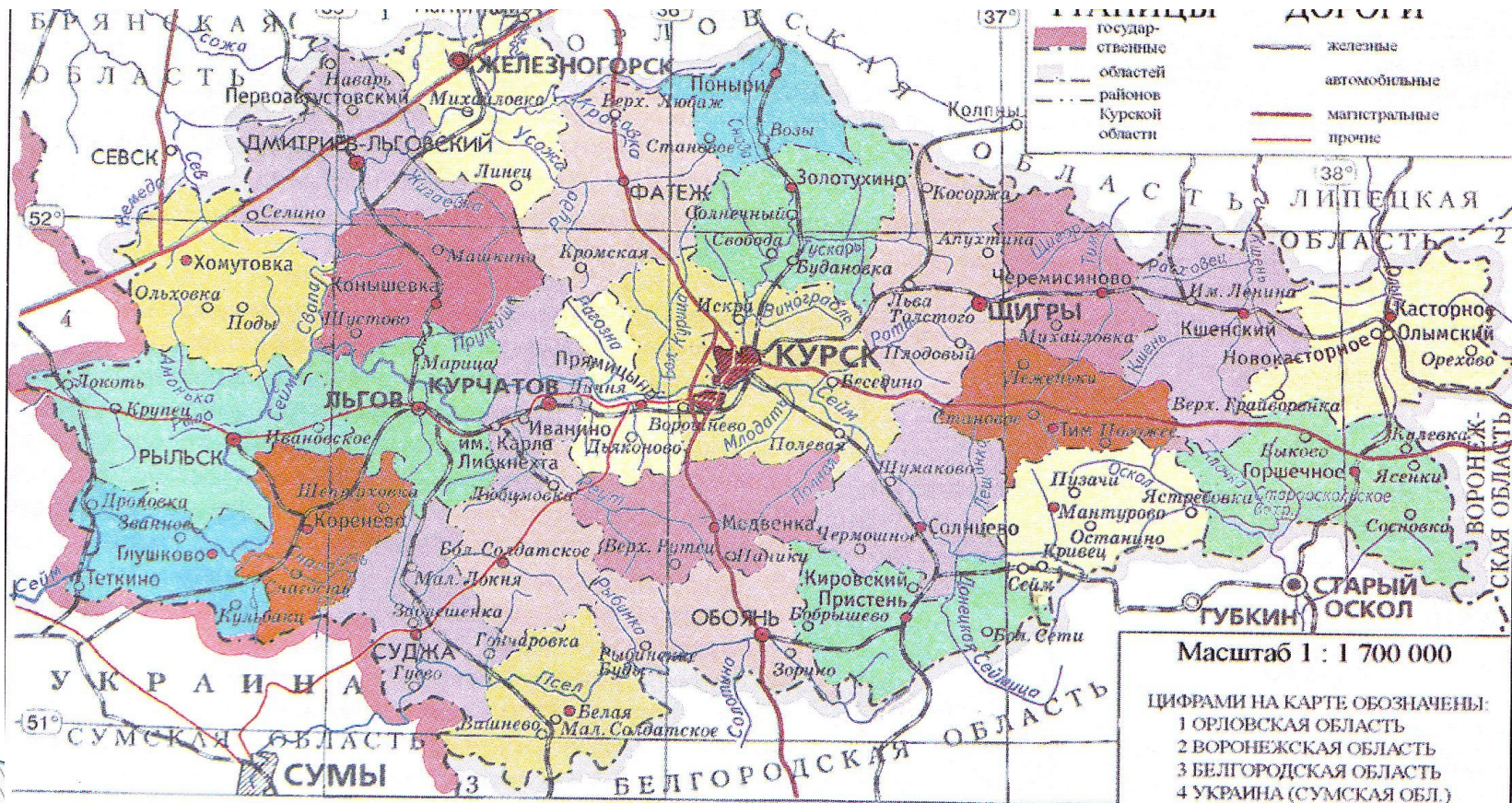


# Положение внутри страны:

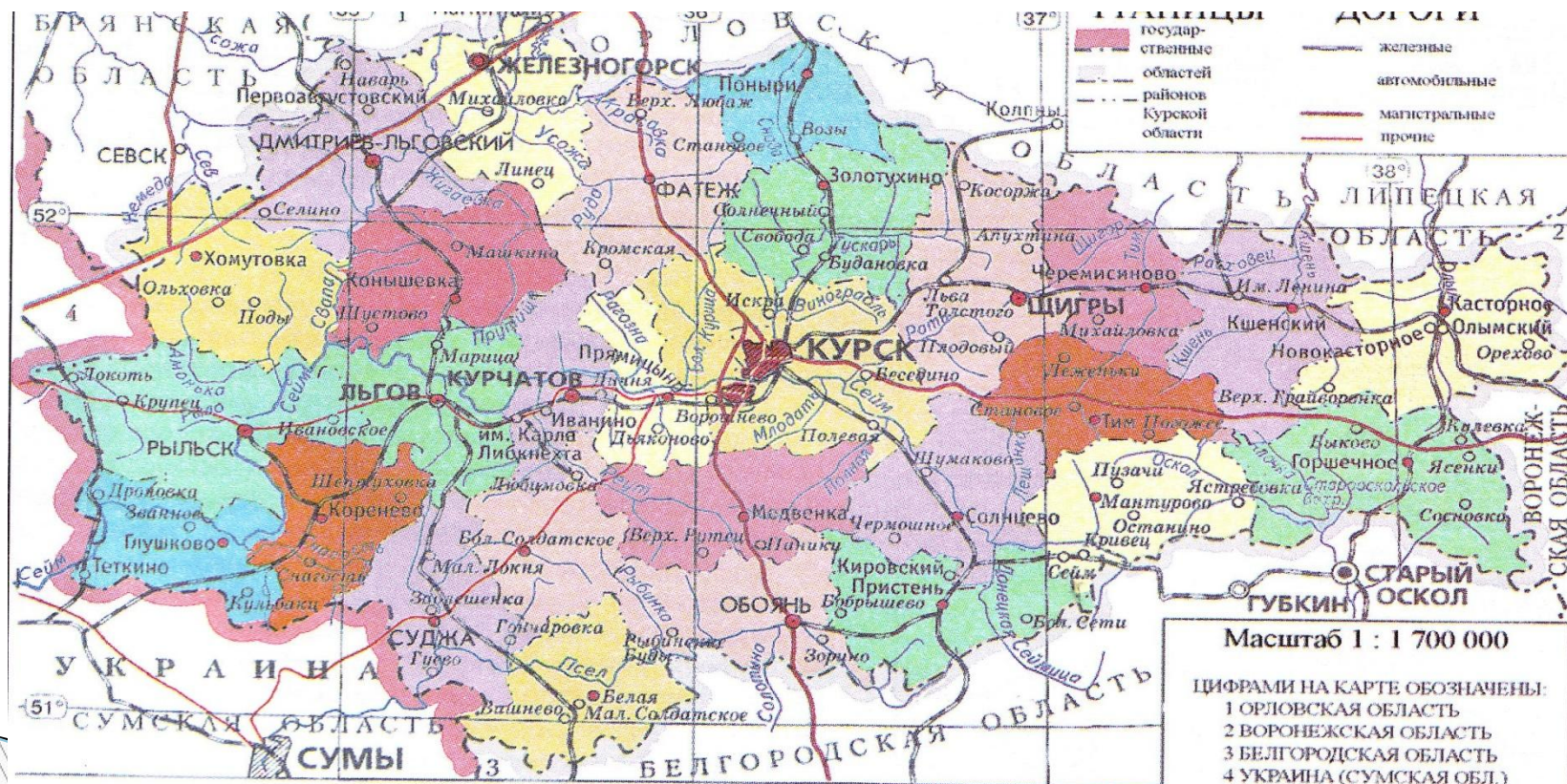
- Курская область входит в состав ЦЧР и соседствует с Центральным экономическим районом



НАСЕЛЕННЫЕ ПУНКТЫ			
	более 446 тыс. жителей		от 50 до 100 тыс. жителей
	от 100 до 300 тыс. жителей		от 10 до 50 тыс. жителей
			менее 10 тыс. жителей
<b>КУРСК</b>	Центры областей	<b>СУДЖА</b>	Города районного подчинения
<b>ЛЬГОВ</b>	Города областного подчинения	<b>Медвенка</b>	Поселки городского типа
			Населенные пункты

# По отношению к транспортным путям:

Через территорию области проходят две ж/д магистрали: Москва – Харьков и Воронеж- Киев; с севера на юг область пересекает автомагистраль Москва- Симферополь, с запада на восток Рыльск-Борисоглебск, на северо-западе трасса Москва- Киев



**НАСЕЛЕННЫЕ ПУНКТЫ**

более 446 тыс. жителей	от 50 до 100 тыс. жителей	<b>КУРСК</b> Центры областей	<b>СУДЖА</b> Города районного подчинения
от 100 до 300 тыс. жителей	от 10 до 50 тыс. жителей	<b>ЛЫГОВ</b> Города областного подчинения	Медвенка Поселки городского типа
менее 10 тыс. жителей			Населенные пункты

# Задание:

- ▣ 1. на к/к выделить Курскую область, ЦЧР, государственную границу России, центры регионов, с которыми граничит Курская область.

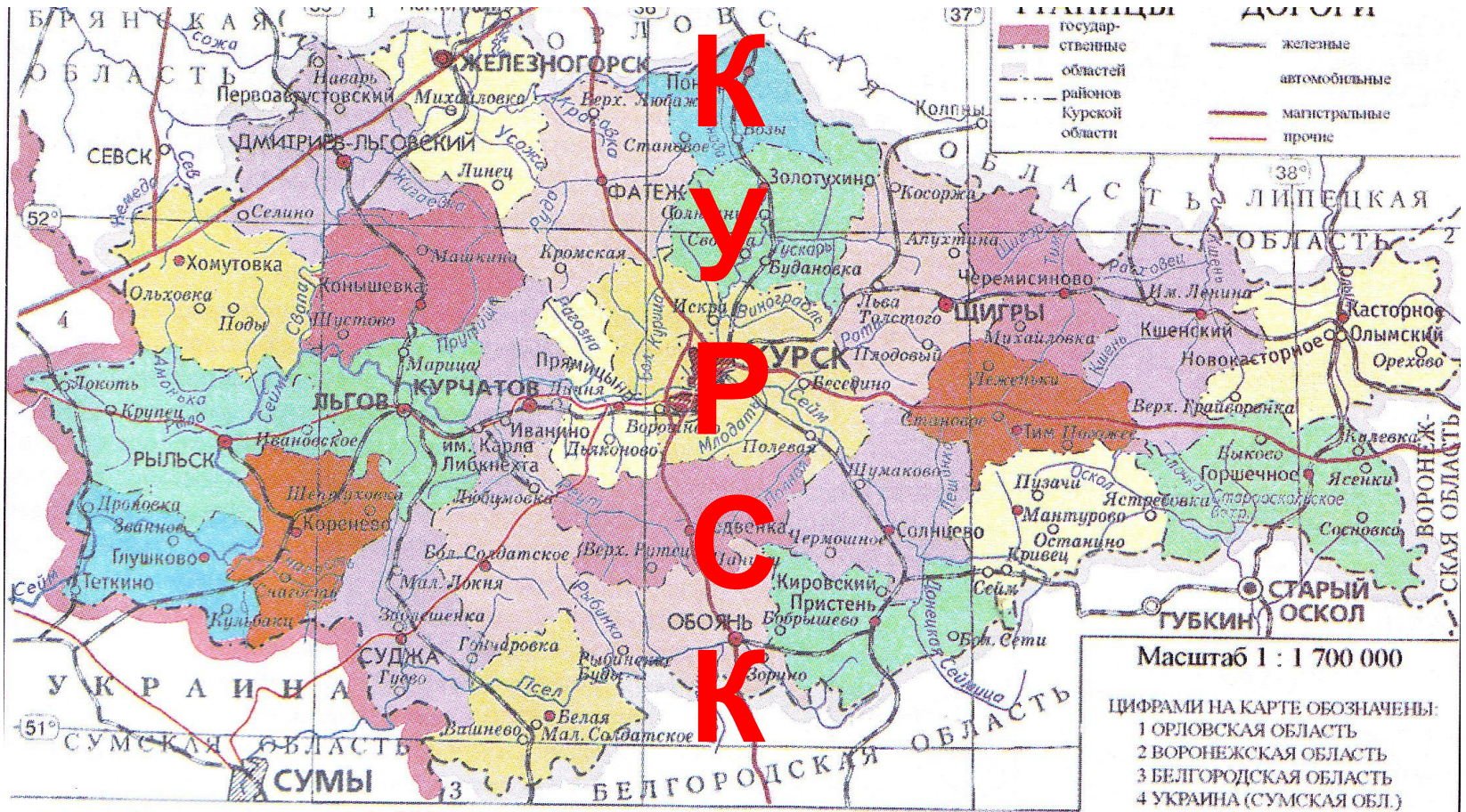
# Задание:

- 1. Составьте схему:  
□ +ЭГП            -ЭГП
- 2. Сделайте вывод об ЭГП Курской области и ответьте на вопрос: Какое влияние оказывает ЭГП на социальное и экономическое развитие Курской области?- запишите в тетрадь.

# Вывод:

- ▣ ЭГП Курской области своеобразно и многогранно. Используя своё приграничное положение, а также близость к экономическому ядру Центральной России она может реализовать потенциал географических факторов развития. Это способствует улучшению территориальной организации хозяйства и повышению качества жизни населения.

# Рефлексия:



более 446 тыс. жителей  
 от 100 до 300 тыс. жителей

**НАСЕЛЕННЫЕ ПУНКТЫ**  
**КУРСК** Центры областей  
**ЛьГОВ** Города областного подчинения

**СУДЖА** Города районного подчинения  
 Медвенка Поселки городского типа  
 Населенные пункты

# Домашнее задание

- 1. Записи в тетради
- 2. заполнить таблицу « Расстояние от Курска до отдельных городов России и зарубежных стран», нанести на к/к эти города и ж/д дороги, ведущие к ним.