

Таблица сложения



Школа России
Математика 1 класс



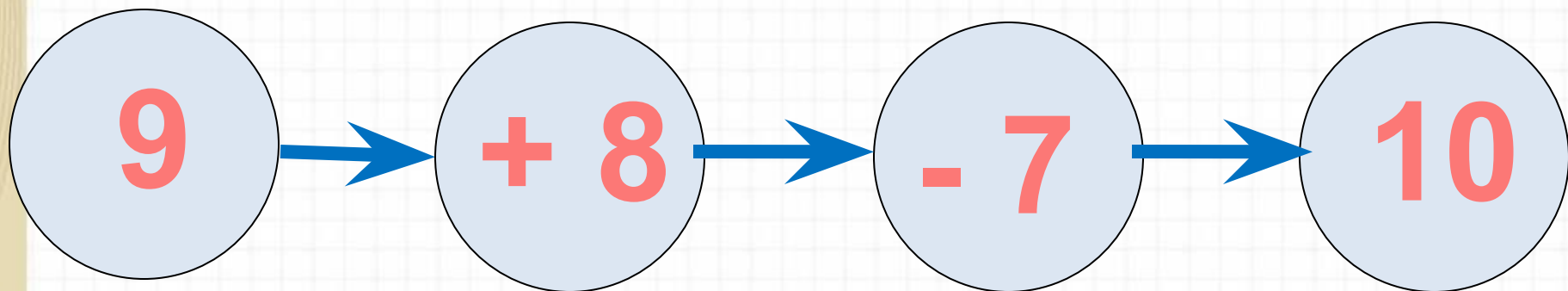
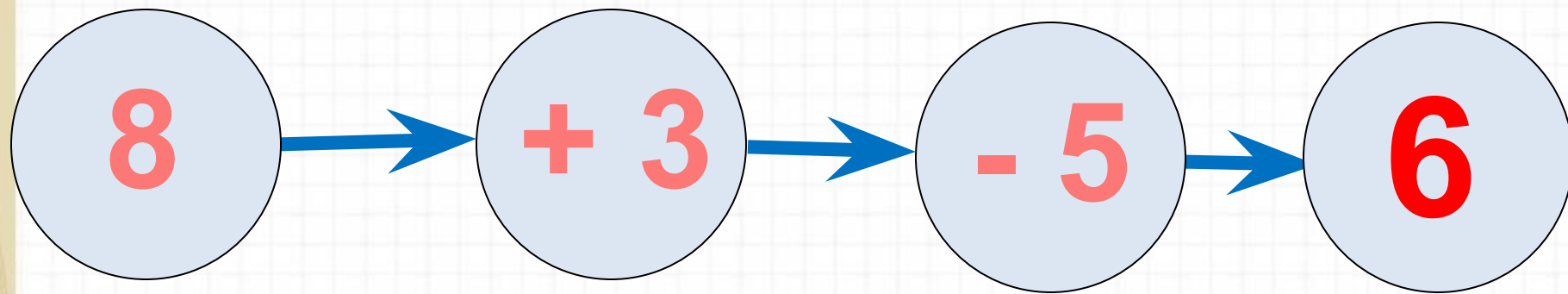


Устный счёт



Найди вагончики
с ответом 14 .

Реши цепочки примеров.




Купили **5** бананов и **7** яблок. За ужином съели **4** фрукта. Сколько всего фруктов осталось?


8

фрукто

$$5 + 7 - 4 = 8$$




Над рекой летели птицы: голубь, щука, **2** синицы,
2 стрижа и **5** угрей. Сколько птиц? Ответ скорей.



5

ПТИЦ


Галя веселее **Оли**, а **Оля** веселее **Иры**. Кто самый веселый?



Галя



Работа по учебнику



стр. 72

Таблица сложения

Проследи, как изменяется первое слагаемое; сумма (рассмотри столбцы, строки).

$9+2=11$	$8+3=11$	$7+4=11$	$6+5=11$
$9+3=12$	$8+4=12$	$7+5=12$	$6+6=12$
$9+4=13$	$8+5=13$	$7+6=13$	
$9+5=14$	$8+6=14$	$7+7=14$	
$9+6=15$	$8+7=15$		
$9+7=16$	$8+8=16$		
$9+8=17$			
$9+9=18$			

- 1) Найди по таблице все примеры с ответом 11, 12, 13, 14, 15, 16, 17, 18.
2) По каждому примеру на сложение составь и реши два примера на вычитание.

**Обрати
внимание!**

**Если первое
слагаемое не
изменяется, а
второе
увеличивается
на 1, то сумма
тоже
увеличивается
на 1.**

- 1) *выполни устно;*
- 2) *для выполнения задания запиши в тетради число и выполни задание.*



Быстро встали, улыбнулись.

Выше-выше потянулись.

Ну-ка, плечи распрямите,

Поднимите, опустите.

Вправо, влево повернитесь,

Рук коленями коснитесь.

Сели, встали. Сели, встали.

И на месте побежали.

Работа в тетради

с. 38 з.1, 2



Повторение



Реши 2 или 3 примера по выбору, записывая их в тетрадь.

$$9 + 7 - 4 - 3 =$$

$$8 + 8 + 4 - 10 =$$

$$11 - 2 + 4 - 3 =$$

Рефлексия

Чему научил вас урок?

Какие задания понравились?



Домашнее задание

Т. с.37 З. 1, 2 (внизу)

