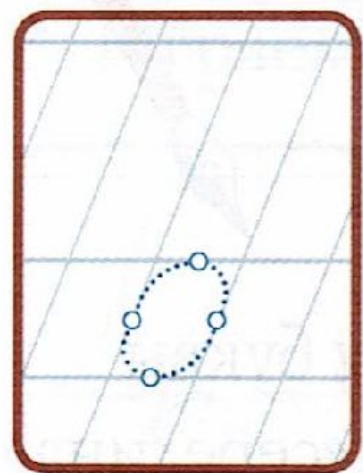


Урок
5

*Точки на средине
границы клетки²⁰*

2. Играем в «Называйку»:




- раскрась точки на границах клетки
- обведи в *образце* букву по контуру, веди линию буквы от точки к точке
- скажи, на сколько частей точка делит каждую границу клетки
- придумай название местам, где расположены точки




**Образец
№ 6**

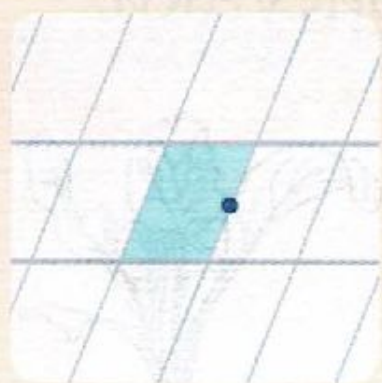
Точки на середине границ клетки




на верхней
границе,
на середине



на нижней
границе,
на середине



на правой
границе,
на середине



на левой
границе,
на середине





Точка на середине границы клетки
делит границу на две равные части

4. Ставь точки на середине границ главных, верхних и нижних клеток.
Работай в паре, проговаривая по образцу.

Ставлю точку в главной клетке:

- на верхней границе*
- на середине*






- выбери и отметь **+** *копию*, которая точь-в-точь повторяет **образец** буквы
- объясни свой выбор, используя слова «клетка», «граница», «точка», «середина»
- объясни Перышку, как помогают точки при письме букв

6. Повторяем все вместе, хором.

Точки нам помогают писать
буквы точь-в-точь, как в **образце**



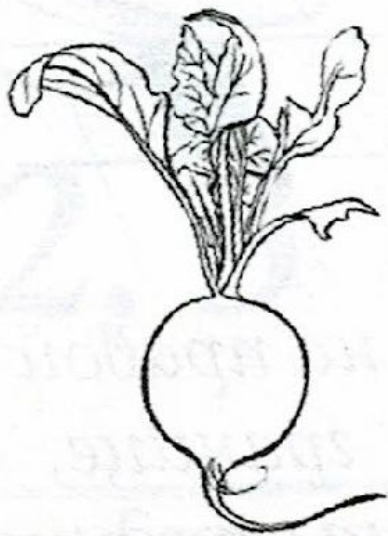

6. Повторяем все вместе, хором.

Точки нам помогают писать
буквы *точь-в-точь*, как в *образце*



Разгадай ребус. Раскрась рисунки.

1, 2



,

НА

