

**Задания по теме: «Северо-  
Западный экономический  
район»**

# Практическая работа

На контурную карту нанести государства и экономические районы, с которыми граничит Северо-Западный экономический район.

Образец

На контурной карте показать основные субъекты федерации и центры субъектов в составе Северо-Западного района.

Образец

На контурной карте обозначьте крупные промышленные центры района, электростанции, порты

Образец



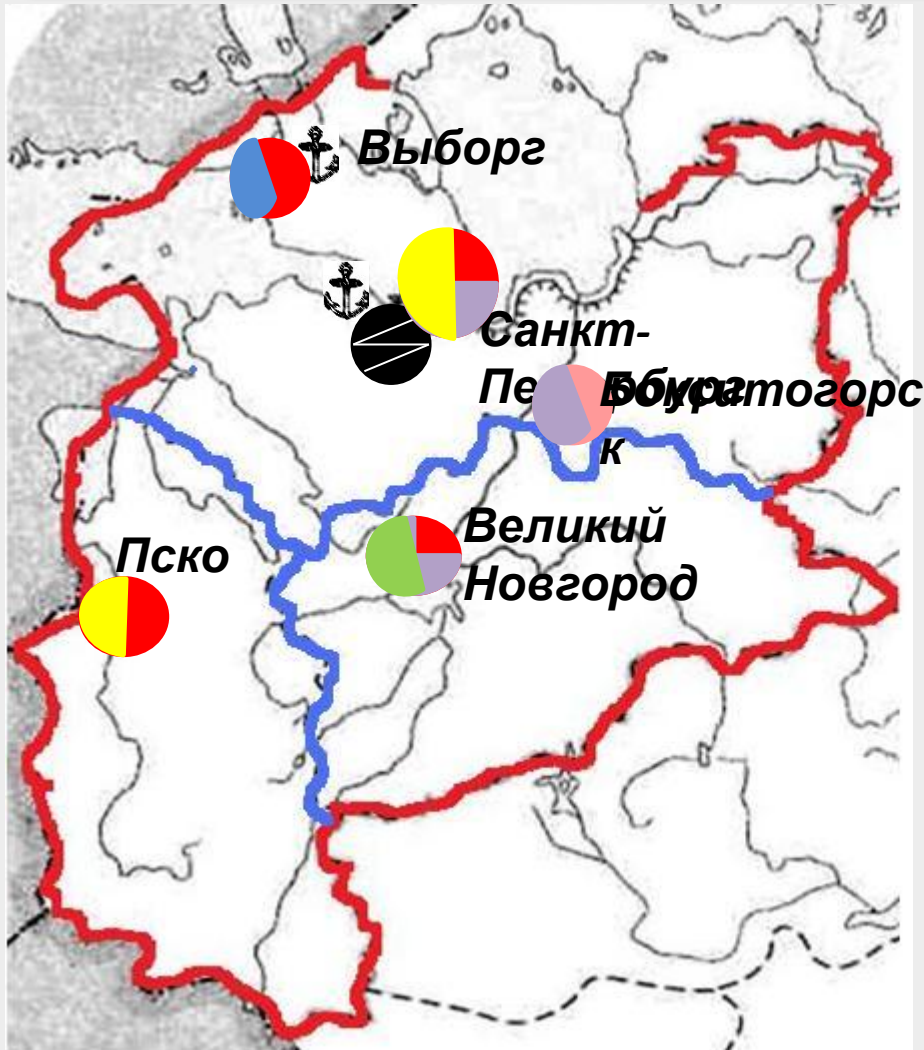
# Практическая работа



# Практическая работа



# Практическая работа



Порты



Ленинградская  
АЭС



Машиностроение



Химическая



Пищевая



Лесная



Легкая



Цветная  
металлургия



# Тест по теме «Северо-Западный район»

1. С какими из перечисленных стран граничит Северо-Западный район?  
А. Польша и Финляндия  
В. Эстония и Швеция  
Б. Латвия и Финляндия  
Г. Литва и Словакия
2. В состав Северо-Западного экономического района входит...  
А. Тверская область  
В. Смоленская область  
Б. Псковская область  
Г. Ярославская область
3. Что является главной чертой географического положения района?  
А. Положение в пределах Русской равнины  
В. Бывшее столичное положение  
Б. Приморское положение  
Г. Крайнее положение
4. Какая часть населения проживает в Северо-Западном районе?  
А. 5,6%  
В. 8,5%  
Б. 10,5%  
Г. 12,4%
5. Северо-Западный экономический район специализируется на  
А. Черной металлургии  
В. Электроэнергетике  
Б. Химической промышленности  
Г. АПК

Проверк

а



1. С какими из перечисленных стран граничит Северо-Западный район?  
А. Польша и Финляндия  
В. Эстония и Швеция  
Б. Латвия и Финляндия  
Г. Литва и Словакия
2. В состав Северо-Западного экономического района входит...  
А. Тверская область  
В. Смоленская область  
Б. Псковская область  
Г. Ярославская область
3. Что является главной чертой географического положения района?  
А. Положение в пределах Русской равнины  
В. Бывшее столичное положение  
Б. Приморское положение  
Г. Окраинное положение
4. Какая часть населения проживает в Северо-Западном районе?  
А. 5,6%  
В. 8,5%  
Б. 10,5%  
Г. 12,4%
5. Северо-Западный экономический район специализируется на  
А. Черной металлургии  
В. Электроэнергетике  
Б. Химической промышленности  
Г. АПК





# Вопросы

1

Ленинградская область, Псковская область,  
Новгородская область, Санкт-Петербург

2

Машиностроение, химическая, пищевая,  
цветная металлургия, лесная

3

Ленинградская АЭС

4

Алюминиевая промышленность

5

Приморское положение





**Задание 1.** По данным таблицы построить столбчатую диаграмму «Отраслевая структура промышленности Северо-Западного района»

Отрасль промышленности	Доля в промышленной продукции, %
Электроэнергетика	4,4
Топливная	2,5
Черная металлургия	1,0
Цветная металлургия	1,5
Химическая промышленность	4,3
Машиностроение	7,4
Лесная промышленность	7,1
Промышленность строительных материалов	4,7
Легкая промышленность	4,9
Пищевая промышленность	5,0

2

3

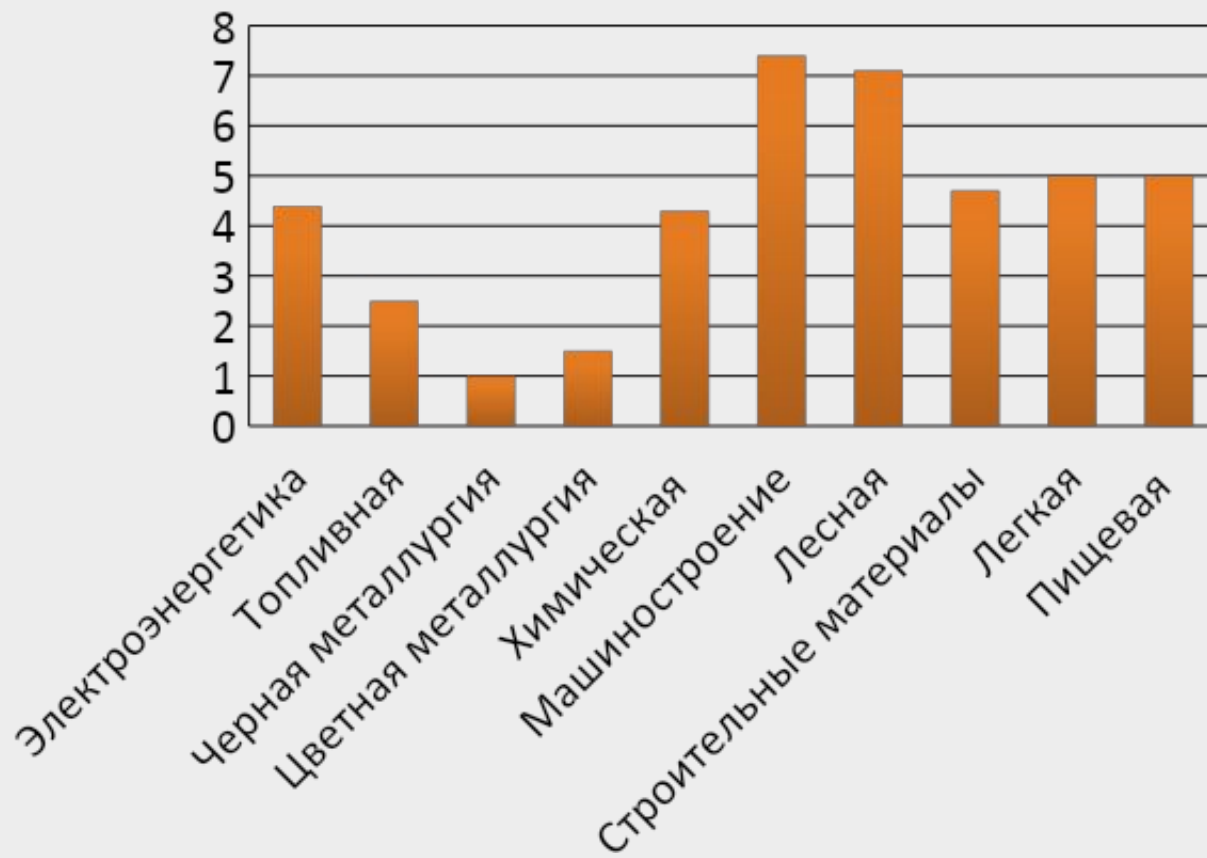
4

5

Образец



# Образец к 1 заданию



<b>Задание 2. Выберите верные утверждения.</b>		<b>Да</b>	<b>Нет</b>
1	Северо-Западный - самый маленький экономический район России.	<input type="radio"/>	<input type="radio"/>
2	Плотность населения Северо-Западного района одна из самых низких в России.	<input type="radio"/>	<input type="radio"/>
3	Отличительная черта Северо-Запада –выгодное положение по отношению к торговым путям.	<input type="radio"/>	<input type="radio"/>
4	Санкт-Петербург –центр алюминиевой промышленности.	<input type="radio"/>	<input type="radio"/>
5	Развиты все виды транспорта. Обеспеченность транспортной сетью одна из самых высоких в стране.	<input type="radio"/>	<input type="radio"/>
6	Район обеспечен высококвалифицированными ресурсами.	<input type="radio"/>	<input type="radio"/>
7	Машиностроение, химическая, легкая и пищевая промышленность –отрасли специализации.	<input type="radio"/>	<input type="radio"/>

1

3

4

5



**Вариант 3** Определите по описанию субъект федерации, входящий в состав Северо-Западного экономического района.

1

2

3

4

4. Областной центр – старейший город России, столица средневековой феодальной республики, расположен на р. Волхов. Здесь производят азотные и комплексные удобрения. Здесь родился известный географ и путешественник Н.Н. Миклухо-Маклай.

Субъекты федерации	Ответ
Псковская область	2
Нижегородская область	4
Ленинградская область	3
Санкт-Петербург	1

Проверка

1

2

4

5



**Задание 4** Имена каких известных людей России связаны с Северо-Западом? Составьте таблицу, в которую занесите:

а/имена и фамилии этих людей

б/годы их жизни

в/место проживания

г/кем они являлись /ученый, поэт, изобретатель и др./

д/чем прославились /их заслуги перед Россией/

При заполнении таблицы можно пользоваться ресурсами интернет

1

2

3

5

Образец

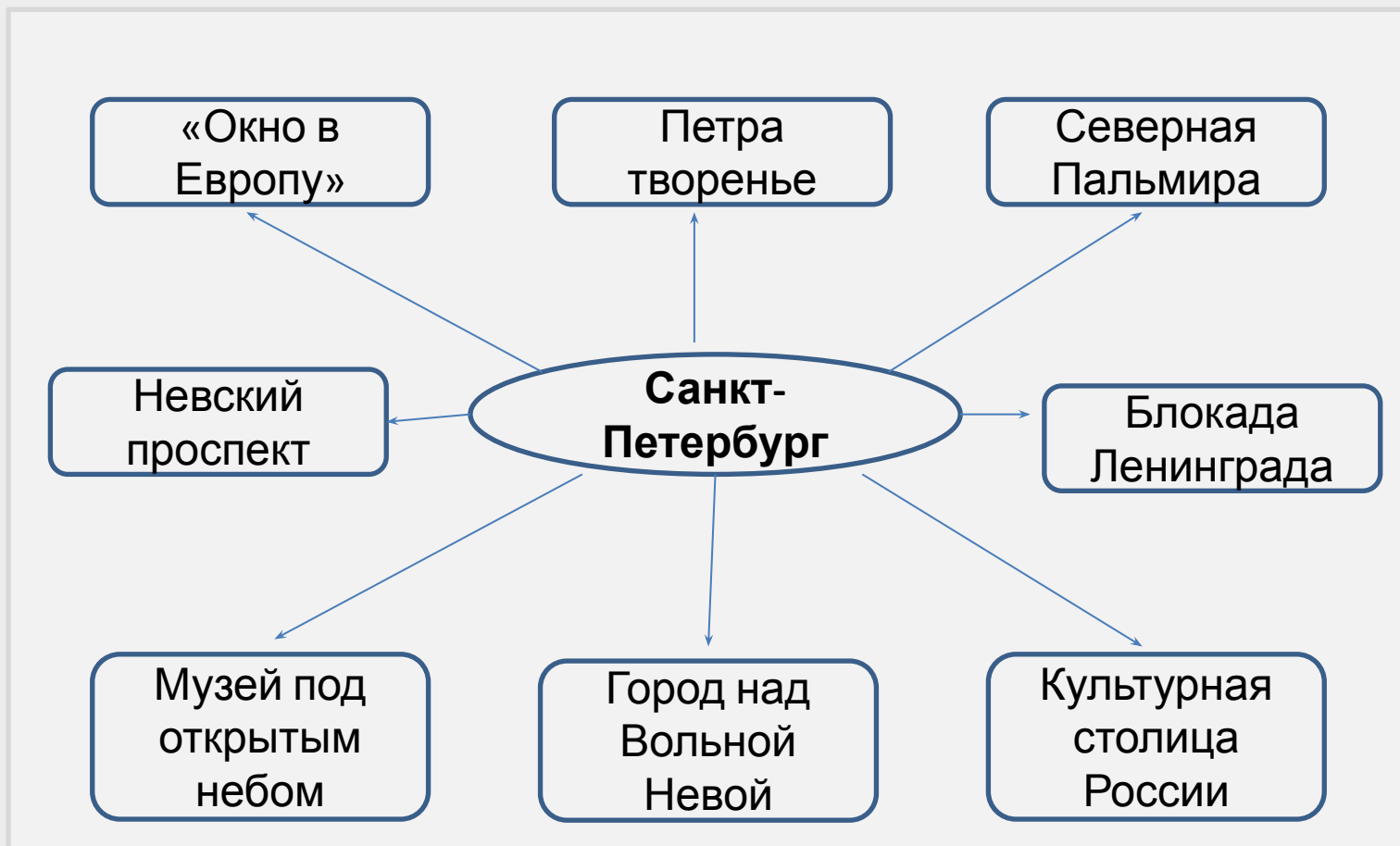


# Образец к 4 заданию

Имена и фамилии знаменитых людей	Годы жизни	Место проживания	Область деятельности	Заслуги
Пушкин А.С.	1799-1837	г.Санкт-Петербург Михайловское Псковская	Литература	Великий русский поэт
Ушаков Ф.Ф.	1745-1817	область г.Санкт-Петербург	Военное дело	Адмирал, участник русско-турецкой войны
Пржевальский Н.М.	1839-1888	г.Санкт-Петербург	География	Исследователь Центральной Азии



**Задание 5** Используя строчки из стихов, фрагменты литературных произведений, метафоры составьте кластер «Санкт-Петербург в жизни россиян» Образец



1

2

3

4





# Вопросы ГИА и ЕГЭ

А1. В состав Северо-Западного экономического района входит...

А. Тверская область

В. Смоленская область

Б. Псковская область

Г. Ярославская область

А2. С какими из перечисленных стран граничит Северо-Западный район?

А. Белоруссия и  
Финляндия

В. Латвия и Норвегия

Б. Эстония и Швеция

Г. Литва и Словакия

А3. Какая часть населения России проживает в Северо-Западном райо

А. 5%

В. 10,5%

Б. 8,5%

Г. 12,4%

Ответы

1-Б; 2-А; 3-  
А



В1. К берегам какого залива имеет выход Ленинградская область?

Ответ

Финский залив

В2. Используя данные таблицы, определите среднюю плотность населения в Псковской области. Ответ запишите цифрами.

Регион	Площадь территории , тыс.км <sup>2</sup>	Численность населения, тыс. чел.
Псковская область	55,399 тыс км	673,5

Ответ

12 чел.на 1 км<sup>2</sup>

В3. Расположите перечисленные города Северо-Западного района в порядке увеличения численности их населения

А) Псков  
Б) Великие Луки  
Новгород

В) Выборг  
Г) Великий

Ответ

В,Б,Г,А



С1. Какие факторы способствуют развитию в пределах Северо-Западного района туристско-рекреационного комплекса? Укажите не менее двух факторов.

1. Многочисленные памятники истории и культуры в Великом Новгороде, Пскове, Санкт-Петербурге и городах Санкт-Петербургской агломерации.
2. Хорошо развитая инфраструктура района.

С2. Чем обусловлено размещение алюминиевого завода в городе Волхов Ленинградской области? Укажите не менее двух факторов

1. Наличие ГЭС, поскольку производство металлического алюминия- энергоемкое производство.
2. Наличие бокситов /Тихвин/ и глиноземных заводов в г. Пикалево и г. Бокситогорске.

