




1 килограмм — 1 кг



ИСПОЛЬЗУЮТ В БЫТУ



ИСПОЛЬЗУЮТ В БЫТУ



ИСПОЛЬЗУЮТ В БЫТУ



ИСПОЛЬЗУЮТ В ТОРГОВЛЕ



ИСПОЛЬЗУЮТ В ТОРГОВЛЕ



ИСПОЛЬЗУЮТ В ПРОМЫШЛЕННОСТИ



ИСПОЛЬЗУЮТ В ПРОМЫШЛЕННОСТИ




ИСПОЛЬЗУЮТ В ПРОМЫШЛЕННОСТИ




ИСПОЛЬЗУЮТ В ПРОМЫШЛЕННОСТИ



1 Что выбрал каждый покупатель?



2 Два мешка с капустой весят 46 кг. Один мешок на 6 кг тяжелее другого. Сколько килограммов весит каждый мешок?



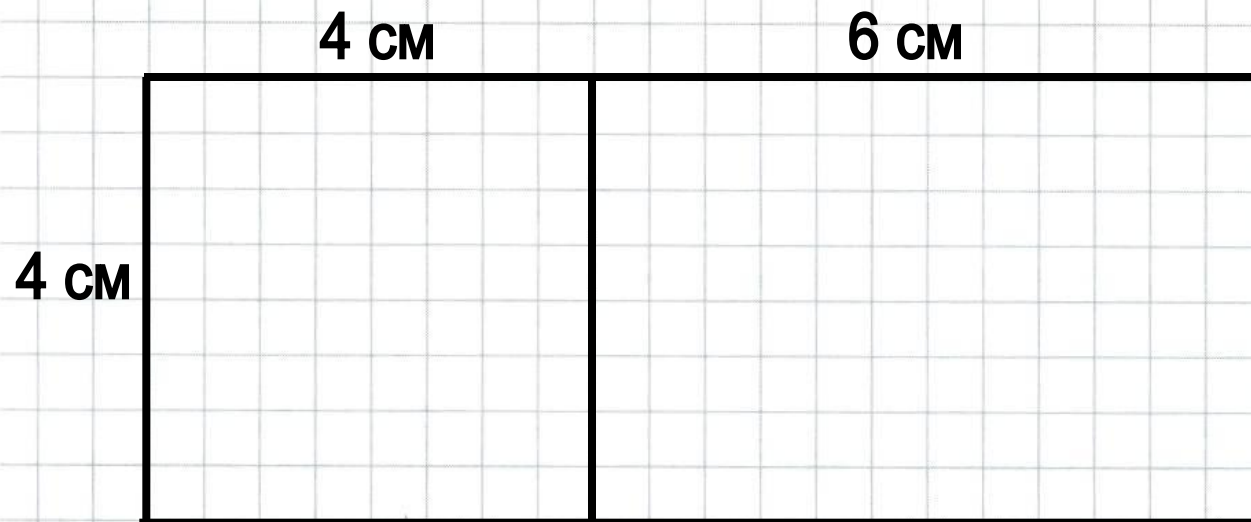
1) $46 - 6 = 40$ (кг) - сделали вес капусты

в мешках одинаковым

2) $40 = 20 + 20$ кг во втором мешке

3) $20 + 6 = 26$ (кг) - в первом мешке

- 4 Прямоугольник, длина которого 10 см, а ширина 4 см, разрезали на квадрат и прямоугольник. Найди периметры этих фигур.



P_1

P_2

- 5 В двух вазах лежат яблоки. Если из одной вазы переложить в другую 2 яблока, то яблок в вазах станет поровну. На сколько яблок в одной вазе больше, чем в другой? **4**

МОЛОДЕЦ!