




**Учим**



**географию**



**играя**





<b><u>1</u></b>	<b><u>2</u></b>	<b><u>3</u></b>
<b><u>4</u></b>	<b><u>5</u></b>	<b><u>6</u></b>
<b><u>7</u></b>	<b><u>8</u></b>	<b><u>9</u></b>

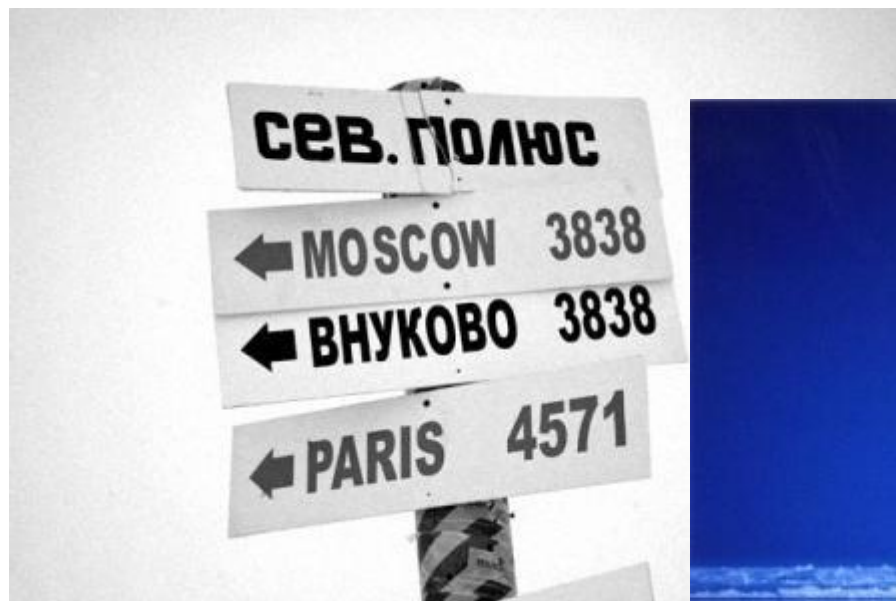
Жители Древней Индии представляли Землю в виде  
половины шара, который опирается на слонов, а те в свою  
очередь стоят на...



**ЧЕРЕПАХЕ**



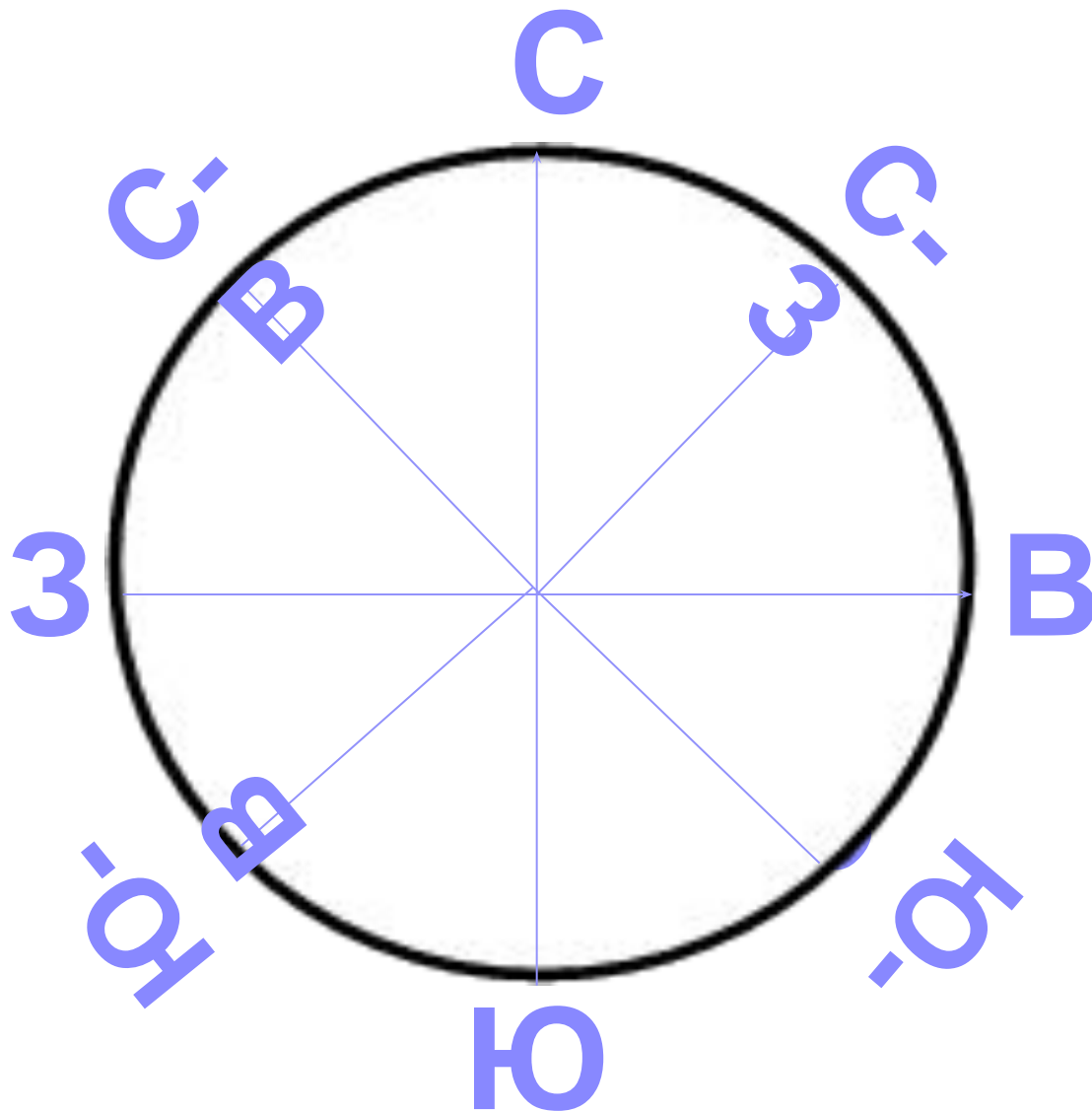
Где на земном шаре можно построить дом,  
все окна которого смотрят на юг?



**На северном  
полюсе**




**Назовите основные и промежуточные стороны горизонта и расставьте их на схеме**






Что обозначают эти условные знаки?



**КОЛОДЕЦ**



**МОСТ**



**СМЕШАННЫЙ ЛЕС**



**БОЛОТО**



**Биосфера земли**

**Воздушная оболочка**

**Атмосфера**

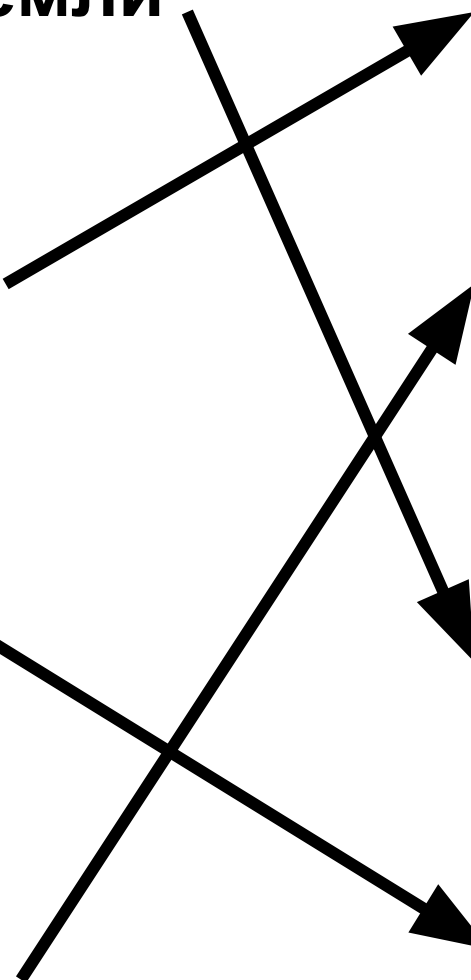
**Водная оболочка**

**Литосфера**

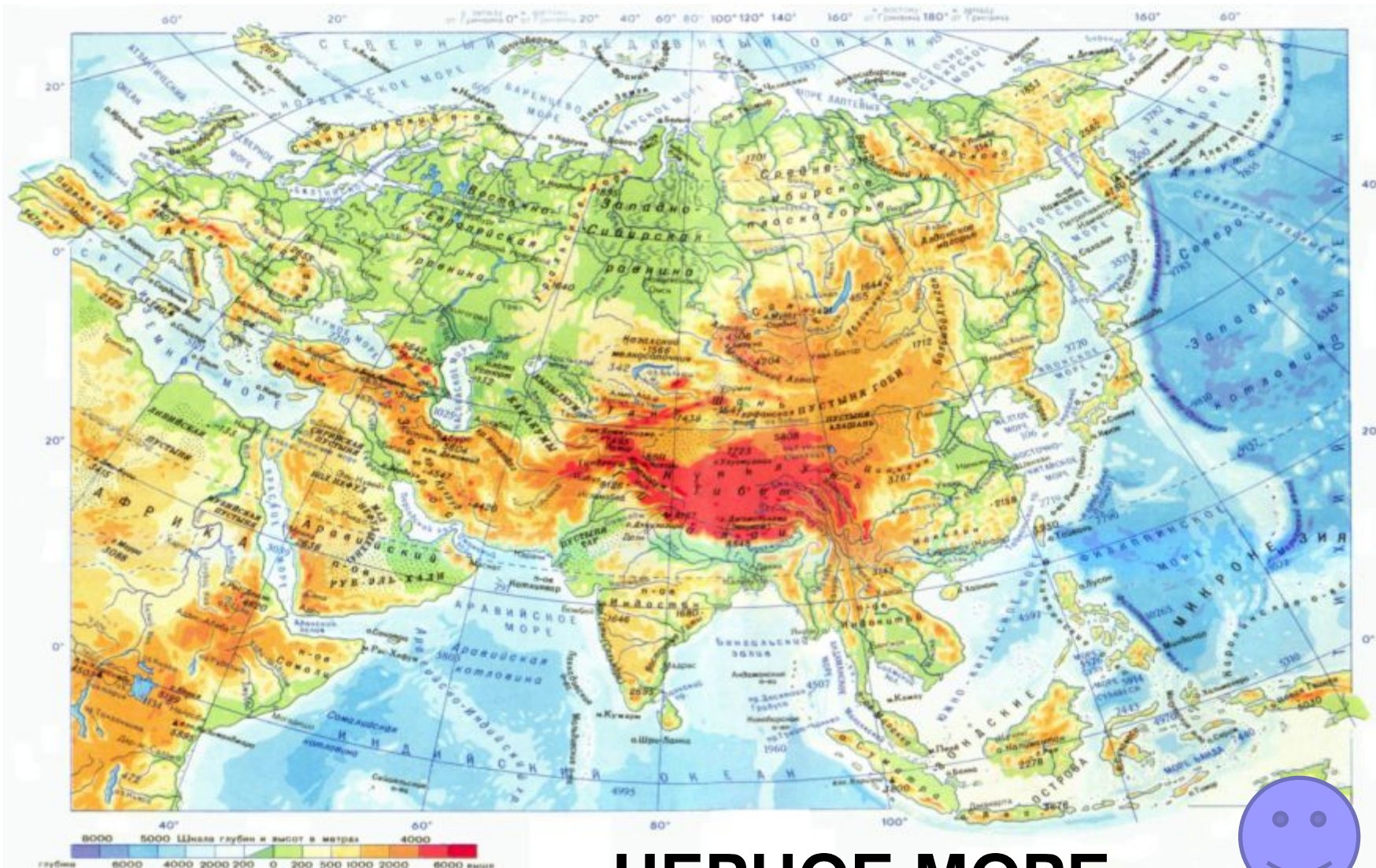
**Оболочка, где обитают  
живые организмы**

**Гидросфера**

**Каменная оболочка**



Используя карту, определите какое море глубже  
Чёрное или Северное?




**ЧЕРНОЕ МОРЕ**





Почему землетрясения особенно опасны в горах и крупных городах?





В каком направлении от Южной Америки находится:

а) Антарктида;

б) Африка;

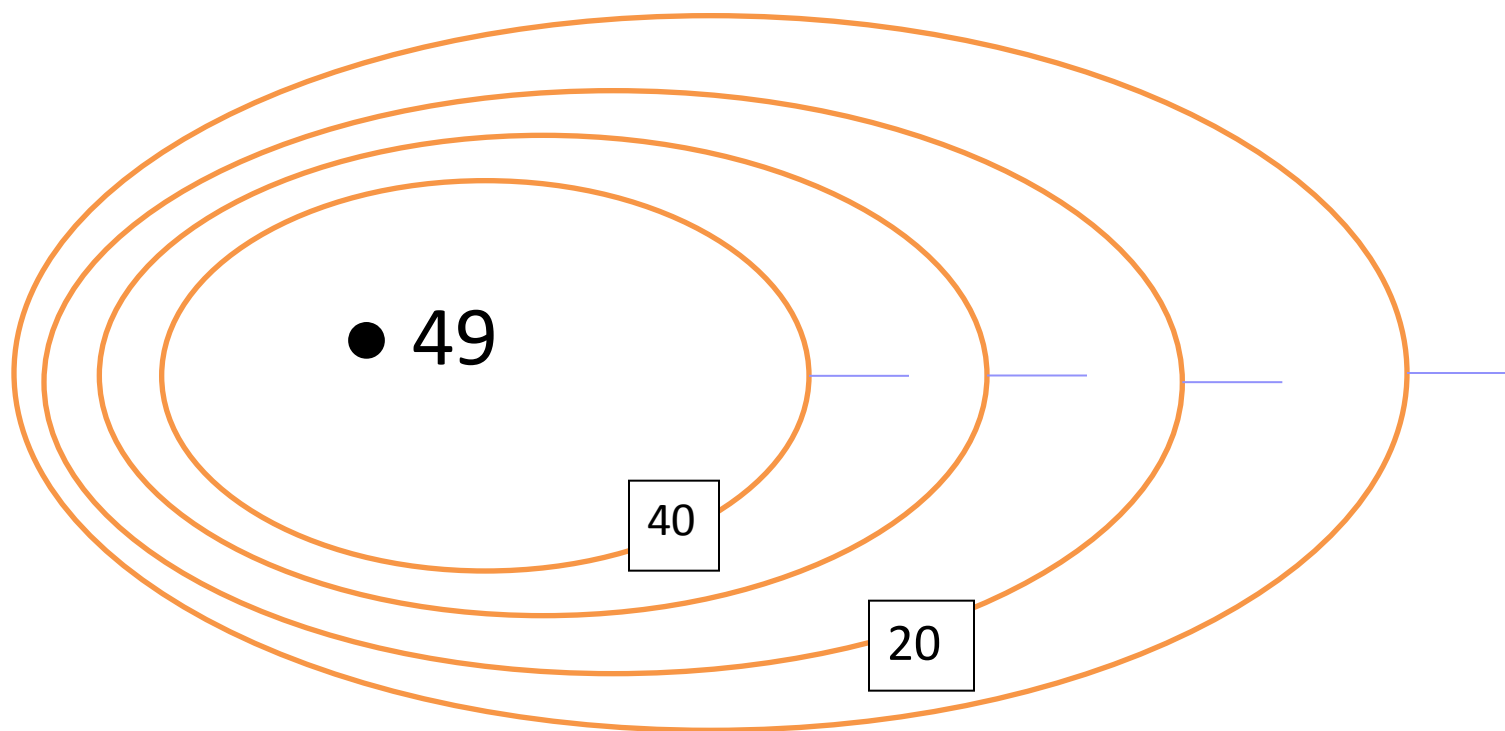
в) Евразия



**Антарктида** – на юге  
**Африка** – на востоке  
**Евразия** – на северо - востоке

## Какая форма рельефа изображена?

- Какова абсолютная высота этого объекта?
- Через сколько метров проведены горизонтали?
- Какой склон объекта крутой?



<b>5</b>
<b>3</b>

<b>1</b>		<i>Г</i>				
----------	--	----------	--	--	--	--

<b>2</b>		<i>О</i>		<b>7</b>		
----------	--	----------	--	----------	--	--

<i>Г</i>
<i>Р</i>
<i>А</i>

	<b>6</b>				<i>Ф</i>
--	----------	--	--	--	----------


			<b>8</b>
<b>4</b>			
<i>Я</i>			




<b>5</b>	Э
К	
В	
А	
Т	
О	
<b>3</b>	Р

<b>1</b>	М	А	<i>Г</i>	Е	Л	А	Н
----------	---	---	----------	---	---	---	---

<b>2</b>	К	<i>О</i>	М	<b>7</b>	П	А	С
----------	---	----------	---	----------	---	---	---

<i>Г</i>	Л
<i>Р</i>	А
<i>А</i>	Н

<b>6</b>	Л	Ь	Е	<i>Ф</i>
----------	---	---	---	----------

У
Н
А

<b>4</b>	<i>И</i>	Д	Р	<b>8</b>	К
<i>Я</i>				О	

р
А

# Путешествие в глубь Земли

**ЗАДАЧА:** Шахтёры добывают уголь в шахте на глубине 1600 м (1000м), а температура на поверхности  $+5^{\circ}\text{C}$ . Определите температуру в шахте.



- С глубиной в земной коре увеличивается давление и температура.
- На каждые 100 м температура повышается на 3 градуса.






3 буква



3 буква




2 буква



2 буква




4 буква



5 буква



3 буква



1 буква



4 буква

Всякое слово без дела ,

НИЧТОЖНО и ПУСТО .



# Итоги:

18-20 баллов – «5»

14-17 баллов – «4»

9-13 баллов – «3»

